


1


Сколько треугольников на рисунке?



Ответ: _____.

2

Гале нужно раскрасить 17 цветков. Она раскрасила 9 цветков. Сколько цветков осталось раскрасить?



Ответ: осталось раскрасить цветков: _____.

$$17-9=8 \text{ (u.)}$$

3

У Веры было 8 тетрадей. Сестра купила ей ещё 5 (в упаковке). Сколько тетрадей стало у Веры?



$$8+5=13 \text{ (m.)}$$

- 4 Маша раскладывает карточки с числами по определённому правилу. На некоторых карточках числа пропущены. Заполни пустые карточки.

8	10	12	—	—	—
---	----	----	---	---	---

8, 10, 12, 14, 16, 18

5

Мише 9 лет, Толя на 2 года старше. Сколько лет Толе?
В ответ запиши только число.

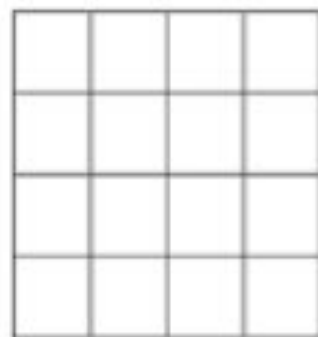



$$9+2=11 \text{ (л.)}$$

$$10 - 8 = 2 \text{ (руб.)}$$

Ответ: 2 рубля.

8

Даша раскрашивает клетки по некоторому правилу.
Сколько клеток она раскрасит на четвёртом рисунке?
Раскрась эти клетки.



10

Ученики записали величины 2 см, 2 дм, 10 см в порядке возрастания и получили разные ответы. Отметь верный ответ .

- 2 дм, 10 см, 2 см
- 2 дм, 2 см, 10 см
- 2 см, 10 см, 2 дм
- 10 см, 2 см, 2 дм

2 см, 10 см, 2 дм

$$3+2+5=10 \text{ (ф.)}$$

Ответ: 10 фруктов.