



Ориентирование



Всего заданий

5

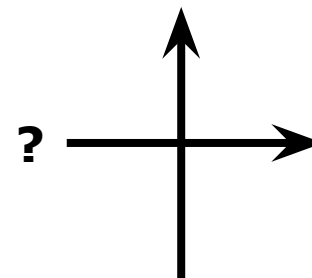
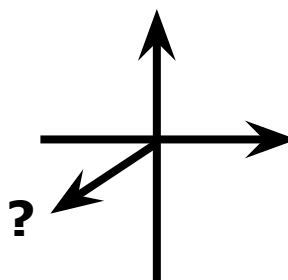
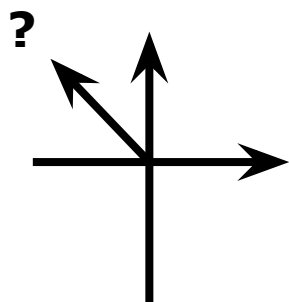
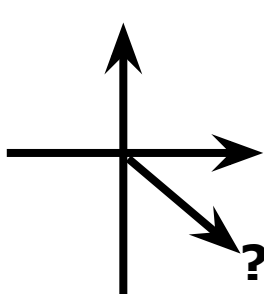
[Начать тестирование](#)

Время тестирования

15

мин.

1. Установите стороны горизонта



запад

юго-восток

северо-запад

юго-запад

Иллюстрации взяты с сайта: http://www.varvar.ru/arhiv/gallery/manuscripts_russian/tituljarnik/

Задание

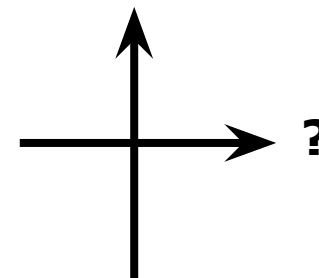
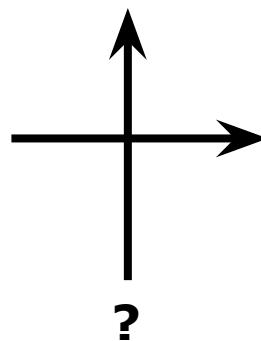
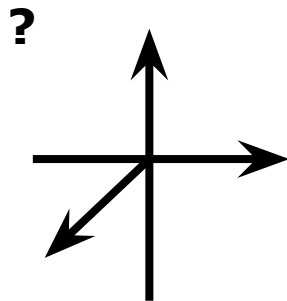
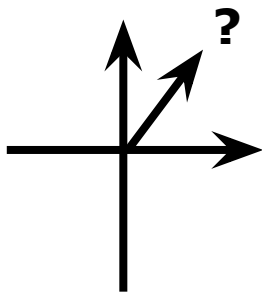
1

6 бал.

Укажите все правильные позиции!

Далее

1. Установите стороны горизонта



Иллюстрации взяты с сайта: http://www.varvar.ru/arhiv/gallery/manuscripts_russian/tituljarnik/



3. Укажите страну, где был изобретён компас



Введите ответ:

4. Определите сторону горизонта у сосны



Введите ответ:

Задание

4

3 бал.



Далее

5. Укажите название прибора



Введите ответ:

Тест создан на основе использования шаблона А.Н.Комаровского

Результаты тестирования

Оценка

Правильных ответов

Набранных баллов

Ошибки в выборе
ответов на задания:

Всего заданий

бал.

Снова

Выход

Затрачено времени