

Урок математики во 2 классе



Вычисли

16

$$4 \cdot 4 - 7 = 9$$

9

$$3 \cdot 3 + 2 = 11$$

12

$$2 \cdot 6 + 6 = 18$$

20

$$5 \cdot 4 - 4 = 16$$

14

$$2 \cdot 7 - 8 = 6$$

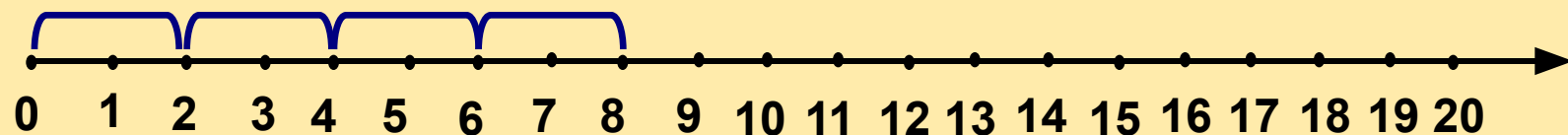
15

$$3 \cdot 5 - 4 = 11$$



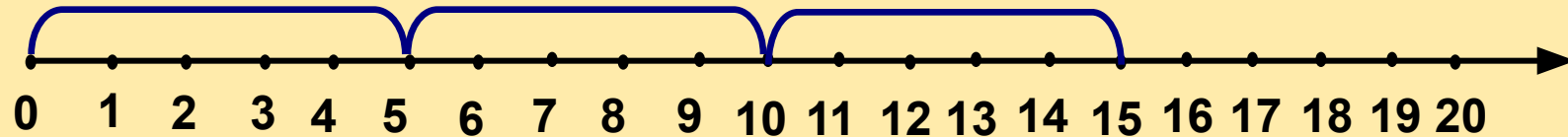
Используя числовой луч, ответь на вопросы:

Сколько раз по 2 содержится в 8?



4 раза

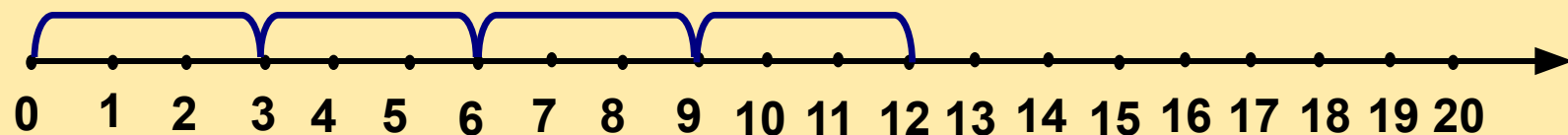
Сколько раз по 5 содержится в 15?



3 раза

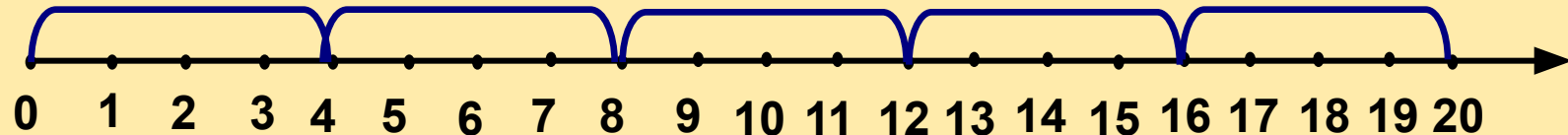
Используя числовой луч, ответь на вопросы:

Сколько раз по 3 содержится в 12?



4 раза

Сколько раз по 4 содержится в 20?



5 раз

Задача

У клоуна в одной руке 6 шаров, в другой 2 шара. Сколько всего у клоуна шаров?



$$6 + 2 = 8 \text{ (ш.)}$$

Задача

У клоуна 6 шаров, 2 шара улетели. Сколько шаров осталось?



$$6 - 2 = 4(\text{ш.})$$

Задача

У клоуна 2 связки шаров, по 6 штук в каждой. Сколько всего шаров у клоуна?



$$2 \times 6 = 12(\text{ш.})$$

Задача

У клоуна 12 шаров в двух руках поровну. Сколько шаров в каждой руке?

В каждой руке по 6 шаров

Это задача на деление



Придумай свою задачу на деление



В каждой корзине по 3 мяча



Клоун разложил 6 мячей в две корзины поровну. Сколько мячей в каждой корзине?

Задача

На каждой тарелке по 2 яблока




Клоун разложил 6 яблок на 3 тарелки поровну. Сколько яблок на каждой тарелке?

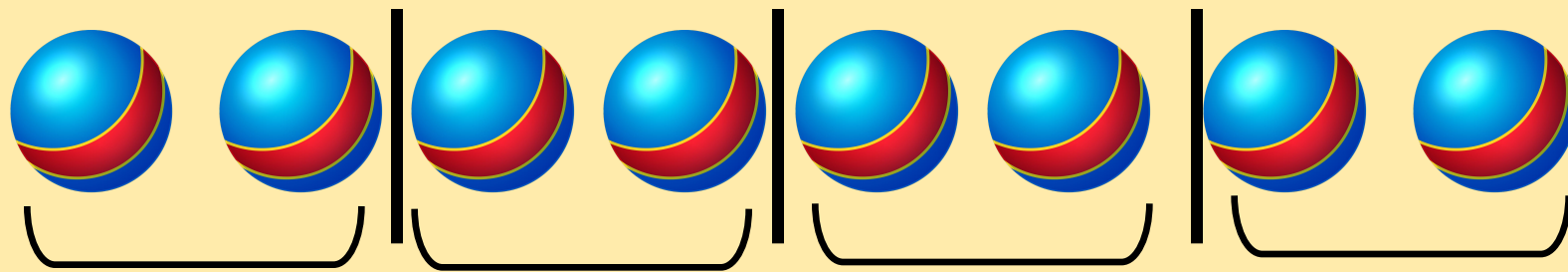
2 (по 2)

Задача

Клоун раздал 8 мячей детям, по 2 мяча каждому. Сколько детей получили мячи?




Проверь!



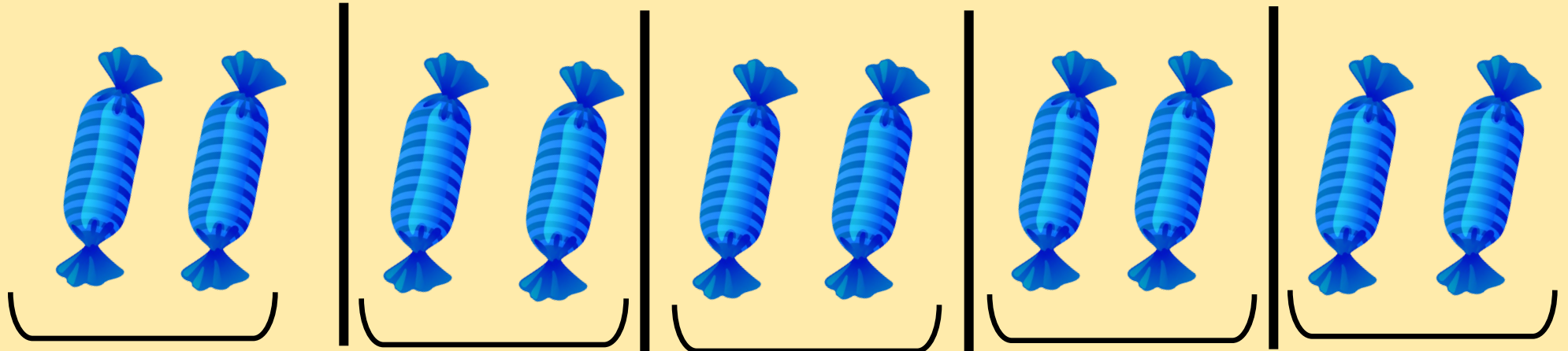
4 ребёнка получили мячи

Задача

Клоун раздал 10 конфет детишкам, по 2 конфеты каждому. Сколько детишек получили конфеты?



Проверь!



5 детей получили конфеты



**Выполни устно № 1, № 3
в учебнике на с.78**



Молодцы!