

# Логические операции И ИЛИ

*«МОРСКОЙ БОЙ»*



а б в г д е ж з и к

1

2

3

4

5

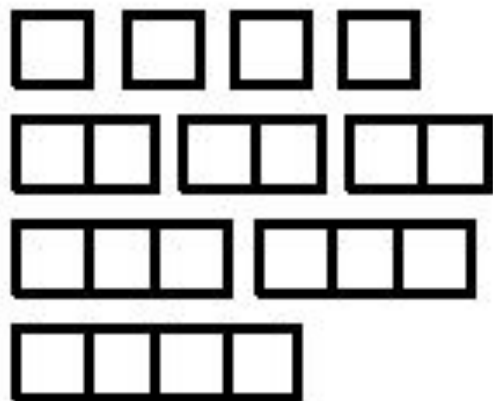
6

7

8

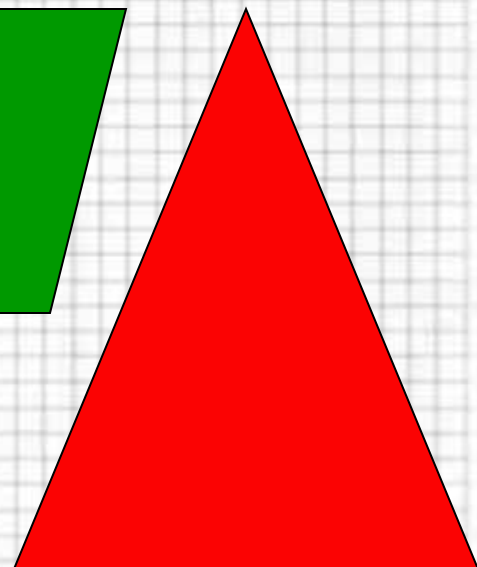

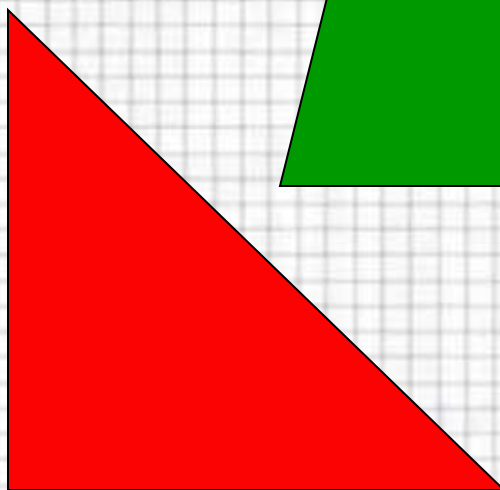

9

10

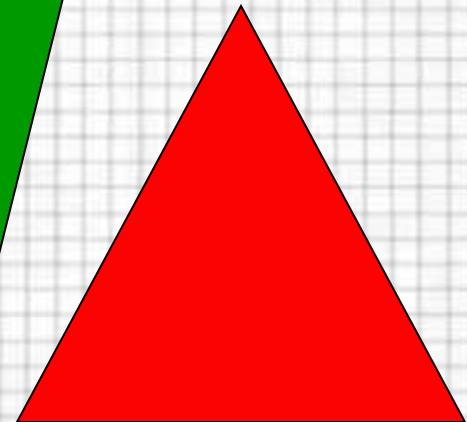



*Истинно или Ложно?*

Каждая фигура – четырехугольник ИЛИ  
треугольник



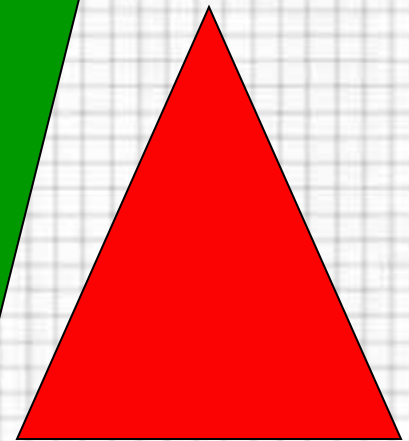



# *Истинно или Ложно?*

Каждая фигура – четырехугольник И  
треугольник



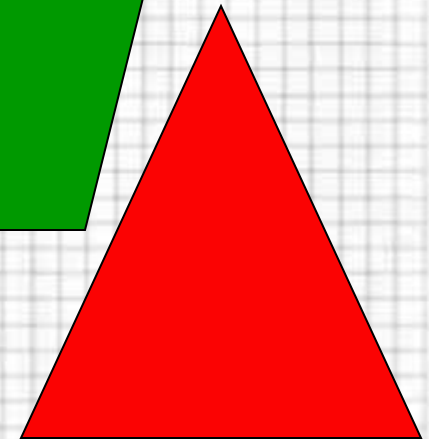



# *Истинно или Ложно?*

Некоторые фигуры – треугольники и красные



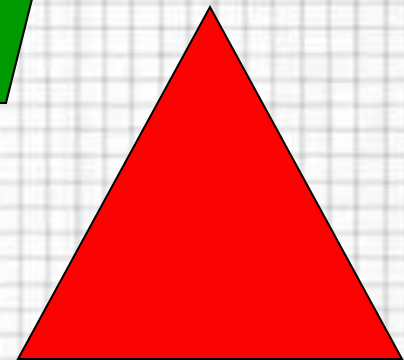



# *Истинно или Ложно?*

Каждый четырехугольник – красный и синий



# *Истинно или Ложно?*

Все фигуры – с углами или без углов.



**Истинно или ложно?**

*Каждая птица  
летает ИЛИ  
плавает*





**Истинно или ложно?**

***Каждая птица  
летает И  
плавает***



**Истинно или ложно?**

***Некоторые  
птицы летают  
ИЛИ плавают***



**Истинно или ложно?**

***Некоторые  
птицы летают  
И плавают***



**Истинно или ложно?**

***6 делится на 3  
и на 2***



***Истинно или ложно?***

***6 делится  
на 3 или на 2***



**Истинно или ложно?**

***9 делится  
на 3 и на 2***



**Истинно или ложно?**

***9 делится  
на 3 или на 2***



ЛЮБЯТ МАТЕМАТИКУ

ЛЮБЯТ РУССКИЙ ЯЗЫК



**Скажи имена детей, которые  
любят математику И  
русский язык**





ЛЮБЯТ МАТЕМАТИКУ

ЛЮБЯТ РУССКИЙ ЯЗЫК




**Скажи имена детей, которые  
любят математику ИЛИ  
русский язык**




# Назовите элементы множества «Хищники И полосатые»




# Назовите элементы множества «Хищники ИЛИ полосатые»



# Назовите элементы множества «Хищники И НЕ полосатые»



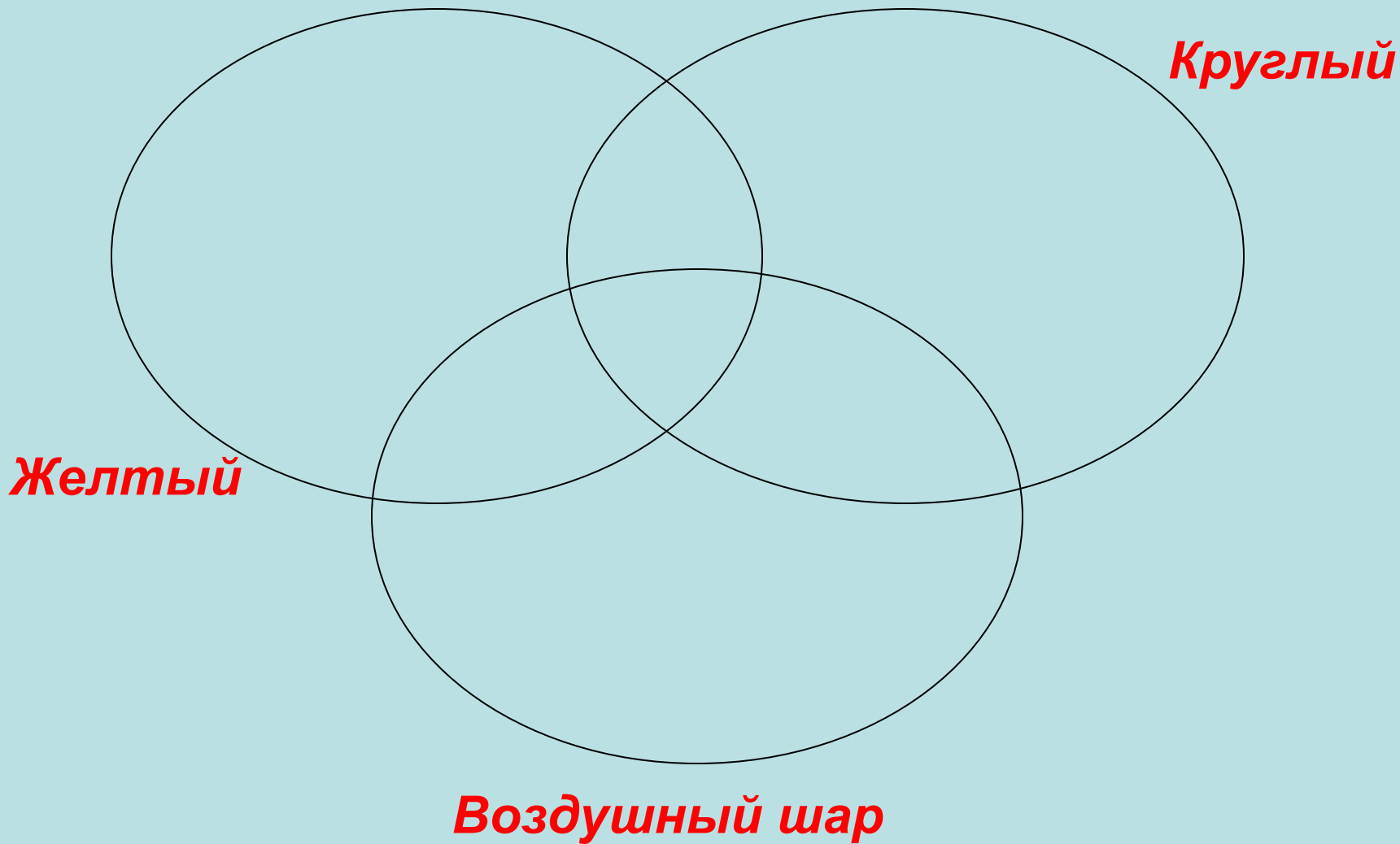
# Назовите элементы множества «НЕ хищники И полосатые»




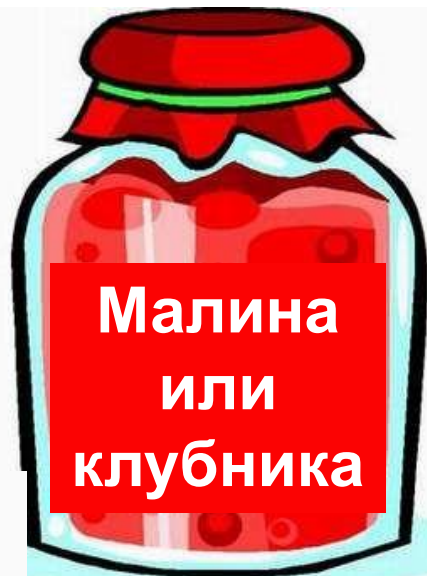
# Назовите элементы множества «НЕ хищники И НЕ полосатые»



# ***Конкурс капитанов***



У Карлсона есть три вида варенья.  
Помоги ему найти клубничное варенье,  
если известно, что все наклейки ложны.





По какой дороге нужно пройти Красной Шапочке, чтобы не встретить Серого Волка, если известно, что один из указателей истинный, а другой – ложный?



*К Серому Волку*

*Или к Серому  
Волку или к  
бабушке*



**Спасибо за урок!**