

*блиц-опрос по теме*  
***Линейная функция***

# Какие функции являются линейными?

- $y = 2x - 3$
- $y = x^3 + 6$
- $y = 0,5x^2$

***Неверн***

**о**



***верно***



Какие функции  
возрастающие?


- $y = 2x + 3$
- $y = -3x + 1$
- $y = 5$

***Неверн***



*верн*

*о*



Какой из графиков параллелен графику функции  $y = 2x$  ?

$$\underline{y = 3x - 4}$$

$$\underline{y = -2x + 5}$$

$$\underline{y = 2x - 7}$$



***Неверн***

**0**



***верно***




График какой из функций параллелен оси ординат?

- $y = 3x - 5$

- $y = 12$

- $x = 9$

***Неверн***




***верно***



График какой из функций параллелен оси абсцисс?

- $y = -x - 5$
- $y = 15$
- $x = 9$

***Неверн***



***верно***





***Спасибо за  
работу!***