

# Случаи вычитания

12 - □

# УСТНЫЙ СЧЁТ

$$2 + 2 =$$

$$6 - 4 =$$



Сосчитай примеры.



$$9 + 6 - 4 =$$

11

$$7 + 7 + 4 =$$

18

$$11 - 3 - 5 =$$

3

$$11 - 6 + 8 =$$

13

После того как съели 4 булочки, их осталось 9.  
Сколько было булочек?



**13 булочек**

$$9 + 4 = 13$$



Аня с мамой к пасхе утром расписали **5** яиц, а днём на **3** больше. Сколько яиц они расписали днём?

**8**

$$5 + 3 = 8$$



Сколько всего яиц расписали Аня с мамой за день?

**13**

$$5 + 8 = 13$$



Андрей такого же возраста, как Гена, а Гена старше Максима. Кто младше: Андрей или Максим?

**Максим**





# НОВЫЙ МАТЕРИАЛ



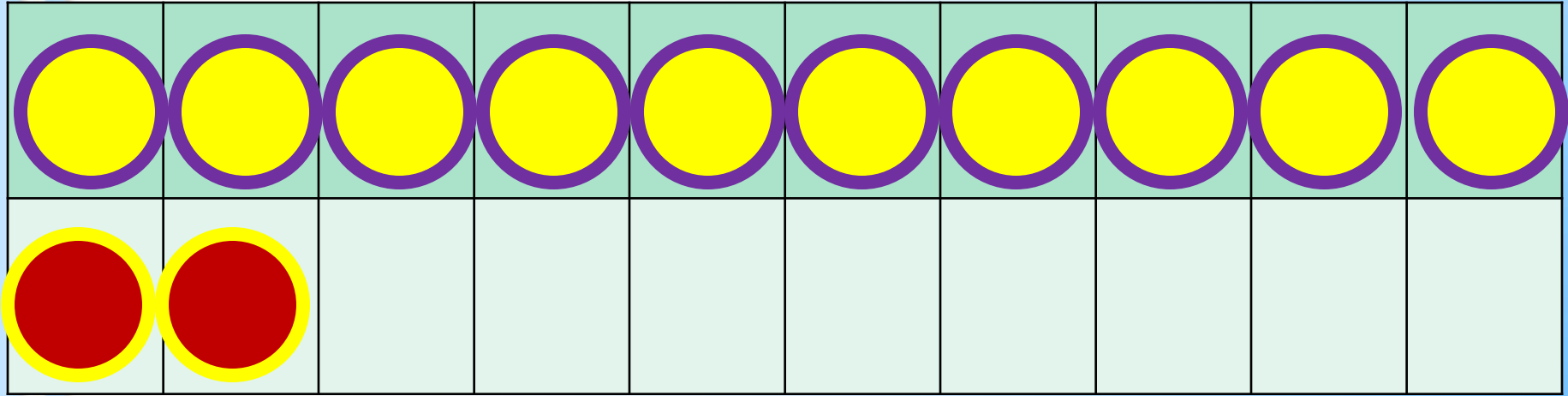
# Состав числа 12



	9	8	7	6
12				
	3	4	5	6

1 способ

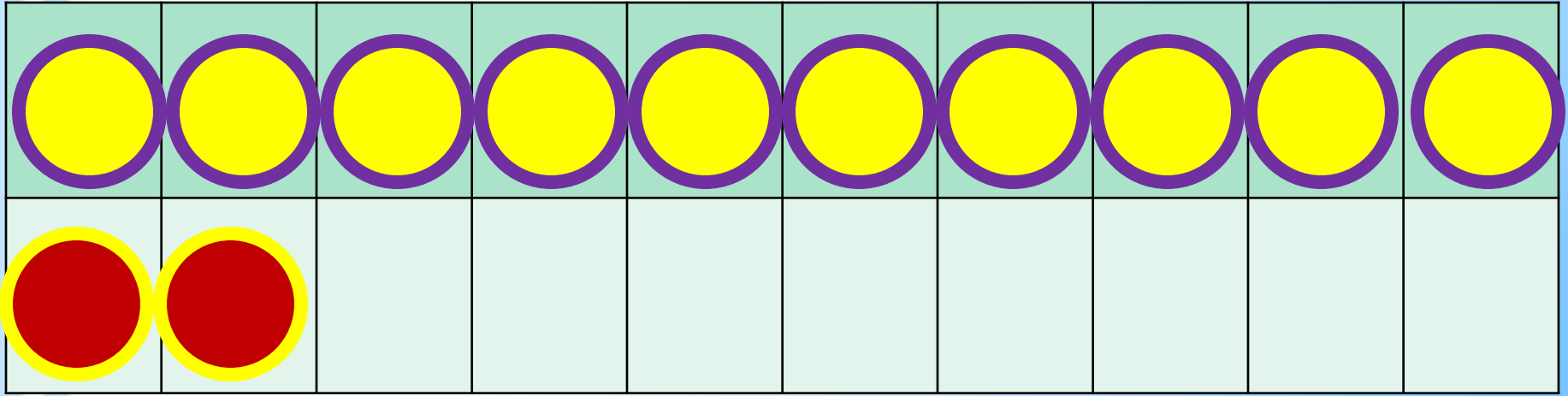




**2 способ**

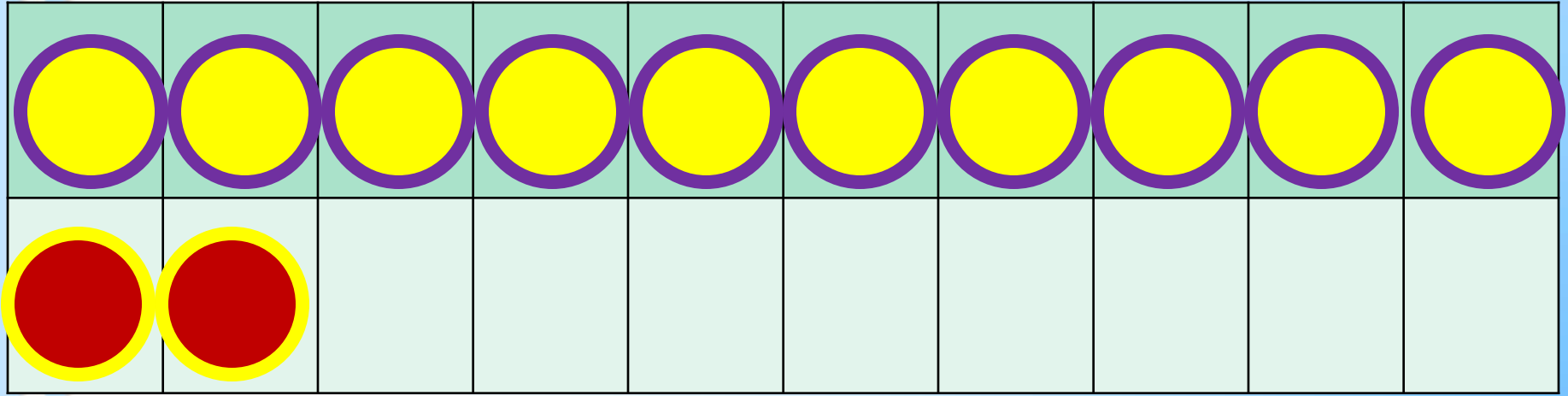
$$12 - 3$$

$$12 - 2 - 1$$



$$12 - 4$$

$$12 - 2 - 2$$



$$12 - 5$$

$$12 - 2 - 3$$

Заполни пропуски.




$$12 - 6 = 12 - 2 - \underline{\quad}$$

$$12 - 7 = 12 - 2 - \underline{\quad}$$

$$12 - 8 = 12 - 2 - \underline{\quad}$$

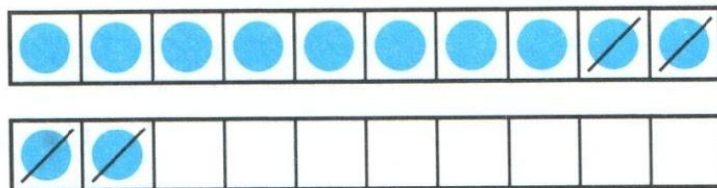
# РАБОТА ПО УЧЕБНИКУ



Стр. 83

Объясни, как из числа 12 вычесть 4.

12	
3	
4	
5	
6	



$$\begin{array}{r} 12 - 4 \\ \hline 12 - 2 - 2 \end{array}$$

Вычисли и запомни.

$12 - 3$	$12 - 4$	$12 - 5$	$12 - 6$
$12 - 9$	$12 - 8$	$12 - 7$	




$$12 - \square$$





# ЗАДАНИЯ ПОВЫШЕННОЙ ТРУДНОСТИ



Одно яйцо варят **4** минуты. Сколько минут надо варить 10 яиц?

**4 МИНУТЫ**



В комнате стояло **10** стульев, на которых сидели **10** мальчиков. Вошли **10** девочек, и им всем нашлось по стулу. Как это могло случиться?



**Мальчики встали.**