




История древнего мира

5 класс




План

1. Знакомство с учебником.
2. Что такое история.
3. Исторические источники.
4. Римские цифры. Счет времени в истории. Календарь.






Знакомство с учебником



Что такое история?

История - это наука изучающая прошлое и настоящее человечества.

- Что изучает история?
- Для чего нужно знать историю?





История хранит информацию о древних эпидемиях, помогает бороться с болезнями, а изучение прогресса — предвидеть будущее.

Николя Пуссен

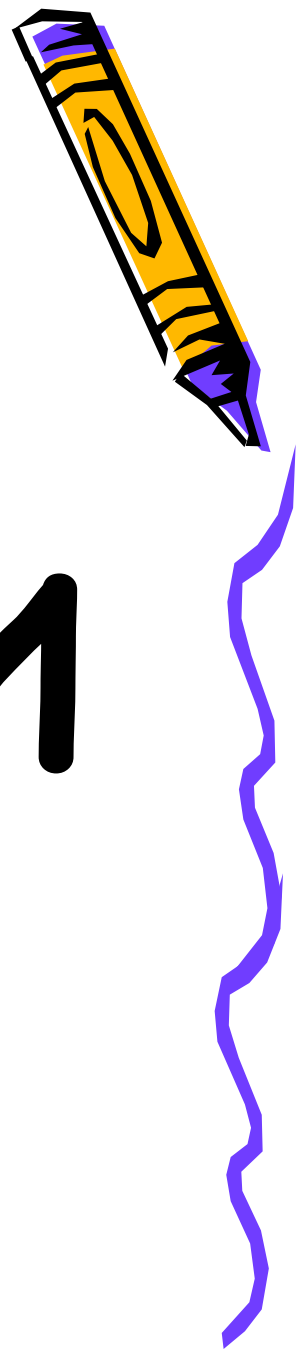
Исторические источники.



Вещественные
исторические
источники

Письменные
источники.





СЧЁТ ЛЕТ В ИСТОРИИ



Как ведётся летоисчисление

Каждый народ вёл летоисчисление от своей даты, например, переселения на новое место.




Геннадий
Квашура

Сегодня на всей планете используется единый отсчёт лет, который начинается с момента рождения Иисуса Христа.



исление






**Дионисий Малый
Первая половина VI
в.**

**Новую систему
отсчёта предложил
монах Дионисий
Малый в 525 г.**


ДАВАЙТЕ ГРАФИЧЕСКИ
ПРЕДСТАВИМ «ДВИЖЕНИЕ» ВРЕМЕНИ.

ПУСТЬ ЛИНИЯ СО СТРЕЛКОЙ
БЕРЁТ СВОЁ НАЧАЛО СЛЕВА...






“ЛИНИЯ ВРЕМЕНИ”



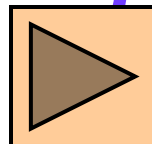
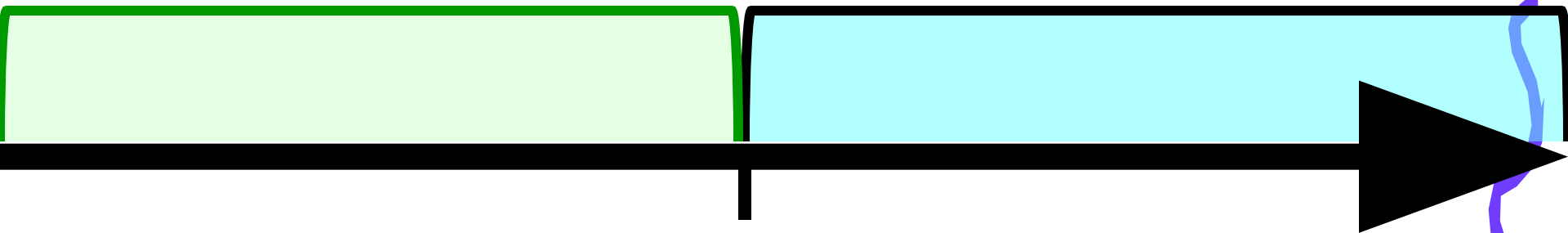
**ДЛЯ НАРОДОВ ПЕРЕДНЕЙ АЗИИ, ЕВРОПЫ
ОДНИМ ИЗ ОСНОВНЫХ СОБЫТИЙ ИХ ИСТОРИИ
СТАЛО РОЖДЕНИЕ ИСУСА ХРИСТА.**

**ОБОЗНАЧИМ НА «ЛИНИИ ВРЕМЕНИ»
УСЛОВНЫМ ЗНАКОМ – РИСКОЙ ВНИЗ –
ЭТО СОБЫТИЕ.**


**ТАКИМ ОБРАЗОМ, «ЛИНИЯ ВРЕМЕНИ»
РАЗДЕЛИТЬСЯ НА ДВЕ ЧАСТИ**



ДАТА
РОЖДЕНИЯ
ИСУСА ХРИСТА

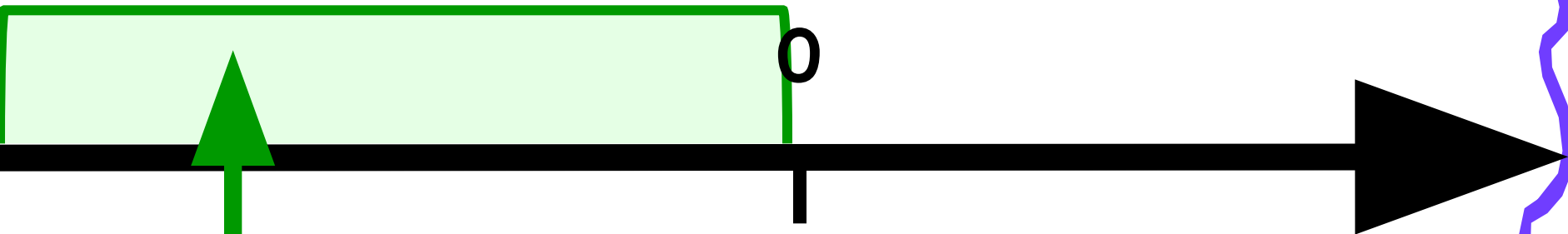


**ЗЕЛЁНЫМ ЦВЕТОМ
ОБОЗНАЧИМ СОБЫТИЯ
ДО РОЖДЕНИЯ ИСУСА ХРИСТА**






**ДАТА
РОЖДЕНИЯ
ИСУСА ХРИСТА**



**ПЕРИОД ВРЕМЕНИ
ДО РОЖДЕНИЯ ХРИСТА**



СИНИМ ЦВЕТОМ
ОБОЗНАЧИМ СОБЫТИЯ
ПОСЛЕ РОЖДЕНИЯ ХРИСТА





ДАТА
РОЖДЕНИЯ
ХРИСТА



ВРЕМЯ ПОСЛЕ
РОЖДЕНИЯ ХРИСТА



**ПЕРИОД ДО РОЖДЕНИЯ ХРИСТА
УЧЁНЫЕ-ИСТОРИКИ НАЗЫВАЮТ
ДО НОВОЙ ЭРЫ (ДО Н.Э.)**

**СОБЫТИЯ ПОСЛЕ РОЖДЕНИЯ ХРИСТА
ДОГОВОРИЛИСЬ НАЗЫВАТЬ
НОВОЙ (ИЛИ НАШЕЙ) ЭРОЙ (Н.Э.)**

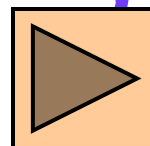


СОБЫТИЯ ДО НАШЕЙ ЭРЫ

СОБЫТИЯ НАШЕЙ ЭРЫ

ДО Н.Э.

Н.Э.



КАК УЗНАТЬ, СКОЛЬКО ЛЕТ

ПРОШЛО МЕЖДУ СОБЫТИЯМИ,

**КОТОРЫЕ ПРОИЗОШЛИ
ДО НАШЕЙ ЭРЫ И В НАШЕЙ ЭРЕ?**

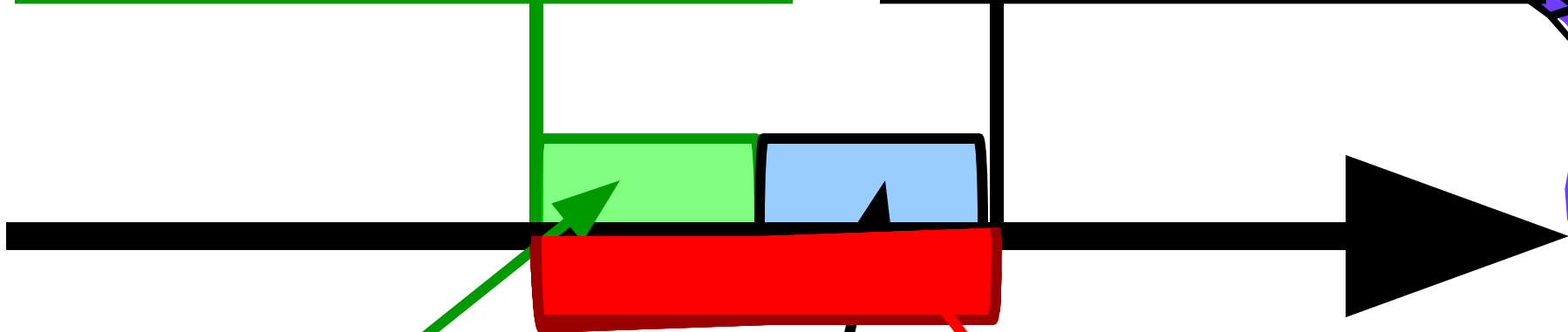
**НАПРИМЕР, ВОЗЬМЁМ ДВЕ ДАТЫ –
100-ый год ДО Н.Э. И 100-ый год Н.Э.**



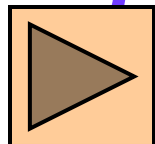


100 Г. ДО Н.Э.

100 Г. Н.Э.



$$100 + 100 = 200 \text{ (ЛЕТ)}$$

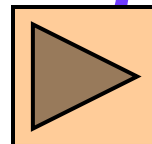




456 г. до н.э.

123 г. до н.э.

КАКОЕ СОБЫТИЕ
ПРОИЗОШЛО РАНЬШЕ?







456 г. до н.э.

123 г. до н.э.



ЭТО СОБЫТИЕ,
КОТОРОЕ НА «ЛИНИИ ВРЕМЕНИ»
РАСПОЛОЖЕНО
ЛЕВЕЕ...

В ДАННОМ ПРИМЕРЕ – **456** г. до н.э.

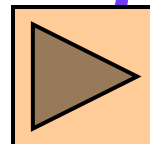




456 г. до н.э.

123 г. до н.э.

СКОЛЬКО ЛЕТ
ПРОШЛО МЕЖДУ
СОБЫТИЯМИ, КОТОРЫЕ ПРОИЗОШЛИ
ДО Н.Э.?

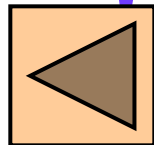


456 г. до н.э.

123 г. до н.э.



$$456 - 123 = 333$$



Века и тысячелетия пишутся латинскими цифрами

I	1	VI	6
II	2	VII	7
III	3	VIII	8
IV	4	IX	9
V	5	X	10



Века и тысячелетия пишутся латинскими цифрами




XI	11	XVI	16
XII	12	XVII	17
XIII	13	XVIII	18
XIV	14	XIX	19
XV	15	XX	20




В настоящее время идет

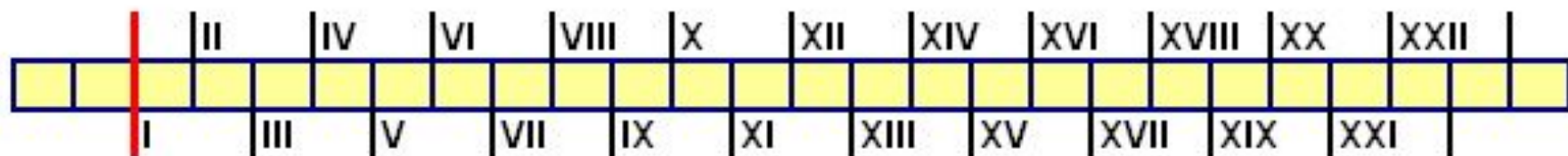
XXI - 21 век



L	50
C	100
D	500
M	1000



**ДЛЯ ОБОЗНАЧЕНИЯ ВЕКОВ НА ЛЕНТЕ
ВРЕМЕНИ ПРИНЯТО ИСПОЛЬЗОВАТЬ
РИМСКИЕ ЦИФРЫ.**



I-1, V-5, X-10, L-50, C-100, D-500, M-1000

**! для записи 4 перед V ставят I (отнимают) = IV
для записи 9 перед X ставят I (отнимают) = IX**

ЗАПИШИТЕ РИМСКИМИ ЦИФРАМИ:

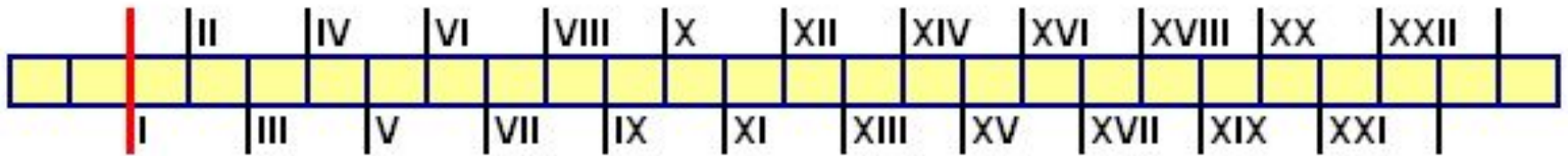
3- III, 14- XIV, 39- XXXIX, 40- XL, 201- CCI, 1592-

MDXCII

Лента времени



Определите, к какому веку относятся эти даты, почему вы так Решили?



5 ГОД - ПРОШЛО 5 ЛЕТ, ПОЭТОМУ ИДЕТ I ВЕК.

894 ГОД - ПРОШЛО 8 ВЕКОВ И 94 ГОДА - ИДЕТ IX ВЕК.

1900 ГОД - ПРОШЛО 19 ВЕКОВ, ПЕРВЫЙ ГОД НОВОГО ВЕКА ЕЩЕ НЕ НАСТУПИЛ, ПОЭТОМУ ИДЕТ XIX ВЕК.

ПОТРЕБНОСТЬ ИЗМЕРЯТЬ ВРЕМЯ ВОЗНИКЛА ОЧЕНЬ ДАВНО. ВНАЧАЛЕ ЕДИНИЦЕЙ ВРЕМЕНИ БЫЛИ СУТКИ. НО БОЛЬШИЕ ОТРЕЗКИ ВРЕМЕНИ ИМИ ИЗМЕРЯТЬ НЕУДОБНО. ЛЮДИ ОБРАТИЛИ ВНИМАНИЕ НА МЕНЯЮЩИЙСЯ ОБЛИК ЛУНЫ И СТАЛИ ИЗМЕРЯТЬ ВРЕМЯ ЧИСЛОМ ЛУННЫХ МЕСЯЦЕВ






- В ДРЕВНЕМ ЕГИПТЕ ЗЕМЛЕДЕЛЬЦЫ ПОДСЧИТАЛИ, ЧТО ОТ ОДНОГО РАЗЛИВА НИЛА ДО ДРУГОГО ПРОХОДИТ 365 СУТОК.
- ЕГИПТЯНЕ ДЕНЬ И НОЧЬ СЧИТАЛИ ПО 12 ЧАСОВ.
- ЖИТЕЛИ ВАВИЛОНА РАЗДЕЛИЛИ ЧАС НА 60 МИНУТ, А МИНУТУ НА 60 СЕКУНД.



1 СОЛНЕЧНЫЙ ГОД =
≈ 365 СУТОК

В Древнем Китае большой популярностью пользовался календарь где каждому году был присвоен символ животного.



Календары.




В Древней Руси до принятия христианства счет времени вели по четырем временам года. Новый год начинался 1 марта.

В 1492 г. Иван III повелел считать началом года 1 сентября.

В 1700 г. Петр I перевел Россию на европейское летоисчисление - новый год стал начинаться 1 января, а 7208 г. от сотворения мира стали считать 1700 г. от Рождества Христова.

Домашнее задание

- с.6 « Как работать с учебником»,
прочитать
- с.8 «Откуда мы знаем как жили наши предки», прочитать
- Глава 3. «Счет лет в истории»
(с.29-32) прочитать, подготовить устные ответы к вопросам в конце главы (с.32)
- Выполнить задание по переводу дат




1. Определите и запишите
(римскими цифрами) в каком веке
произошли события

А) 2г. до н.э.

Б) 1653г.

В) 2018г.



2. Решите задачи

1. Царь начал править в 23 г. до н. э., а умер в 12 г. н. э. Сколько лет он правил?

2. Событие произошло в 124 г. до н. э. Сколько лет назад это было?

3. Сколько прошло лет с первого года нашей эры до сегодняшнего дня? Сколько это составляет полных веков? Какой сейчас идет век?

4. Какой год был раньше и на сколько раньше - 65 г. до н. э. или 40 г. н. э.?

5. Если захоронение было сделано в 80 г.

