

Муниципальное бюджетное общеобразовательное учреждение
Средняя общеобразовательная школа №64

**ТЕМА: Интерактивная игра с триггерами
«Путешествие с Паймон и занимательной
Математикой»**

Выполнили:

Владимирова Анастасия

Надымова София

10 «А» класса


Руководитель: Осинцева Елена Георгиевна

Город
Лесной

*Путешествие с Паймон и
занимательной Математикой*



ИГРАТЬ

A chibi-style Paimon character is floating in the air, holding a blue orb. She is positioned in the center-left of the frame. The background is a vibrant, stylized landscape with rolling green hills, rocky plateaus, and a blue sky with white clouds. A small figure is visible in the distance, standing on a ledge and looking towards a bright blue light source. A large white speech bubble with a black outline is positioned above Paimon, containing Russian text.

Привет, Путешественники!
Я – Паймон и ваш проводник
по чудесному миру Тейвата.
Готовы отправиться в путь?
Тогда...Начинаем!

СТАРТ

GENSHIN
IMPACT

3 яблока отдать
трём братьям, а
четвертому яблоко
в корзинке

А вот и
испытание!
Найдите брата
имени Вентилья,
помогите ему решить
задачу!

В корзине лежат 4 яблока. Как
разделить их между четырьмя
братьями так, чтобы каждый
получил по яблоку, и одно
яблоко осталось в корзине?

3 яблока
разделить на 4
части

4 яблока отдать
4 братьям

В путешествие



В чашке, стакане, кувшине и банке
находятся молоко, лимонад, квас и
вода. Известно, что вода и молоко не в
чашке; сосуд с лимонадом стоит между
кувшином и сосудом с квасом; в банке
не лимонад и не вода; стакан стоит
около банки и сосуда с молоком. В
какой сосуд налита каждая из
жидкостей?

В чашке —
лимонад, в стакане
— в кувшине, вода
— молоко, в банке
— квас.

В чашке — вода,
в стакане — лимонад,
в кувшине — молоко,
в банке — квас.

В чашке — лимонад, в
стакане — вода, в
кувшине — молоко, в
банке — квас.

В путешествие


GENSHIN
IMPACT



Пачка печенья стоит 6 рублей и ещё полпачки. Сколько стоит пачка печенья?



6



Вааууу, как крас...
попали на праздни...
А во время праздников можно отведать много вкусной еды! ...те к Нин Гуан!

3



12



В путешествие

10 000
моры

Когда гуляешь по Ли Юэ, то просто обязаны посетить все побывать везде! Пусть первым местом в этом списке будет так называемый Бисерный паром. А вот и Чжун Ли!

Если к моим деньгам прибавить половину того, что я имею, то у меня будет 30 000 моры. Сколько у меня денег?

15 000
моры

20 000
моры

В путешествие



Ребята наловили 8 пауков и бабочек. Если пересчитать сколько у них всего ног, то окажется – 54. Сколько пауков и сколько бабочек было поймано, если у пауков 8 ног, а у бабочек по 6?

На празднике погуляли, на Гисерном пароме поплавали! Теперь давайте отдохнём! Предлагаю переночевать в этом дворце «Ваншу» и провести время с прекрасным Адептом – Сяо!


3 паука
5 бабочек

6 пауков
2 бабочки

2 паука
6 бабочек

В путешествие

GENSHIN
IMPACT



На озере росли лилии.
Каждый день их число
удваивалось, и на сотый день
заросло всё озеро. На какой
день заросла половина озера?

65 день

Новый день – новые
приключения!
Кстати о приключениях, что
здесь за парень из
Снежной страны, вроде...

50 день

99 дней

В путешествие



GENSHIN
IMPACT

Приветствую вас,
Путешественники! Вы
прошли долгий путь
моего царства – Ин
Вам ещё многое пр
узнать и пройти, но
потом.
Вот ваша награда!

Фуухх, это было
захватывающее приключение!
Вы – молодцы! Хорошо
постарались! А за старания
принято награждать!
Думаю, у сёгуна Райден
найдётся достойное
вознаграждение!

