



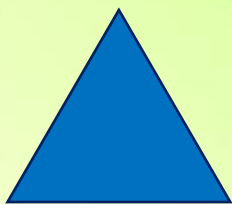


# «Отношения рядом стоящих чисел в пределах 10»


Назовите число. Отсчитайте треугольников на один больше, чем число 9. Сколько треугольников отсчитали? Почему отсчитали столько треугольников?

9




Назовите число. Отсчитайте квадратов на один меньше, чем число 10. Сколько квадратов отсчитали? Почему отсчитали столько квадратов?


10



Каким числом можно обозначить это количество треугольников? Каким числом можно обозначить это количество квадратов? Какое число больше: 10 или 9? Какое число меньше: 9 или 10? На сколько число 10 больше числа 9? На сколько число 9 меньше числа 10? Как можно уравнивать эти числа?




**10**




**9**

Каким способом уравнили эти числа? На сколько увеличили число 9, чтобы получилось число 10?





**10**



**9 + 1**

Каким способом уравнивали эти числа? На сколько уменьшили число 10, чтобы получилось число 9?



$$10 - 1$$

$$9$$

У каждого числа есть два соседа. У числа 2 старший сосед число 3, оно на 1 больше, а младший сосед – число 1, оно на 1 меньше.



Назови старших и младших соседей эти чисел.

7

3

5

9




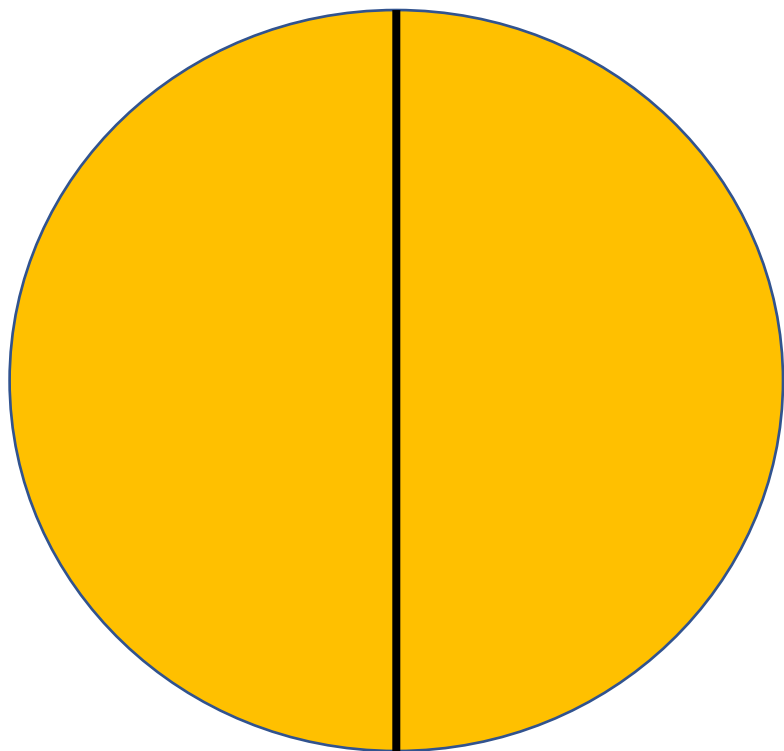
Проверь  
себя.



Какая это часть какой фигуры? Сколько нужно таких частей, чтобы получилась целая фигура? Какая фигура получится?



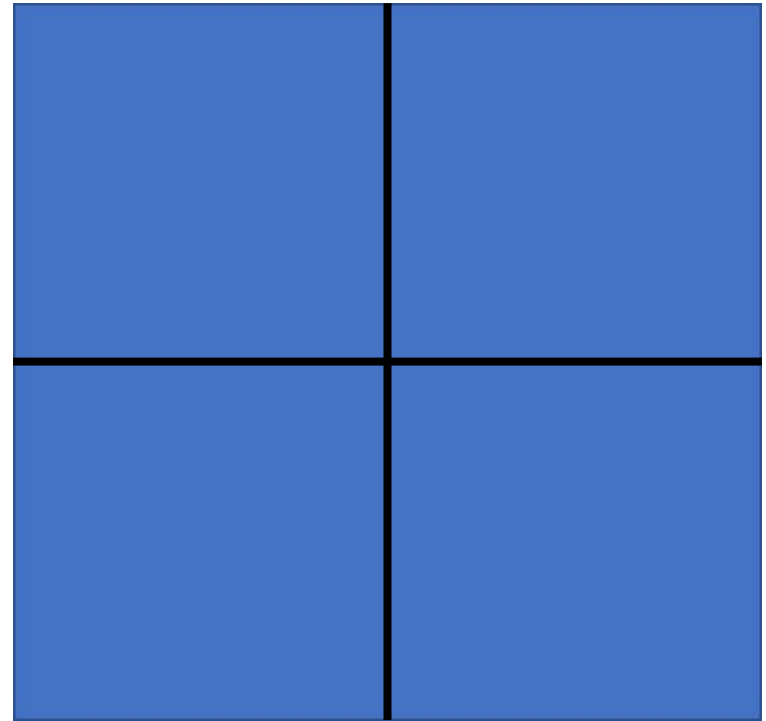
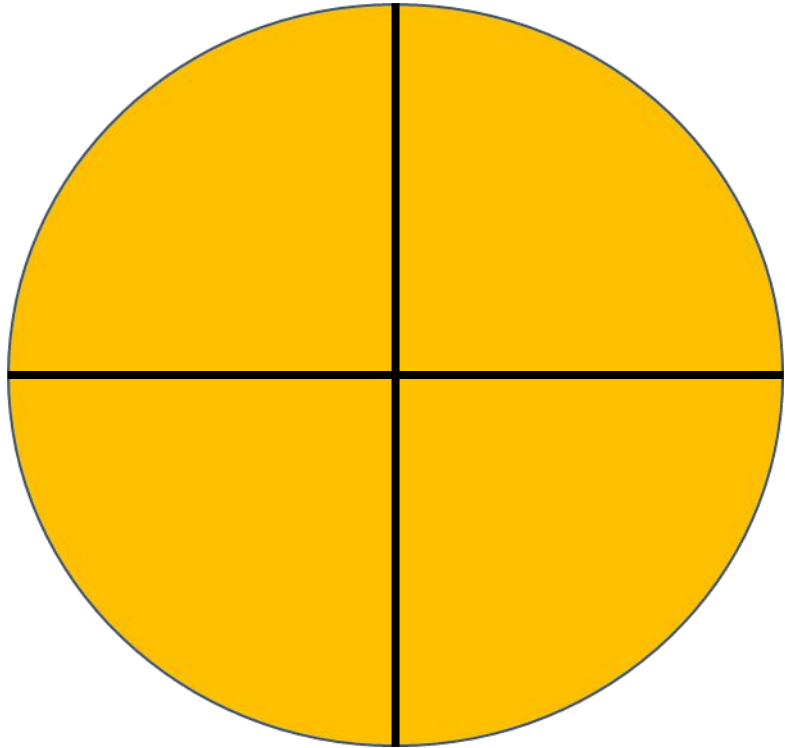
Проверь себя. Назови фигуры. Как можно назвать каждую часть фигуры? (половина, одна вторая часть) Что больше: целое или одна вторая? Что меньше: одна вторая или целое?



Какая это часть какой фигуры? Сколько нужно таких частей, чтобы получилась целая фигура? Какая фигура получится?



Проверь себя. Назови фигуры. Как можно назвать каждую часть фигуры? (одна четвёртая часть) Что больше: целое или одна четвёртая? Что меньше: одна четвёртая или целое?



Ответьте на вопросы.

Что выше: здание детского сада или наша беседка на участке?

Что ниже: цветы на нашей клумбе или кусты сирени?

Что выше: шкаф или тумбочка?

Что ниже: журнальный стол или обеденный?

Что выше: тополь или рябина?

Что ниже: легковой автомобиль или грузовой?