



Математические головоломки



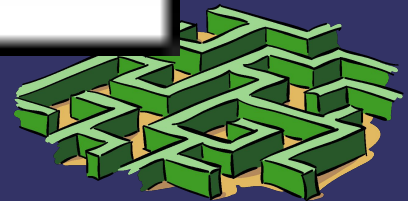
От чего он оказался таким уродом ?

- ⇒ Один мальчик написал о себе следующее : «Всех пальцев у меня двадцать пять на одной руке ,столько же на другой , да на обеих ногах десять «.



3)

о
—
бие



5)

T

3,1,2,3



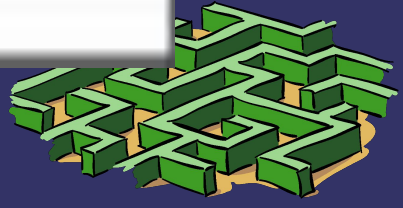
,

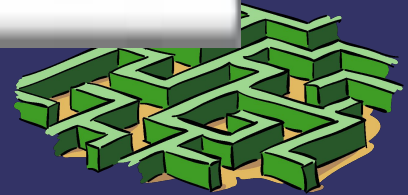
π



ь


A





8)

3a



Атомобили и велосипеды

➔ Через мост прошло 40 автомобилей и велосипедов -всего 100 колес. Сколько прошло по мосту автомобилей и сколько велосипедов?

