

Подготовка к ЕГЭ

**история- 2022**

**Местничество** – система распределения служебных мест в древнерусском государстве, согласно которой назначение на военную, административную и придворную службу осуществлялось с учётом происхождения предков человека и его личных качеств. Складывалась в 14-15 вв. Отменено указом **Фёдора Алексеевича** в **1682 г.**



**1556**

**Кормления**

– способ

содержания

**ДОЛЖНОСТНЫХ ЛИЦ**

**за счёт местного**

**населения на Руси**

**до середины 16**

**века**

старинный  
русский  
бытовой и  
юридический  
термин,  
означавший  
жалование  
или  
содержание

# ***Земский собор***


*- высшее сословно-представительское учреждение Русского государства с середины XVI до конца XVII века, собрание представителей всех слоёв населения (кроме крепостных крестьян) для обсуждения политических, экономических и административных вопросов.*



# Земские соборы


## Важнейшие Земские соборы:

**1613 г.**




Избрание Михаила Романова на царство.

**1642 г.**




Решение об отказе от помощи казакам, захватившим турецкую крепость Азов, и от войны с Турцией.

**1648–49 гг.**



Принятие Соборного Уложения.

**1653 г.**



Решение о принятии Украины под «высокую царскую руку», т.е. под Российское покровительство.

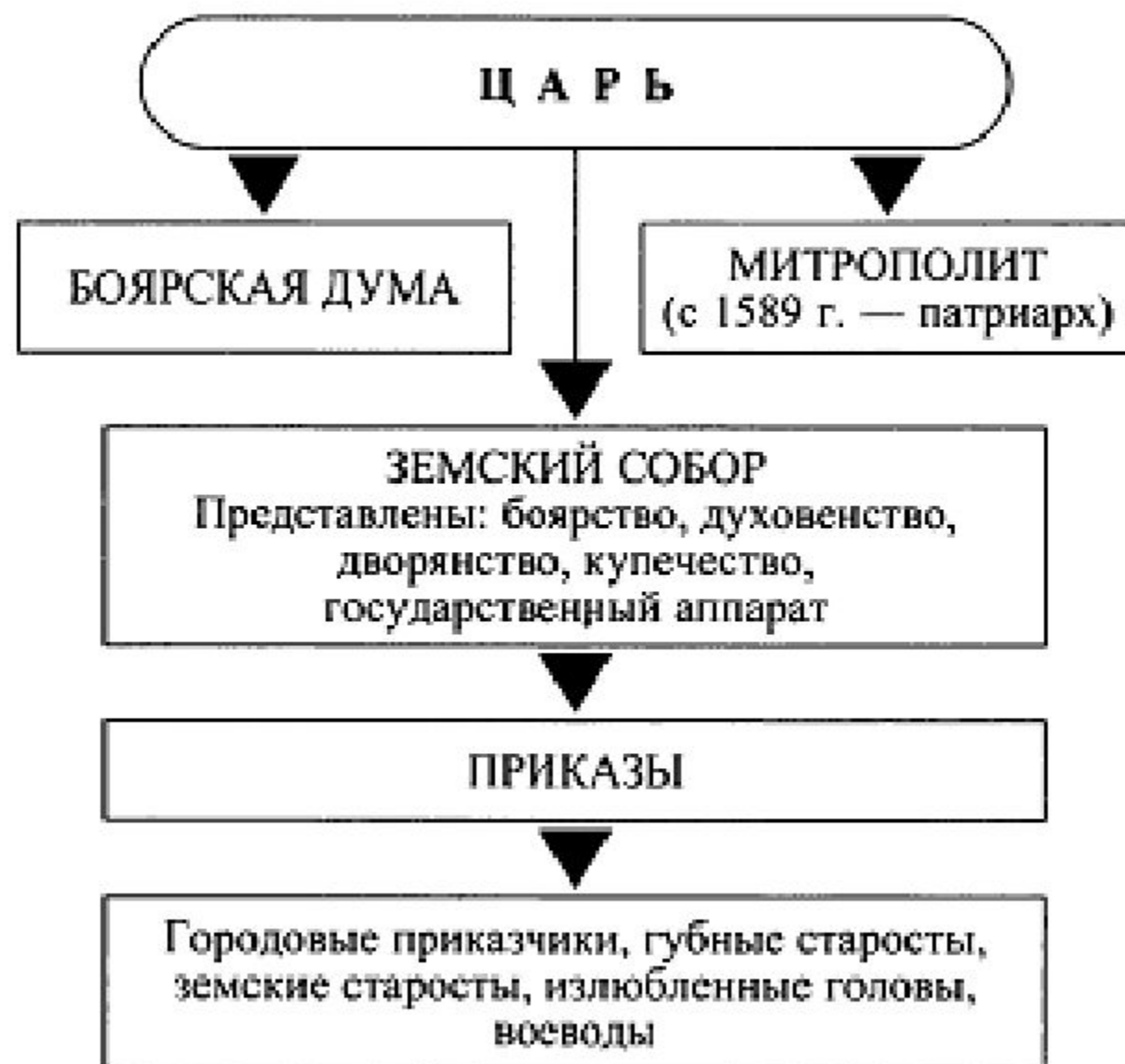
# Ливонский орден



Ливонский орден-католическая государственная и военная организация немецких рыцарей-крестоносцев в Ливонии на землях куршей, ливов, земгалов в 1237—1562.

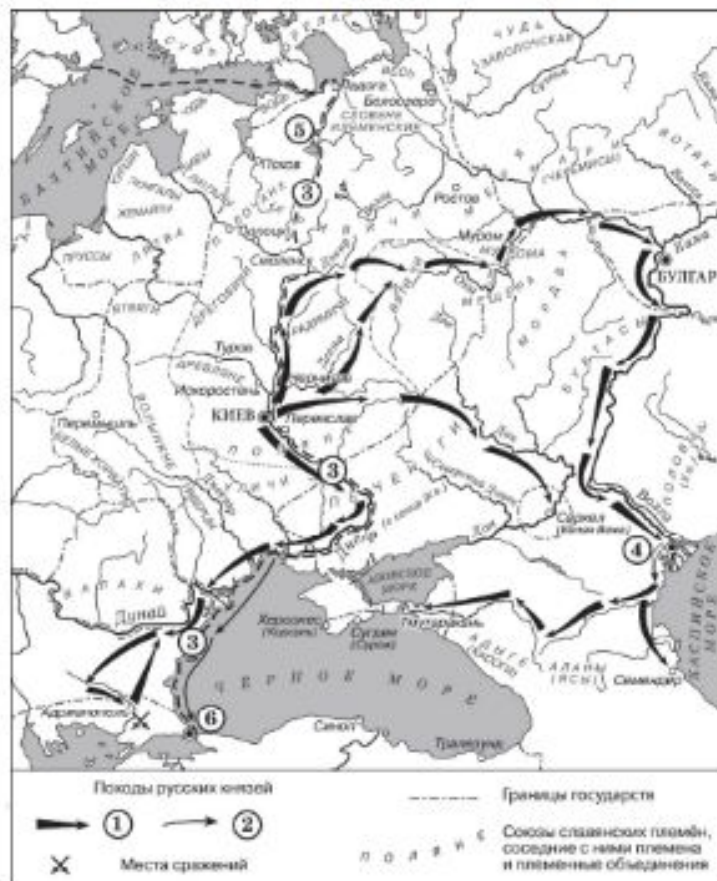


# Политическое устройство России XVI века





Рассмотрите схему и выполните задания 8–11.



8 Укажите век, когда произошли события, обозначенные на схеме стрелками.

Ответ запишите словом.

Ответ: \_\_\_\_\_.

9 Укажите имя князя, походы которого обозначены в легенде схемы цифрой «1».

Ответ: \_\_\_\_\_.

10 Прочтите текст о событиях, отражённых на схеме, и, используя схему, укажите название города, которое дважды пропущено в этом тексте.

«Князь взял столицу Хазарского каганата в дельте реки Волги. После этой победы он продолжил поход, так как у хазар было ещё несколько крупных городов. Князь повёл дружины по берегу Каспийского моря на юг, к старой столице Хазарского каганата – \_\_\_\_\_. Это был крупный город, в котором правил монарх, именвший своё войско. Поход на этот город был скоротечен. Неприятельское войско было разгромлено и рассеяно по окрестным горам, \_\_\_\_\_ заняли без боя. Дальше на юг киевский князь не пошёл».

Ответ: \_\_\_\_\_.

11 Какие суждения, относящиеся к схеме, являются верными? Запишите цифры, под которыми они указаны.

- 1) Цифрой «5» на схеме обозначен город Новгород.
- 2) В ходе событий, обозначенных на схеме стрелками, русское войско взяло город Перемышль.
- 3) В городе, обозначенном на схеме цифрой «6», согласно «Повести временных лет» принял крещение киевский князь Владимир.
- 4) На схеме обозначен политико-административный центр восточнославянского племенного союза древян.
- 5) Цифрой «4» на схеме обозначен город Кашлык.
- 6) Киевский князь Олег совершил поход, обозначенный в легенде схемы цифрой «2».

Ответ: \_\_\_\_\_.



Не забудьте перенести все ответы в бланк ответов № 1 в соответствии с инструкцией по выполнению работы. Проверьте, чтобы каждый ответ был записан в строке с номером соответствующего задания.

# ОТВИТЫ

- 8. Десятый
- 9. Святослав
- 10. Семендер
- 11. 146

# Новое!

- 18. Используя знания по истории России, раскройте смысл понятия «закупы». Приведите один исторический факт, конкретизирующий данное понятие применительно к истории России. Приведённый факт не должен содержаться в данном Вами определении понятия.

- Правильный ответ должен содержать следующие элементы:
- 1) смысл понятия, например: человек, получивший от землевладельца ссуду и из-за этого попавший к нему в зависимость; (Смысл понятия может быть приведён в иной, близкой по смыслу формулировке.)
- 2) факт, например: – правовое положение заупов определялось согласно Русской Правде; – превращение закупа в полного холопа могло наступить и в случае совершения им кражи независимо от размера стоимости украденного. (Может быть приведён другой факт.) Правильно раскрыт смысл понятия (содержание понятия корректно раскрыто через родовую принадлежность понятия и, если это необходимо, его видовое(-ые) отличие(-я)), приведён один исторический факт, конкретизирующий данное понятие

# Новое!

18. Используя знания по истории России, раскройте смысл понятия «Судебник Ивана III». Приведите один исторический факт, конкретизирующий данное понятие применительно к истории России. Приведённый факт не должен содержаться в данном Вами определении понятия.

# Ответ

## **Пояснение.**

Правильный ответ должен содержать следующие элементы:

1) смысл понятия, например: сборник законов, принятый в XV в. и сыгравший большую роль в централизации Российского государства и создании системы общерусского права;

(Смысл понятия может быть приведён в иной, близкой по смыслу формулировке.)

2) факт, например:

— Судебник был принят в 1497 г.;

— Судебник вводил правило Юрьева дня.

18. Используя знания по истории России, раскройте смысл понятия «баскаки». Приведите один исторический факт, конкретизирующий данное понятие применительно к истории России. Приведённый факт не должен содержаться в данном Вами определении понятия.