

Безопасное колесо.
Межрайонные соревнования
Вопросы
по оказанию первой
доврачебной помощи

Вариант № 2

В помощь участнику конкурса:

На экране высвечиваются поочерёдно 10 вопросов, участники дают ответы на специальных бланках.

На решение каждого вопроса дается не более 25 – 30 секунд.

Нужно выбрать один правильный вариант ответа.

Выбранный тобой вариант ответа отмечай в бланке для ответов галочкой.

ПРИМЕР:

Вариант № 2

Бланк участника

Фамилия, Имя _____ Богачкова Виктория

Команда (город, район) _____ Аромашевский район

1	1 <input type="checkbox"/>	2 <input type="checkbox"/>	3 <input checked="" type="checkbox"/>	<input type="checkbox"/>
2	1 <input checked="" type="checkbox"/>	2 <input type="checkbox"/>	3 <input type="checkbox"/>	<input type="checkbox"/>

Желаем удачи! Старт!

Вопрос № 1

Как правильно выбрать место для наложения кровоостанавливающего жгута на конечности?

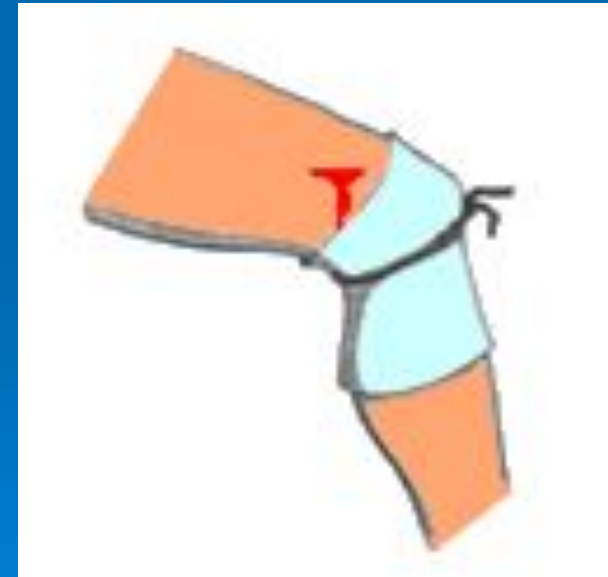
А



Б



В



Вопрос № 2

Укажите, как наложить транспортную шину при травме кисти?

А



Б



В

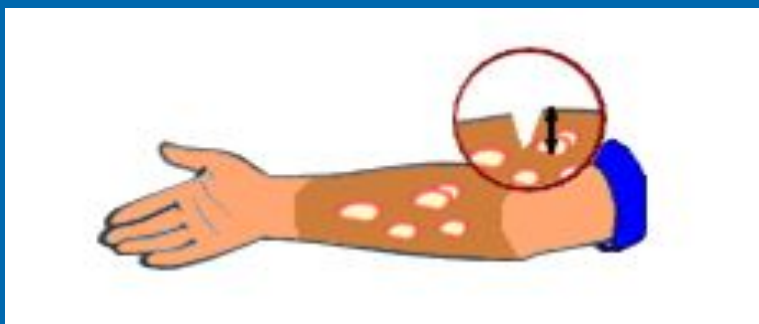


Вопрос № 3

По каким признакам определяется степень тяжести ожога?

А

Глубина
ожога



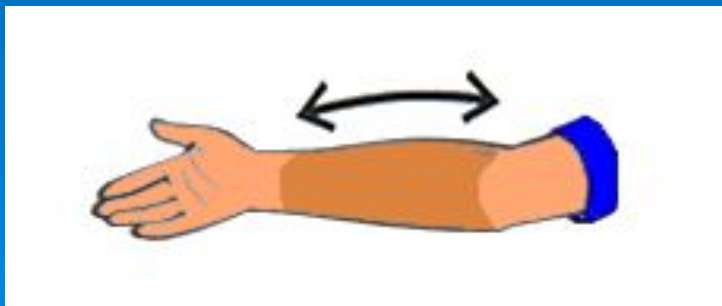
Б

Глубина ожога и площадь
поражённой поверхности



В

Площадь поражённой поверхности



Вопрос № 4

На каком рисунке показано
обморожение I степени?

А



кожа белеет,
затем краснеет и
припухает,
появляются
покалывание и
боль;

Б



образуются
волдыри с
кровяным
содержимым,
возникает
сильная боль;

В



происходит
омертвление
кожи и
подкожных
тканей;

Вопрос № 5

Чем нужно обработать рану для профилактики инфицирования?

А



Промыть водой с
МЫЛОМ

Б



Обработать
перекисью водорода

В

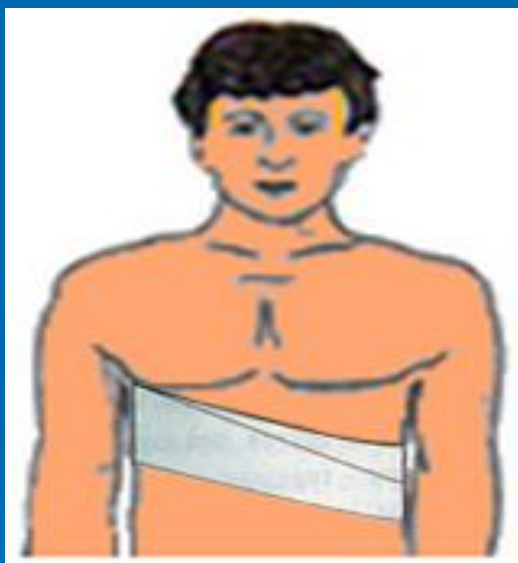


Подходят оба варианта

Вопрос № 6

Какая первая помощь оказывается при проникающем ранении грудной клетки?

А



Накладывается
стерильная салфетка,
место раны
забинтовывается

Б



Накладывается
материал, не
пропускающий воздух,
приклеивается
пластырем «П»
образным способом

В



Накладывается
материал, не
пропускающий воздух,
приклеивается
пластырем по периметру

Вопрос № 7

Укажите соотношение массажных толчков и искусственных вдохов при проведении сердечно-лёгочной реанимации.

А



Одно вдувание воздуха, пять надавливаний на грудину

Б



Тридцать надавливаний на грудину, два вдувания воздуха

В



Три вдувание воздуха, десять надавливаний на грудину

Вопрос № 8

На каком рисунке показано положение пострадавшего, в котором рекомендуется его транспортировать в бессознательном состоянии?

А



Б



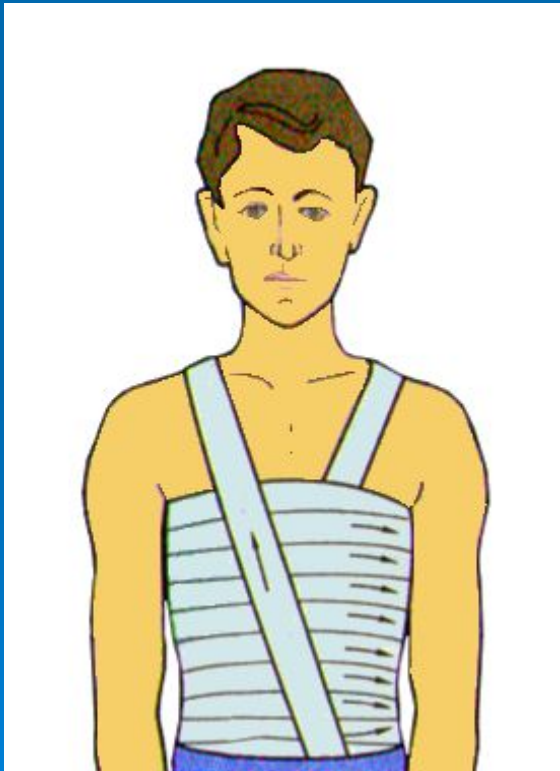
В



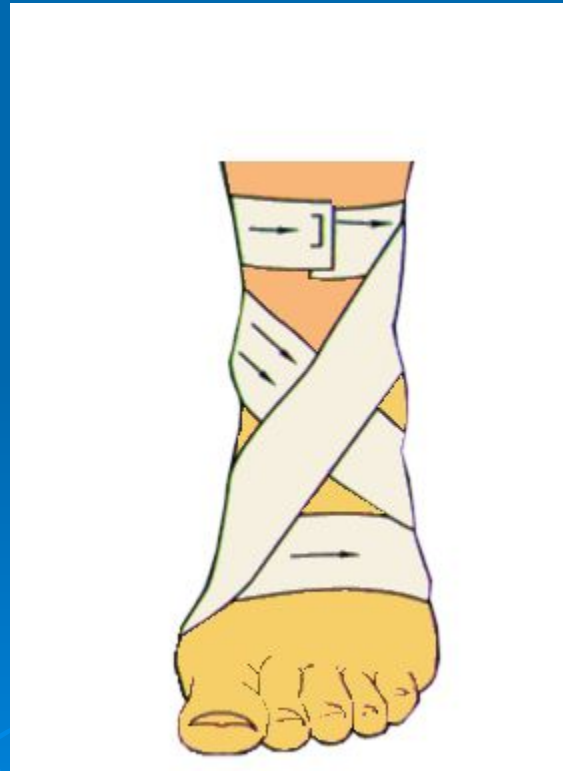
Вопрос № 9

На каком рисунке показана расходящаяся повязка?

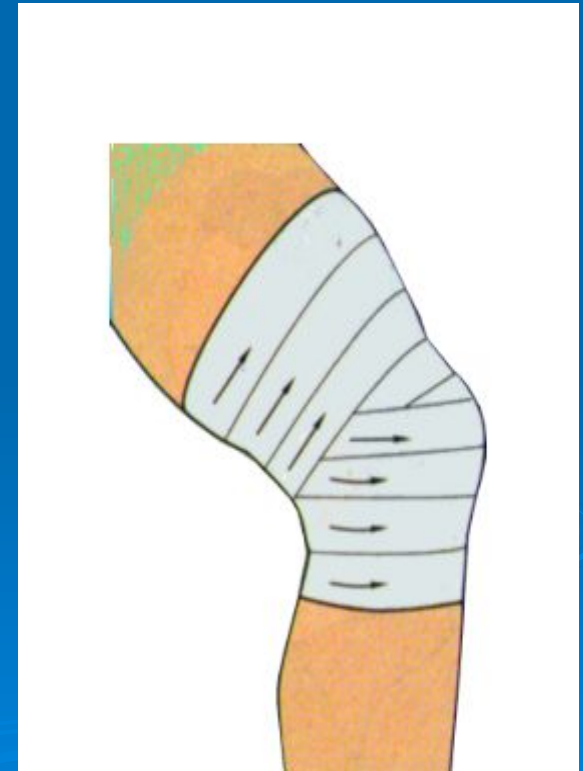
А



Б



В



Вопрос № 10

Какое из медицинских средств отсутствует в современной автомобильной аптечке?

А



Валидол

Б



Бинт

В



Жгут

СПАСИБО
ЗА ВНИМАНИЕ



ОТВЕТЫ

№ Билета	№ Ответа		
	А	Б	В
1			
2			
3			
4			
5			
6			
7			
8			
9			
10			