


Викторина по правилам
дорожного движения

«Дорожная грамота»

I – тур

Общие положения



**« Проезжей частью»
дороги называется:**

A. - дорога, предназначенная для движения всех транспортных средств

B. - элемент дороги для движения рельсовых транспортных средств

C. - элемент дороги для движения безрельсовых транспортных средств

Обгон – это

А. - опережение одного движущегося транспортного средства

В. - опережение одного или нескольких движущихся транспортных средств, связанное с выездом из занимаемой полосы

С. - опережение транспортного средства на одной полосе движения



Дорога включает в себя одну или несколько проезжих частей.

Сколько проезжих частей имеет дорога изображённая на рисунке?


A. - одну

B. - две

C. - три

« Железнодорожный переезд» - ЭТО

- А.** - пересечение дороги с железнодорожными путями на одном уровне
- В.** - переезд, включающий одну или несколько железнодорожных дорог
- С.** - обустроенный переезд для движения транспортных средств



Кто является водителем?

A. - водитель автобуса и автомобиля

B. - водитель автомобиля и повозки

C. - водитель повозки, автомобиля и автобуса



При движении в условиях тумана расстояние до предметов представляется:

- A.** - большим, чем в действительности
- B. - меньшим, чем в действительности
- C. - соответствующим в действительности



Кто из мотоциклистов занял правильное положение на полосе движения?

A. - только мотоциклист, едущий один

B. - только мотоциклист, едущий с пассажиром

C. - оба мотоциклиста



Выезд из двора или с другой прилегающей территории:

- A. - считается перекрёстком равнозначных дорог
- B. - считается перекрёстком неравнозначных дорог
- C. - не считается перекрёстком




Можно ли переходить улицу на участках с разделительной полосой?

А. - да

В. - нет

С.- да, если добежать до разделительной полосы, пропустить движущиеся транспортные средства, а затем перебежать другую проезжую часть



Группа людей, совместно движущихся по дороге в одном направлении, называется:

A. - организованным пешеходным переходом

B. - организованная пешая колонна

C. - организованная перегонка пешеходов

II - тур

**Обязанности пешеходов
и пассажиров**

Пешеход –

- А.** – лицо, находящееся вне транспортного средства на дороге и не производящее на ней ремонт
- В.** – лицо, передвигающееся в инвалидной коляске без двигателя
- С.** – лицо, ведущие велосипед, регулировщик, а также лица выполняющие ремонтные работы




Рис. 1





Рис.
2

Кто из ребят выбрал более удачное место для перехода дороги?

- A.** - только на рис.1
- B.** - только на рис.2
- C.** - на рис.1 и на рис.2



Увидев, машину с проблесковыми маячками, необходимо:

A. - быстро перебежать дорогу

B. - воздержаться от перехода дороги

C. - быстро перебегать дорогу, махая руками




Рис.1




Рис.2


Ребята находятся на загородной дороге. Один из них идёт по специальной дорожке, а другой – по обочине.

Правильно ли они идут по дороге?

А. - да правильно только на рис .1

В. - да правильно только на рис.2

С. - да правильно как на рис.1 так и на рис.2



Мальчик начал переходить улицу на зелёный сигнал светофора. Не успел он дойти до середины улицы, как в светофоре загорелся красный свет.

Как ему поступить?

A. - дойти до середины улицы

B. - остановиться на полпути

C. - вернуться обратно

**Пассажиры обязаны:
при поездке на транспортном средстве,
оборудованном ремнями безопасности, быть
пристёгнутыми ими.**

**Как вы думаете, кто будет платить штраф за то, что Вы
не пристёгнуты ремнём безопасности?**

A. - только водитель

B. - водитель за своё нарушение, а пассажир за своё нарушение

C. - только пассажир

Если ты увидел, что кто – то оставил в салоне автобуса коробку или сумку то ты должен ...

A. - посмотреть, что там внутри

B. - забрать её с собой домой

C. - сообщить об этом водителю

Рекомендуется ли стоять у края обочины на автобусной остановке?

А. - да, если стоишь с мамой

В. - нет, могут толкнуть под колёса приближающегося автобуса

С. да, тогда можно войти в автобус первым

Самые первые правила дорожного движения были введены ещё указом Юлия Цезаря в Древнем Риме. Некоторые из них сохранились до наших дней. Какие правила ввёл Юлий Цезарь?

A. - ввёл улицы с односторонним движением

B. - запретил ездить на собственных колесницах по улицам Рима в рабочее время

C. - иногородние должны были оставлять своё транспортное средство за городской стеной, а сами двигаться пешком

Следует заметить, что государство устанавливало не только правила, но и кару за их нарушение.

Анна Иоанновна 9 января 1730 года приказала обнародовать указ по которому предписывала ездить только на взнузданных лошадях

« со всяким опасением и осторожностью, смирно».

Ослушников же ...

Какие меры наказания в начале XVIII века применялись к людям, нарушающим правила движения:



А. - секли кнутом

В. - изъятие водительского удостоверения

С. - ссылали на каторгу

III- тур

Дорожные знаки



**Этот дорожный знак
обозначает:**

- A. - приближение к железнодорожному переезду
- B. - железнодорожный переезд со шлагбаумом
- C. - железнодорожный переезд без шлагбаума




Рис.1




Рис.2



А Б В Г Д Е


Рассмотрите знаки и определите те, которые должны быть установлены возле этих пешеходных переходов

- А.** - рис.1 - Е рис.2 - А
- В. - рис.1 - Г,Д рис.2 - В
- С. - рис.1 - Е рис.2 - Б



За этим дорожным знаком пешеходы

- A. - могут двигаться как по тротуарам, так и по проезжей части
- B. - имеют преимущество, однако не должны создавать необоснованные помехи движению транспортных средств
- C. - не имеют права двигаться по проезжей части



О чём предупреждает водитель мопеда?

- A. - о торможении
- B. - о повороте направо
- C. - о повороте налево



О чём предупреждает водитель автомобиля?

- A. - о повороте налево
- B. - о торможении
- C. - о повороте направо



Какими знаками обозначают участки, на которых водитель обязан уступить дорогу пешеходам, находящимся на проезжей части?

- A. - только А и Б
- B. - только Б и В
- C. - только А и В



Этот дорожный знак предупреждает Вас:

- A. - о том, что тут проводят соревнования велосипедистов
- B.** - о приближении к пересечению с велосипедной дорожкой
- C. - что приблизившись к велосипедной дорожке, необходимо уступить дорогу велосипедистам



Дорожный знак предупреждает что:

- A. - через 150 метров пешеходы выбегают на проезжую часть
- B. - через 150 метров будет нерегулируемый пешеходный переход
- C. - через 150 метров много пешеходов




Какой знак устанавливают в начале дороги с односторонним движением?

A. - только А

В. - только Б

С. - В или Г



О чём предупреждает данный дорожный знак:

- A. - о приближении к переезду
- B. - о приближении к многопутной железной дороге необорудованной шлагбаумом
- C. - о приближении к однопутной железной дороге необорудованной шлагбаумом

IV - тур


Сигналы регулятора



Регулировщик стоит к Вам спиной.

Разрешено ли Вам движение?


- A. - разрешено только прямо
- B. - разрешено только направо
- C. - строго запрещено



Регулировщик располагается к Вам правым боком и правая рука вытянута вперёд.

Разрешено ли Вам движение?

- А. - запрещено
- В. - разрешено только направо
- С. - разрешено во всех направлениях



Регулировщик располагается на перекрёстке правым боком к водителю.

Но перед Вами знак приоритета «Уступите дорогу».

В каких направлениях регулировщик разрешает Вам движение?

A. - во всех

B. - только прямо

C. - только прямо и направо



Перед водителями регулируемый перекрёсток, на светофоре горит красный свет. И по какой то причине находится регулировщик.

Кто из водителей может продолжить движение?

A. - только водитель легкового автомобиля

B. - оба водителя

C. - никто



**При таком жесте регулировщика и сигналах светофора
Вы должны:**

- A. - продолжить движение прямо и направо
- B. - остановить у стоп – линии
- C. - можно повернуть только направо

Спасибо за внимание!