


Чтобы путь
был счастливым

ТЕСТ



**Дисциплина на
улицах, дорогах и в
транспорте – залог
безопасности**





1. Найди неверное утверждение.

- а) переходи улицу в группе людей;
- б) жди автобус или трамвай на краю остановки;
- в) переходи улицу по пешеходному переходу:



2. Что опасно делать на тротуаре?

- а) разговаривать;
- б) стоять;
- в) играть в футбол;



3. Опасно ли ходить по краю тротуара?

- а) опасно, так как существует опасность быть задетым близко идущим транспортом;
- б) неопасно, так как тротуар предназначен для пешеходов;
- в) неопасно, так как транспорт должен ехать близко к тротуару.



4. Выбери правильный ответ:

Детям до 14 лет запрещено ездить
на велосипедах ...

- а) в парках и на детских площадках;
- б) по дорогам, где ездят автомобили;
- в) на стадионе;



5. Кому разрешается ездить на велосипеде по тротуару?

а) всем;

б) детям с 14 лет;

в) маленьким детям до 7 лет;




6. Правила дорожного движения запрещают

- а) ездить на велосипеде, не держась за руль;
- б) пересекать дорогу, сойдя с велосипеда;
- в) ездить по велосипедной дорожке;



7. Где может ходить пешеход?

- а) по мостовой;
- б) по шоссе;
- в) по тротуару;



8. Переходя улицу, необходимо быть:

- а) сильным, смелым, стройным;
- б) собранным, внимательным, осторожным;
- в) умным, красивым, радостным;

9. Как называют наземный переход, отмеченный на асфальте белыми полосами?

- а) ОЛЕНЬ;
- б) ЗЕБРА;
- в) ЛОШАДЬ;



**10. Куда надо посмотреть сначала,
переходя улицу?**

а) НАЛЕВО;

б) НАПРАВО;

в) ВПЕРЁД;

11. Как называют человека, едущего в автобусе?

- а) пешеход;
- б) водитель;
- в) пассажир;



12. Где допущена ошибка?

- а) если увидишь оставленные без присмотра сумку, пакет или другие вещи, сам не прикасайся к ним, скажи об этом водителю;**
- б) разговаривай с водителем и задавай ему вопросы, чтобы он не скучал;**
- в) не ходи без дела по проходу во время движения;**

13. Кто правильно вёл себя в общественном транспорте?

- а) Миша прислонился к дверям автобуса;
- б) Ира высунула голову в окно;
- в) Дима крепко держался за поручень, чтобы не упасть;

14. Как выглядят запрещающие знаки?

- а) знак в виде синего круга;
- б) знак в виде красного круга;
- в) знак в виде красного треугольника;



15. Кто из детей правильно ответил на вопрос «Какие знаки самые важные?»

- а) Даша сказала: «Все дорожные знаки важны – без них невозможно безопасное движение на дорогах;»**
- б) Игорь сказал: «Самые важные знаки – знаки сервиса, ведь всегда необходимо знать, где находится автозаправочная станция или больница»;**
- в) Оля сказала: «Самые важные дорожные знаки – предупреждающие, так как они всегда предупредят водителя о любой опасности».**

16. Какие правила должен соблюдать пешеход?


- а) ходить только по тротуарам, переходить дорогу в установленном месте;**
- б) ходить по тротуарам и быстро перебежать дорогу;**
- в) ждать транспорт на остановке близко от проезжей части.**

17. Идя по тротуару, ты видишь, что из ближайшего двора выкатился мяч. Что ты должен делать?

а) догнать мяч и вернуть его владельцу;

б) задержать того, кто бежит за мячом;

в) пройти мимо;



18. Какие правила должен соблюдать пассажир?

- а) садиться в автомобиль со стороны проезжей части;**
- б) разговаривать с водителем только во время движения;**
- в) не высовывать в окно руку и тем более голову;**

19. Каким цветом бывает разметка на дороге?

- а) белым и розовым;
- б) жёлтым и чёрным;
- в) белым и жёлтым;

20. Оля едет с папой на машине. Всю дорогу

она рассказывает ему о своих подругах, о планах на следующую неделю. Правильно ли она поступает?

- а) да, потому что за разговором дорога кажется не такой длинной;**
- б) нет, потому что запрещено отвлекать водителя во время движения;**
- в) да, потому что папа всё время на работе. Когда же ещё поговорить?**

Ключ

1-б; 2-в; 3-а; 4-б; 5- в; 6-а; 7-в; 8-б; 9-б; 10-а; 11-в; 12-б;

13-в; 14-б; 15-а; 16-а; 17- б; 18- в; ; 19-в; 20-б.