

**Сложение вида**

**+ 2, + 3**




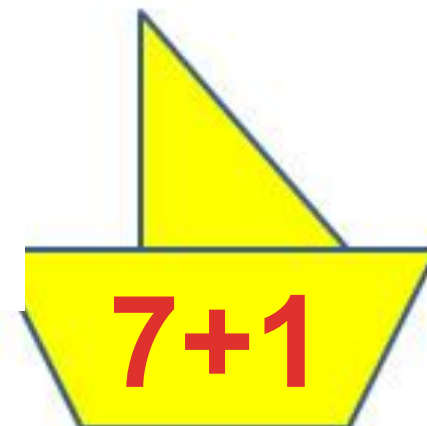
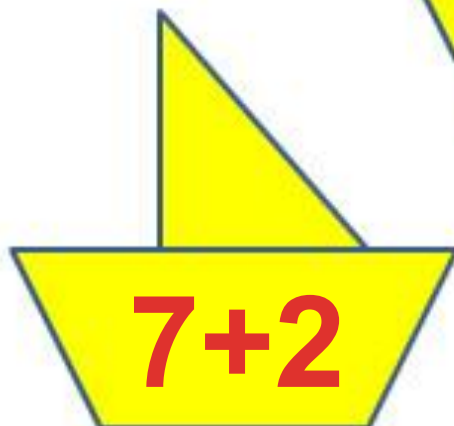
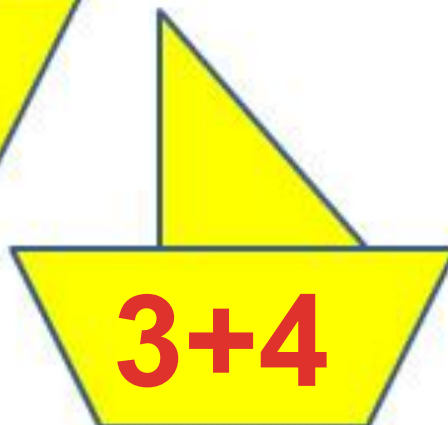
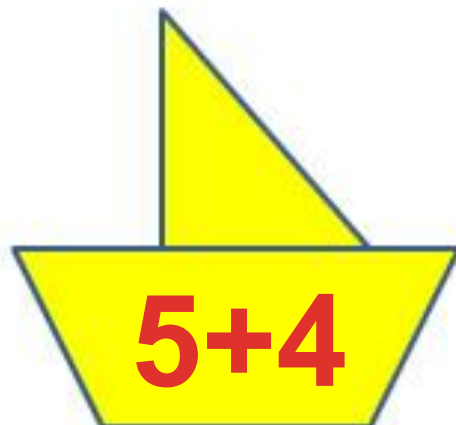
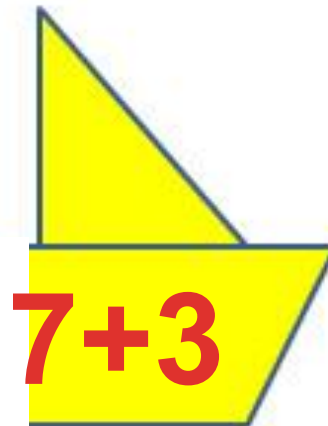
**Урок № 99**

# УСТНЫЙ СЧЁТ

$$2 + 2 =$$

$$6 - 4 =$$






Приведи кораблики к 9 причалу.

Составь задачи по выражениям.



$$10 + 2 = 12$$

$$10 - 2 = 8$$



В одной вазе **5** роз, а в другой на **2** больше. Сколько роз во второй вазе? Сколько всего роз в двух вазах?

$$5 + 2 = 7$$



$$5 + 7 = 12$$



**? на 2  
больше**

Два мальчика играли на гитарах, а один на балалайке.  
На чём играл Юра, если Миша с Петей и Петя с Юрой  
играли на разных инструментах?


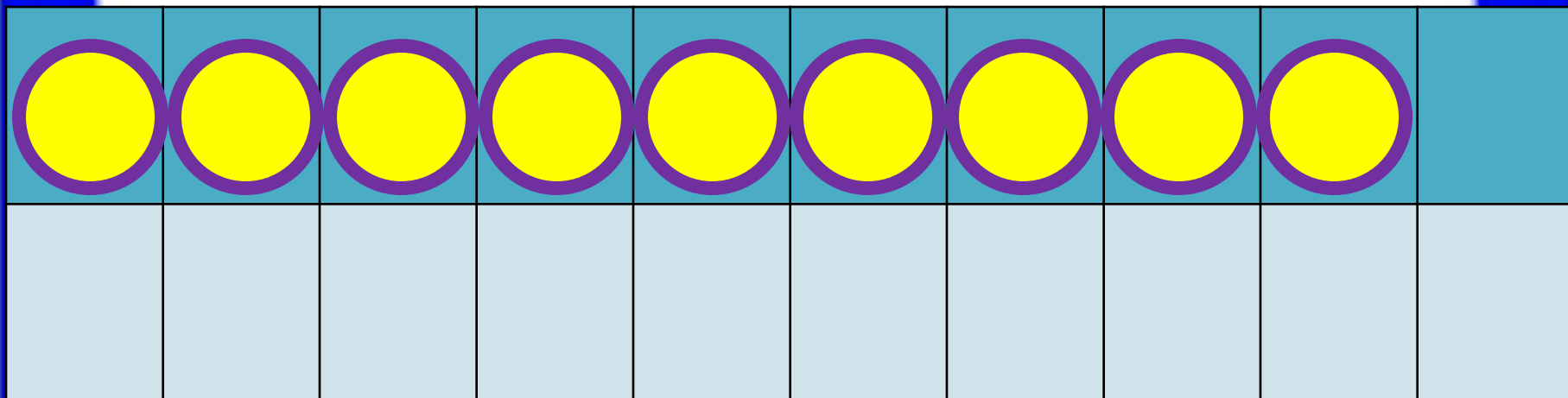


**Юра играл на гитаре.**



# НОВЫЙ МАТЕРИАЛ


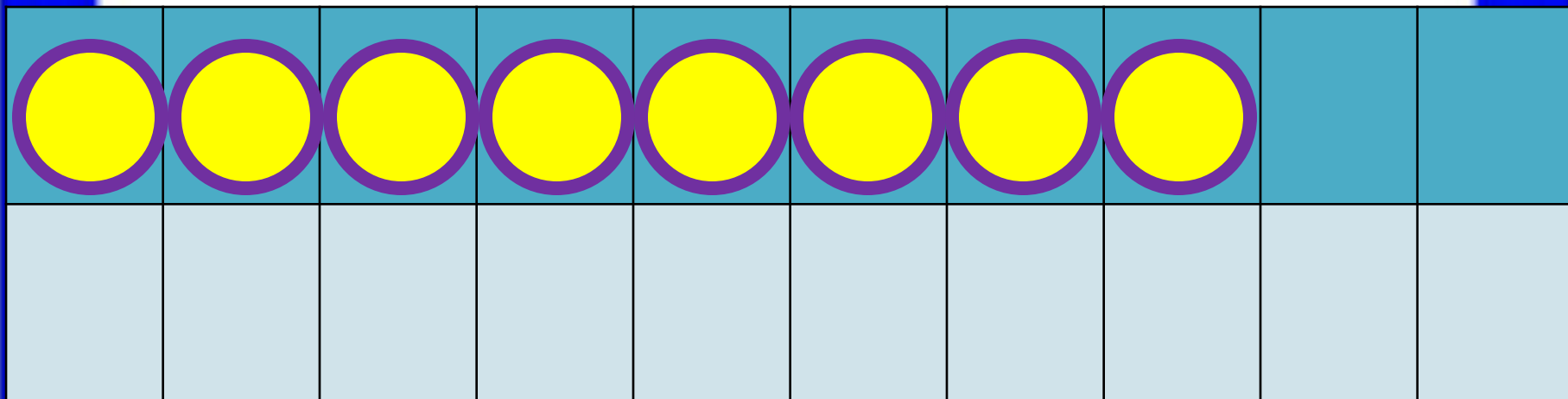




$$9 + 2$$


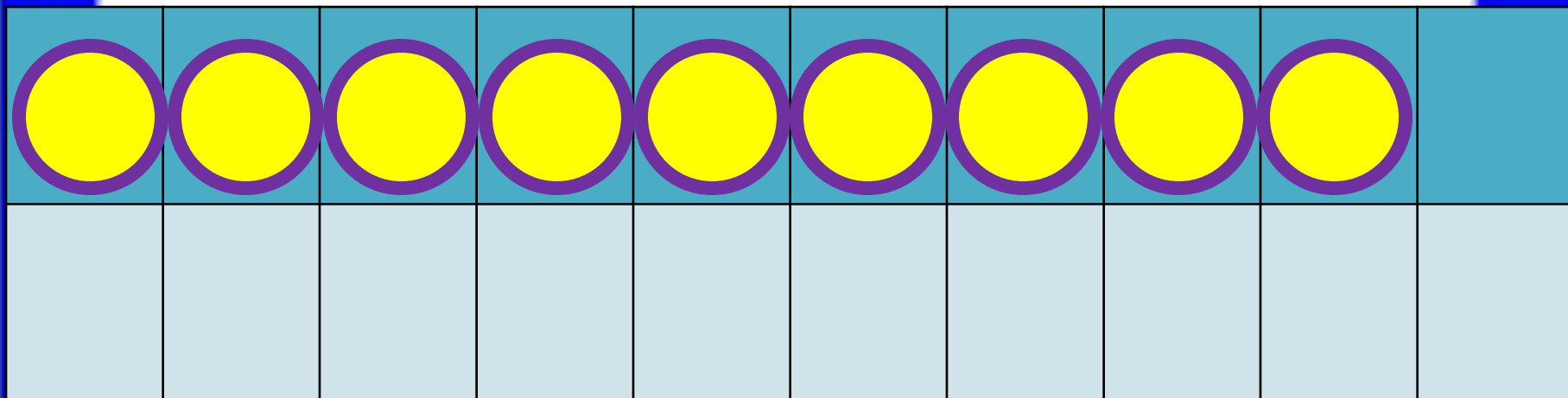
$$9 + 1 + 1$$





$$8 + 3$$

$$8 + 2 + 1$$



$$9 + 3$$

$$9 + 1 + 2$$

**Запомни!**

$$9 + 2 = 11$$

$$8 + 3 = 11$$

$$9 + 3 = 12$$

5. Определи, как зовут каждую девочку.



Это Таня и Оля.



Это Оля и Катя.

12  20

10  9

1 дм  9 см

12 см  1 дм

7  4

0  1



**2**

$7 + 4 =$	$9 + 6 =$	$8 + 3 =$
$8 + 5 =$	$7 + 7 =$	$6 + 5 =$

**3**

Первая сказка в книге занимает 9 страниц, а вторая — на 3 страницы больше. Сколько страниц занимает вторая сказка?

- Ответ:

**4**

$7 +$	$= 11$	$9 +$	$= 11$	$11 -$	$= 4$	
<input type="checkbox"/>	$8 +$	$= 11$	$6 +$	$= 11$	$11 -$	$= 2$

**конец**