



Очевидное и невероятное

3 класс

Конкурс «Разминка»

- Кто в году четыре раза переодевается?
 - За пнем бугорок, а в нем городок?
 - От летучих веществ какого растения гибнут болезнетворные микробы ?
 - Какой зверек, живущий в воде, строит плотины?
 - Какое растение называют водяной красавицей?
 - Откуда родом сибирская кошка?
 - Какие жучки носят название того месяца, в котором они появляются?
 - Что случается с пчелой, когда она ужалит?
 - На мне люди ездят и возят поклажу. В пустыне безводной могу идти я даже.
 - Какие вы знаете цветные моря?
 - Какое озеро самое глубокое?
 - Умеют ли слоны плавать?
-



Конкурс «Разминка»

- Растет ли дерево зимой?
 - Листья каких деревьев осенью становятся красными?
 - Что за трава, которую слепые знают?
 - Почему жаба огороднику первый друг?
 - На следе каких зверей нет отпечатков когтей и почему?
 - Какой цветок имеет мужское и женское имя одновременно?
 - Где сухого камня не найдешь?
 - Маленькая, лёгонькая, а за хвост не поднимешь?
 - Почему весной не охотятся на пушных зверей?
 - Про какое животное можно сказать, что оно вылезает “из кожи вон”?
 - Животное, которое считается хозяином русского леса.
 - Кого называют санитарями леса?
-



Конкурс «Очевидная математика»

- 1. Мох и трава, растущие у подножия дерева и занимающие площадь в 3 кв.м., задерживают 12л воды, которая потом уходит в ручьи, реки и воздух. Сколько воды задержит мох и трава площадью 5 кв.м.? Сделай вывод.

$$\underline{(12:3*5=20)}$$

- 2. Из неисправного крана постоянно течёт вода. Школьники подсчитали, что за одну минуту вытекает 8 литров воды – целое ведро. А сколько чистой воды вытечет в канализацию за перемену, которая длится 10 минут? Сделай вывод.

▶ $\underline{(8*10=80)}$

Конкурс «Очевидная математика»

- 3. Брошенная на землю бумага разлагается через 2 года. В школе вам предстоит учиться 7 лет. Если каждый год вы будете бросать в лесу, на лугу, у реки бумагу (обёртки, пакеты, газеты), сколько лет потребуется для того, чтобы весь бумажный мусор разложился? Сделай вывод.

$$\underline{(7*2=14)}$$

- 4. В путешествие отправились 26 человек. Сколько погибнет цветочков, если каждый сорвёт по 3 цветка? Сделай вывод.

$$\underline{(26*3=78)}$$

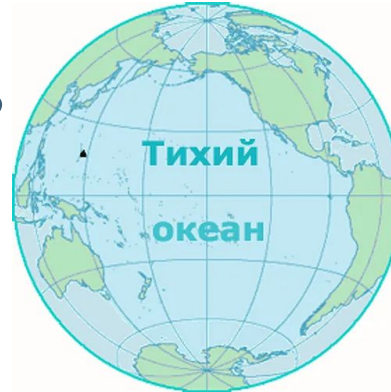


Викторина

□ Из чего производят бензин, керосин?



□ Самый большой океан?



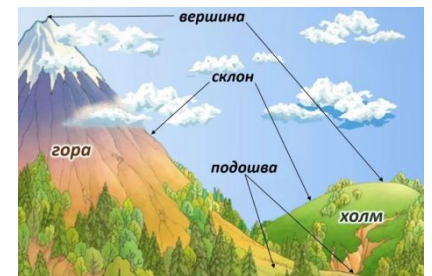
□ Орган осязания?



□ Самая низкая часть горы?



□ Каким цветом на карте обозначены горы?



Викторина

□ Каким цветом на карте моря, океаны?



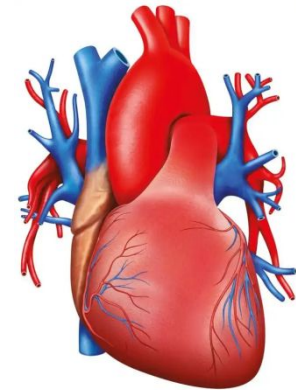
□ Когда состоялся первый полёт человека в космос?

(12 апреля)

□ Спутник Земли?



□ Главный орган кровеносной системы?



□ Ровная поверхность земли, без гор и больших холмов?



Викторина



□ Что является опорой тела человека?

□ Каким цветом на карте равнины?



□ Время, необходимое для полного оборота Земли вокруг Солнца? (Год)

□ Водный источник, текущий из глубины земли?



□ Символы нашего государства?

