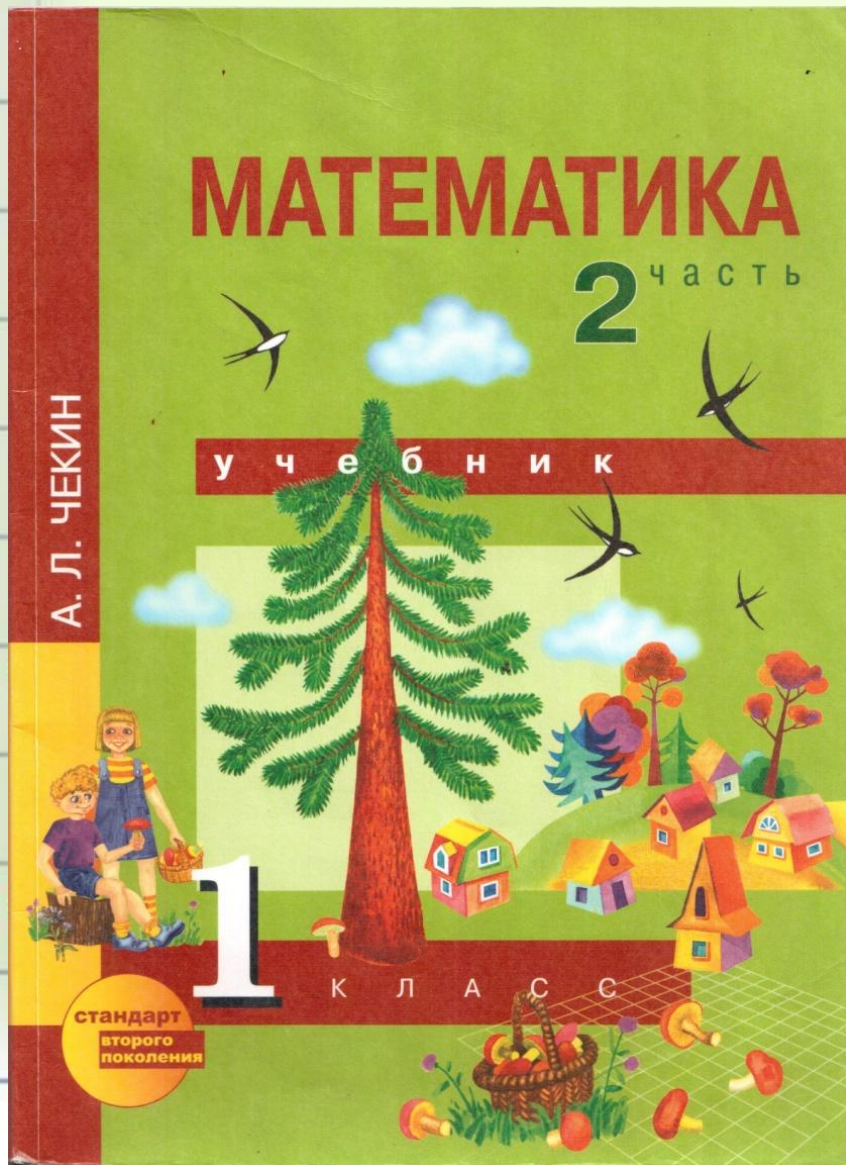


Математик



Мизга О.В.

**Все сумели мы
собраться,
За работу дружно
взяться.**

**Будем думать,
рассуждать,**

к начать.





Мизга О.В.

**Открываем тетрадь, отступаем 4 клетки
вниз от прошлой работы и 10 клеток вправо.
Записываем число и классная работа.**

15 апреля
Классная работа.

На следующих слайдах посмотри
внимательно как правильно писать числа
6 и 9





Пальчиковая гимнастика

Этот мальчик маленький.

Этот пальчик слабенький.

Этот пальчик длиненький.

Этот пальчик сильненький.

Этот пальчик – толстячок,

Ну, а вместе – кулачок.



**В тетради на следующей
рабочей строке, через клеточку
пропиши числа 6 и 9**

**А на следующей рабочей
строке, пропиши через
клеточку числа 69 и 96**

Посчитай устно

Задача в стихах.

*Ёжик по грибы пошёл,
Восемь рыжиков
нашёл.*

*Шесть грибов в
корзинку,
Несколько – на спинке.*

*Сколько рыжиков
везёшь*

На своих иголках, ёж?



Задача в стихах.




*Ёжик по грибы пошёл,
Восемь рыжиков
нашёл.*

*Шесть грибов в
корзинку,*


Несколько – на спинке.

*Сколько рыжиков
8 – 6 = 2 (гр.) – на спине
везёшь*

*Ответ: на спине у ежа 2
На своих иголках, ёж?
гриба*




Составь сумму чисел



$$6+6$$



Составь сумму чисел



$$6 + 7$$



Физминутка

Бегун - бежит,
Пловец - плышет,
А лётчик водит самолёт.
Шофер баранку крутит так,
А я пешком хожу вот так.



**Рассмотрите математические
записи.**

$$6+6$$

$$6+7$$

- Как называются полученные записи?
- Как называются числа при сложении?
- Сравните данные суммы. Чем они похожи?
 - Сегодня на уроке будем находить значение сумм, в которых первое слагаемое – число 6.







**Работа по учебнику.
Задание №1 стр.58
Выполни в тетради**





**Работа по учебнику.
Задание №3 с.58
Выполни задание
письменно**





По рисунку составь задачу. Запиши в тетрадь краткую запись, решение и ответ к задаче.





Спасиб

о

за

урок!

