

Число и цифра 7.



Назовите предыдущее и
последующее число:

3

4


5





Назови

пропущенное число:



6

5

3

3

2

3

Заселите



5

ДОМИКИ

3	2	3	1
4	1	2	2
2	3	1	3

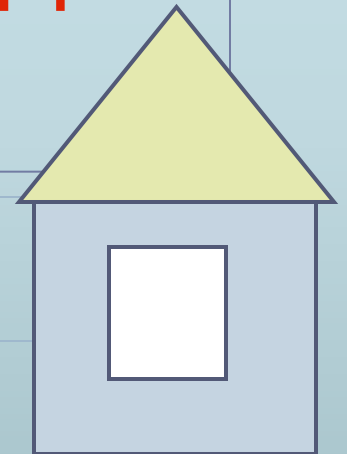


Назовите самое маленькое
число, самое большое.

2, 1, 4, 3, 5, 6



Расположите их в порядке
увеличения.

1, 2, 3, 4, 5, 6, 7



Вот семёрка – кочерга. У неё
одна нога.

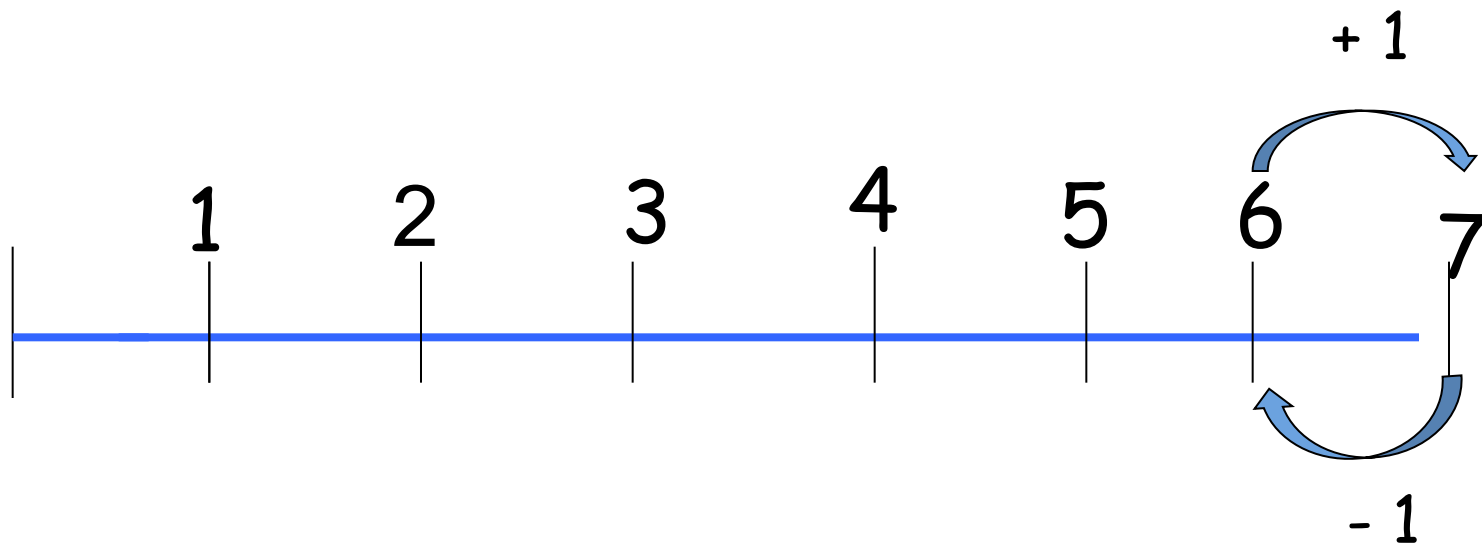
Семь – точно острая коса. Коси,
коса, пока остра.




В сказках Цифра «Семь» живет, В гости всех детишек ждет.



Как получить цифру 7 на числовом отрезке?



7 это 6 и 1



7 это 5 и 2




7 это 3 и 4




7 это 4 и 3



7 это 1 и 6



Состав числа 7



7	
1	6
2	5
3	4
4	3
5	2
6	1

Состав числа 7

4

и



1

и



2

и



5

и



6

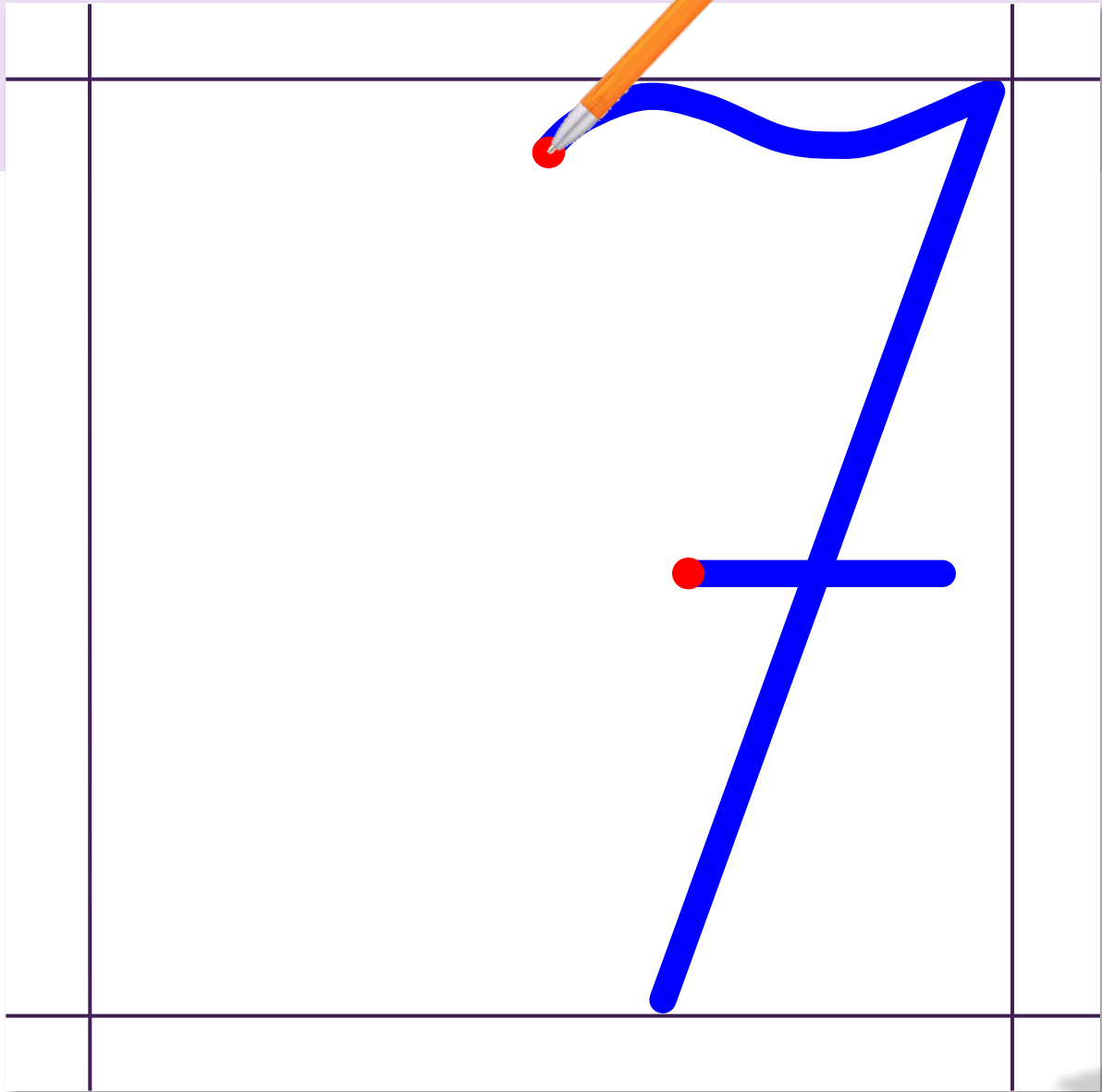
и



3

и





Состав числа



7	7	7	7
3	2	4	5
1	0	1	3
7	6	0	7
5	4	6	2

$7-3=$

$7-0=$

$7-2=$

$7-6=$

$7-5=$

$7-7=$

$7-1=$

$7-4=$

$7+0=$

$5+2=$

$0+7=$

$4+3=$

$1+6=$

$3+4=$

$2+5=$

$6+1=$



Ошибки

Отметка




КТО В КАКОМ ДОМИКЕ ЖИВЁТ ?

6



$7 - 4$



$3 + 1$



4



$8 - 2$



3



$10 - 2$



$5 + 4$



$3 + 2$



8



9



Спасибо

за

занятие!

