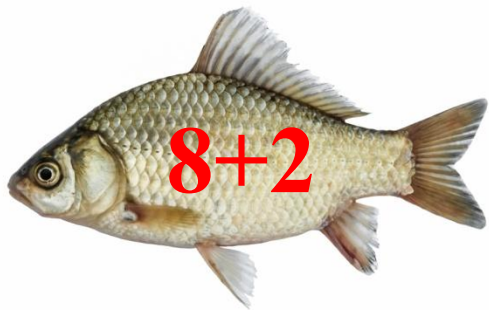


Сложение вида  $+2 +3$  с  
переходом через десяток.

Определи, в какое ведро отправится каждая из рыбок



Какая рыбка не попала в ведерко?



# Вспомни состав числа 10

10



1

2

3

4

5

6

7

8

9















$$9+2=$$

$$1 \quad 1$$

$$9+1+1=11$$

Учимся решать примеры  $9+3$  и  $8+3$













$$9 + 3 =$$


$$1 \quad 2$$

$$9 + 1 + 2 = 13$$



$$8+3=$$


$$8+3=$$


$$2 \quad 1$$

$$8+2+1=11$$