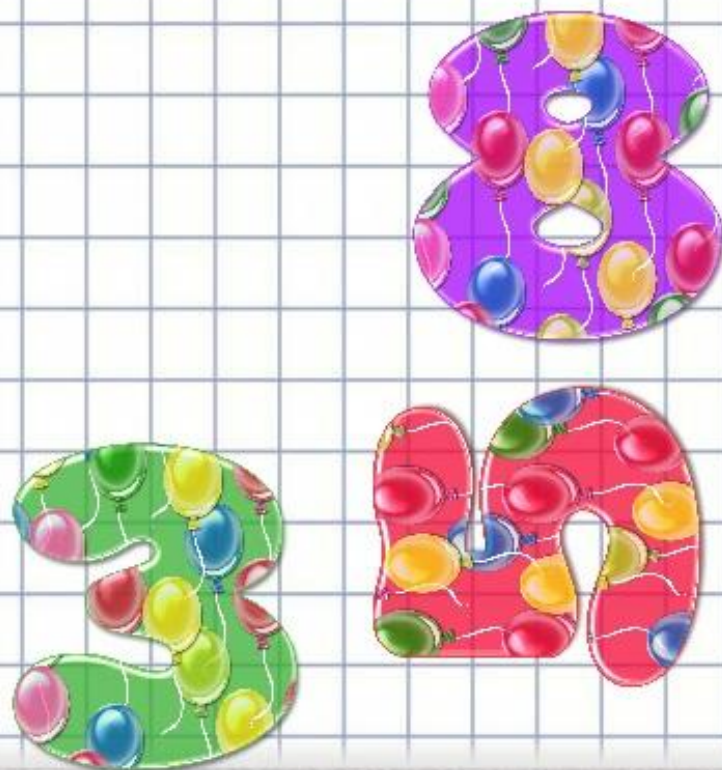


Устная нумерация чисел от 1 до 20.

Урок № 87



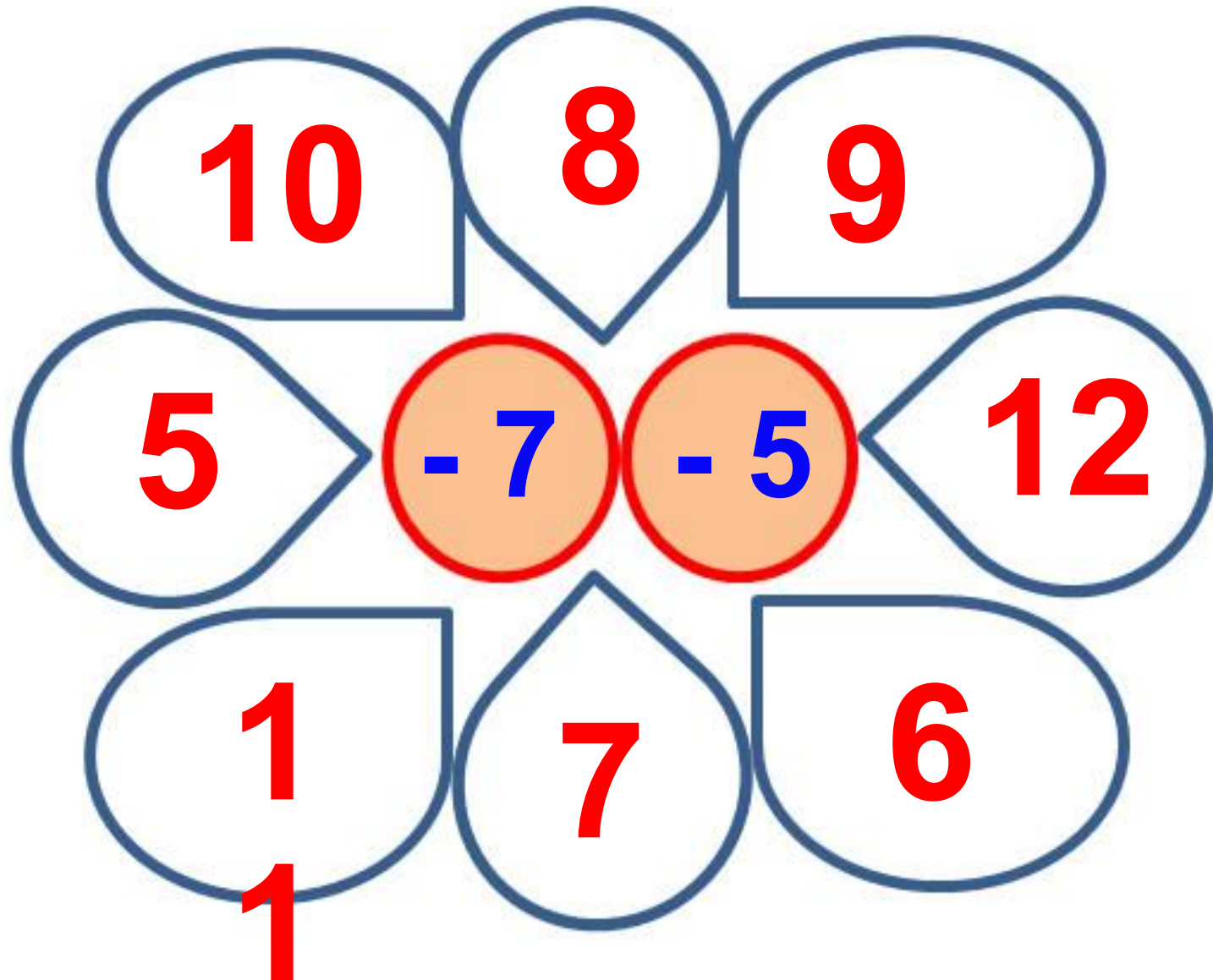
УСТНЫЙ СЧЁТ

$$2 + 2 =$$

$$6 - 4 =$$



Запиши ответы в тетрадь.



Составь задачу по решению.



$$3 + 6 = 9$$

$$9 - 3 = 6$$

После того как съели 8 пирожных, осталось 2. Сколько пирожных купила мама?

10 пирожных

$$8 + 2 = 10$$



В корзине было 10 кг яблок. После того как сварили компот, осталось 3 кг. Сколько кг потребовалось на компот?



$$10 - 3 = 7$$



НОВЫЙ МАТЕРИАЛ





ДЕСЯТОК

Сосчитай яблоки.



$$10 + 1 = 11$$



$$10 + 2 = 12$$



$$10 + 3 = 13$$



$10 + 4 = 14$

$10 + 9 = 19$

$10 + 5 = 15$

$10 + 10 = 20$

$10 + 6 = 16$

$10 + 7 = 17$

$10 + 8 = 18$



Прочитай числа.

11

12

13

14

15

16


17

18

19


20

РАБОТА ПО УЧЕБНИКУ

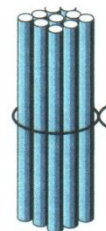


Стр. 46 - 47

Узнаем, как образуются числа второго десятка.
Научимся их называть.



Десять.



Десяток.



одиннадцать



шестнадцать



двенадцать



семнадцать



тринадцать



восемнадцать



четырнадцать



девятнадцать



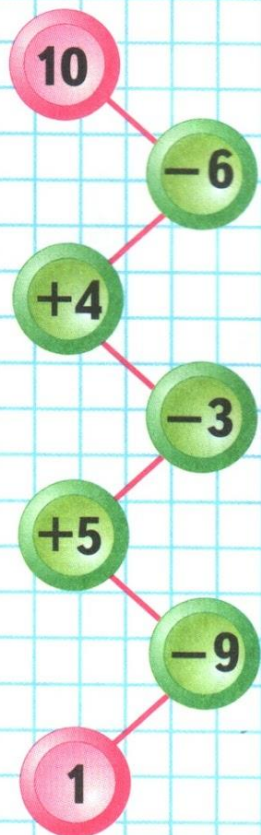
пятнадцать




двадцать



ЦЕПОЧКА:



1. Прибавляй по одному, начиная с числа *одиннадцать*, до числа *двадцать*.
2. Сколько красных флажков на нитке? синих?



Сколько всего флажков? Как по-разному можно ответить на этот вопрос?

3. Дети посадили у школы 7 липок и 3 берёзки.

1) Сколько всего деревьев посадили дети?

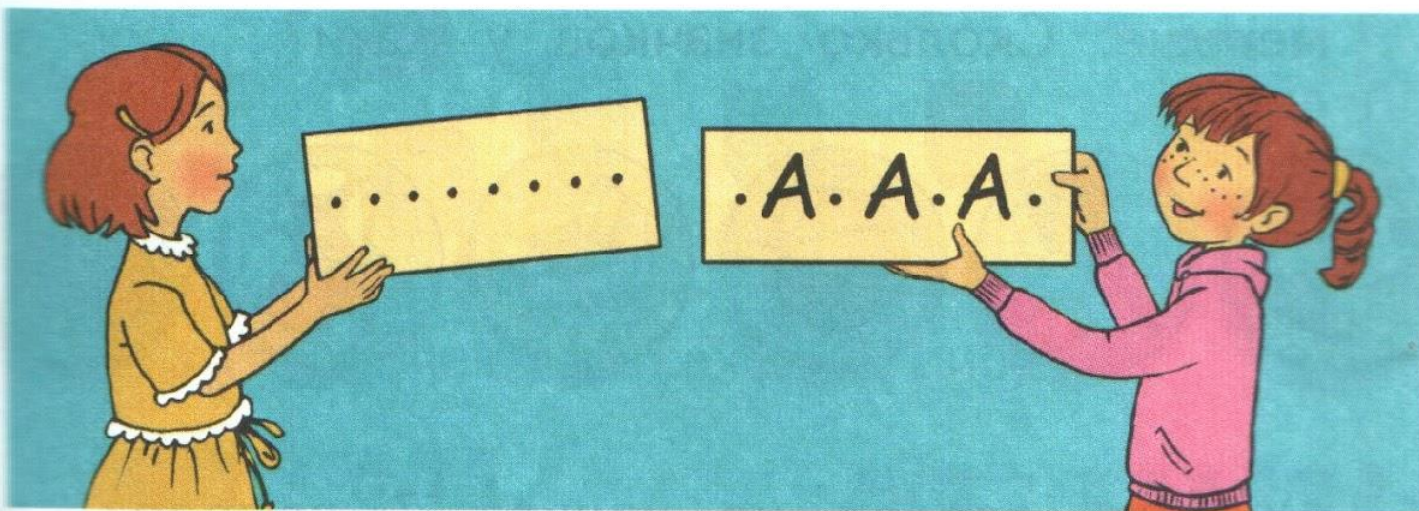
2) На сколько меньше ..., чем ..., посадили дети?

4. 1) Чтобы сделать кормушки для птиц, Ваня выпилил 4 дощечки, а Вася — на 2 больше. Сколько дощечек выпилил Вася?

2) Ваня выпилил 4 дощечки, а Вася — 6 дощечек. Сколько всего дощечек выпилили мальчики?

5. Начерти два отрезка длиной 10 см и 6 см. На сколько сантиметров первый отрезок длиннее второго?

6. Девочки отгадывали имена героев сказки «Золотой ключик, или Приключения Буратино». Таня записала слово из 8 разных букв, а Юля — из 7 букв. На сколько меньше букв использовала Юля, чем Таня? На сколько больше разных букв использовала Таня, чем Юля?



7. $6 - 5 + 3$

$9 - 6 - 3$

$8 - 2 - 4$




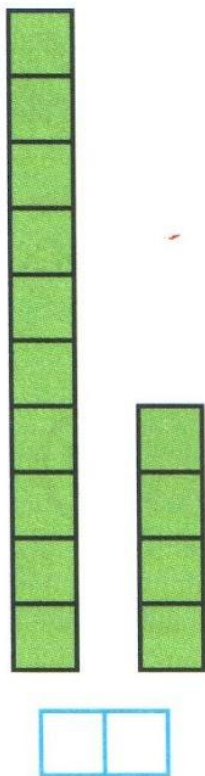
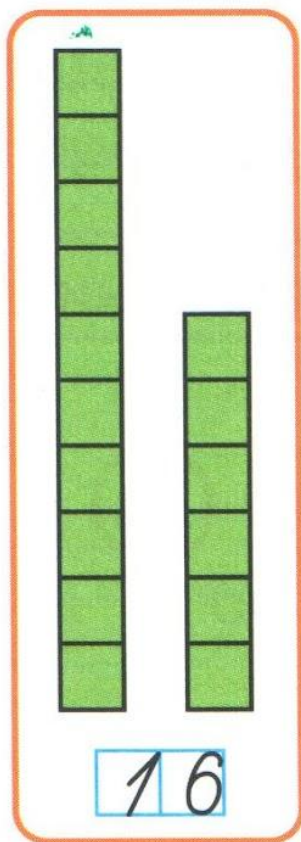
$7 - 5 + 3$

$9 - 6 + 3$

$8 - 2 + 4$

ЧИСЛА ОТ 1 ДО 20

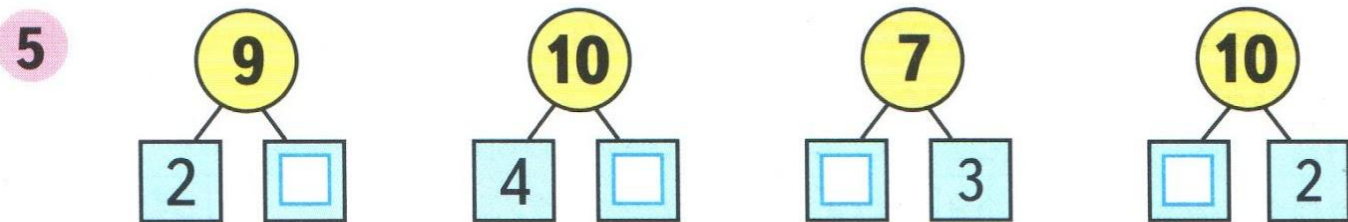
1



2 11, 12, , , 15, , , 18, , .

3 $9 - 7 =$ $7 - 3 =$ $10 - 8 =$
 $10 - 6 =$ $8 - 3 =$ $9 - 6 =$

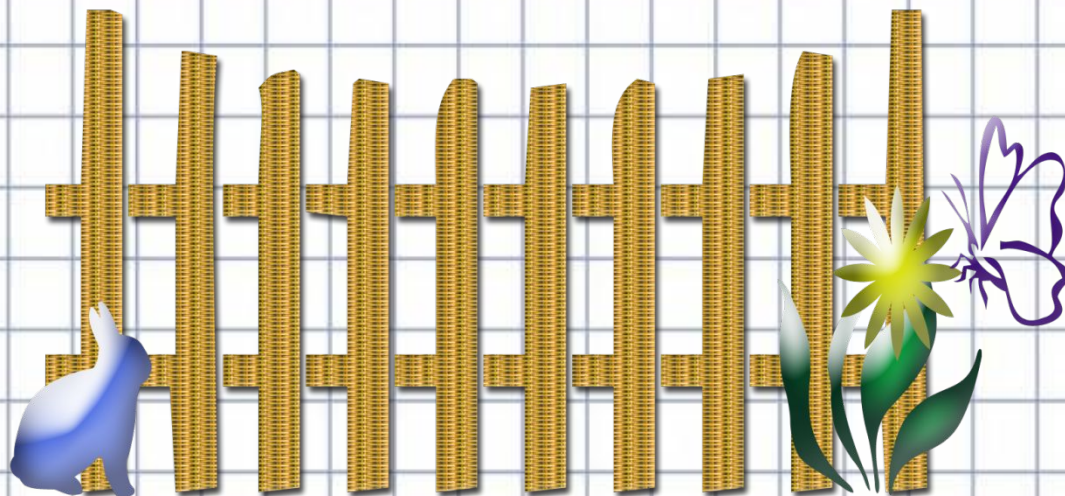

4 20, 19, , , , 15, , , 12, , .



6 $8 - 6 + 7 =$ $10 - 8 + 6 =$
 $9 - 4 + 3 =$ $10 - 7 - 0 =$



Первый отрезок на □ см _____ второго.



коза



шары