

# Движение навстречу друг другу

**А**

48 км/ч

$t - ?$

12 км/ч

240 км



**Б**



А

Б



**A**



48 км/ч



180 км



12 км/ч



**Б**

А


Б



4 часа

А

Б




# Движение в одном направлении




**сближение**

25 км/ч



*t* - ?

15 км/ч

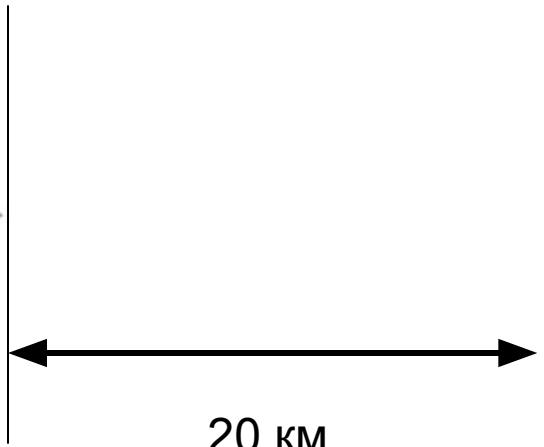



30 км









20 KM



*3 часа*



# **Движение в одном направлении**



**удаление**

15 км/ч



25 км/ч




$$t = 1 \text{ ч}$$

$$t = 3 \text{ ч}$$

$$S = ?$$











30 км




# Движение навстречу друг другу



$v_c - ?$

3 км/ч



$V_{no m.} - ?$

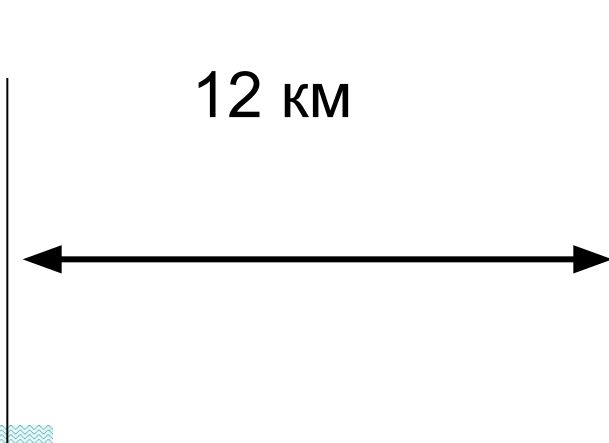
9 км/ч




24 км

$t - ?$










*2 часа*

*Спасибо за работу!*



*Поставьте себе  
оценки.*