

*Вопросы
и задания блока
«Я программирую»*



Как называются показанные на рисунке блоки и для чего они предназначены?



Как называется показанный на рисунке блок и для чего он предназначен?

Каким образом будут работать электромотор, если в программу вставлены эти блоки моторов?

1)



2)



3)



4)



10

5)



90

*Как при помощи блока
«Ждать» можно управлять
работой модели используя
следующие входы:*



- вход Число



- вход Датчик расстояния




- вход Датчик наклона




Как называются показанные на рисунке блоки и для чего они предназначены?


*Каким образом будет
работать модель
«Механический
молоток» по
изображенной
ниже программе?*



*Перед вами модель
«Карусель для птичек»
Опишите, каким
образом она будет
работать по
изображенной ниже
программе?*




*Перед вами модель
«Рычащий лев»
Опишите, каким
образом она
будет работать
по изображенной
ниже программе?*




	6		4	14		4		2	17

*Звук 14 – рычание;
Звук 17 - хруст*

*Перед вами модель
«Пеликан»
Каким образом она
будет работать по
изображенной ниже
программе?*



*Звук 18 – хлопанье крыльев;
Фон экрана 2 – луг;
Фон экрана 1 – небо.*



Перечислите варианты кода, которые необходимо вставить блок «Начать при получении письма» пятой части программы для того, чтобы запустить модель.

*Спасибо за ответы.
Молодцы.*