

Смутное время

продолжение



В 1607 году на юге Росси объявился новый самозванец – якобы «чудесно спасшийся из Москвы царь Дмитрий»

Пункт 8, стр.14-15

- Кто был этот новый самозванец?
- По чьей инициативе он объявил себя Дмитрием?
- Под каким прозвищем этот новый самозванец вошёл в историю России?
- Какие слои населения поддержали его? Как вы думаете, почему? Кто вошёл в его войско?

Тушинский лагерь

Рассмотри иллюстрацию. Какие группы населения представлены в войске второго самозванца?



Польские наемники и феодалы
Стрельцы и служилые люди,
перешедшие на сторону
Лжедмитрия

Казачи






А также крестьяне, горожане,
дворяне, бояре - всего около 100
тыс. человек

Стр. 15

- Почему Тушино стало как бы «второй столицей» России?
- Но вскоре народ перестал поддерживать тушинцев. Почему?

Найдите на карте Троице-Сергиев монастырь. Чем он прославился в 1608-1610 годах?



-  Граница Российского государства в начале XVII в.
-  Поход Лжедмитрия I на Москву в 1604-1605 гг.
-  Поход восставших под предводительством Болотникова к Москве и отход их к Калуге и Туле
-  Поход Лжедмитрия II в 1608 г.
-  Вторжение войск Речи Посполитой в пределы Российского государства и походы их на Москву в 1609-1618 гг.
-  Походы шведских войск в 1609-1615 гг.
-  Движение отрядов к Москве под предводительством Минина и Пожарского в 1612 г.
-  Земли, отошедшие к Швеции по Столбовскому миру 1617 г.
-  Земли, отошедшие к Речи Посполитой по Деулинскому перемирию 1618 г.

Осада Троице-Сергиевой

Лавры

Обратите внимание, что в защите лавры (монастыря) участвовали и монахи, и собравшиеся под защитой его крепостных стен крестьяне и ремесленники.



Для борьбы против Лжедмитрия II царь Василий Шуйский, у которого не хватало войска, обратился за помощью к Швеции, пообещав отдать часть русских земель с крепостью.

Какую именно крепость? – стр.15

Найдите на карте крепость, которую царь Василий Шуйский пообещал отдать шведам.



- Граница Российского государства в начале XVII в.
- Поход Лжедмитрия I на Москву в 1604-1605 гг.
- Поход восставших под предводительством Болотникова к Москве и отход их к Калуге и Туле
- Поход Лжедмитрия II в 1608 г.
- Вторжение войск Речи Посполитой в пределы Российского государства и походы их на Москву в 1609-1618 гг.
- Походы шведских войск в 1600-1615 гг.

Как показан на карте путь совместного русско-шведского войска, пришедшего на помощь Троице-Сергиевой лавре? Под каким городом они нанесли крупное поражение самозванцу? Кто командовал этим войском? Стр 16

**Михаил
Скопин-
Шуйский,
племянник
царя.**

**Талантливый
полководец,
возглавивший
русско-
шведское
войско.**












Пункт 11 стр. 16.

- В 1609 г. польский король объявил России войну и вторгся в её пределы. Что послужило поводом (предлогом) для войны?
- Как повлияло на положение дел в стране вступление в Смуту внешних сил – поляков и шведов? Какие цели преследовали Польша и Швеция, вторгаясь на территорию России?

Звездочкой обозначено с.Клушино. Что там произошло?
Кто командовал русским войском?
Почему не талантливый Скопин-Шуйский?



-  Граница Российского государства в начале XVII в.
-  Поход Лжедмитрия I на Москву в 1604-1605 гг.
-  Поход восставших под предводительством Болотникова к Москве и отход их к Калуге и Туле
-  Поход Лжедмитрия II в 1608 г.
-  Вторжение войск Речи Посполитой в пределы Российского государства и походы их на Москву в 1609-1618 гг.
-  Походы шведских войск в 1609-1615 гг.
-  Движение отрядов к Москве под предводительством Минина и Пожарского в 1612 г.
-  Земли, отошедшие к Швеции по Столбовскому миру 1617 г.
-  Земли, отошедшие к Речи Посполитой по Деулинскому перемирию 1618 г.

Битва при Клушине

DEXTERA DOMINI FECIT VIRTUTEM.



IN PROELIATO AD KLV SZYNVM NVMEROSISSIMO MOSCORVM ET EXTERORVM CONDIGATORVM EXER-
CITU AVSPICIS SIGISMVNDI III POLONORVM ET SVECORVM REGIS, DVCTO ET REGIMINE STANISLAI
ZORIEVSKI THNE, PALATINI KYOVJENSIS ET EXERCITVVM REGNI POLONIE CAMPESTRIS,
POST SVPREMI REGNI CANCELLARY ET GENERALIS DVCE, ANNO DOMINI MDCV. JVLII III.

Куда делся царь Василий Шуйский? Кого решили поставить на его место? Стр. 22

Семибоярщина

- Семибоярщина - принятое историками название переходного правительства из семи бояр летом 1610 года



**Запишит
е
определ
ение
понятия.**



Патриарх Гермоген



Патриарх Филарет

- Приведите доказательство трудного внешнеполитического положения России в 1611 году. Какие планы строили в отношении России европейские державы?

Домашнее задание

- Параграф 15, пункты 8-11
- Параграф 16
- По пунктам 3,4,5 и 6 составить «Хронику событий» (выписать дату+событие).
- Вопросы к пар.16 с 3 по 6 устно.
- Найдите на карте стр.105 путь второго ополчения. Подумайте, почему он был именно таким.
- Выпишите в тетрадь даты со след. слайда. Начните их учить.

События Смутного времени

Выпишите даты

- 1598 -избрание Бориса Годунова царем
- 1600-1603 – «голодные годы»
- 1603 –восстание Хлопка
- 1604 –появление самозванца Лжедмитрия

1. 1605-1606- правление Лжедмитрия I

2. 1606-1610- правление Василия Шуйского

- А) 1606-1607- восстание под предводительством И. Болотникова
- Б) 1607- появление самозванца Лжедмитрия II
- В) 1609- интервенция Швеции и Польши

3. 1610-1613- «семибоярщина»

- А) 1611- деятельность I ополчения
- Б) 1612- деятельность II ополчения
- В) 1613- избрание царем Михаила Романова