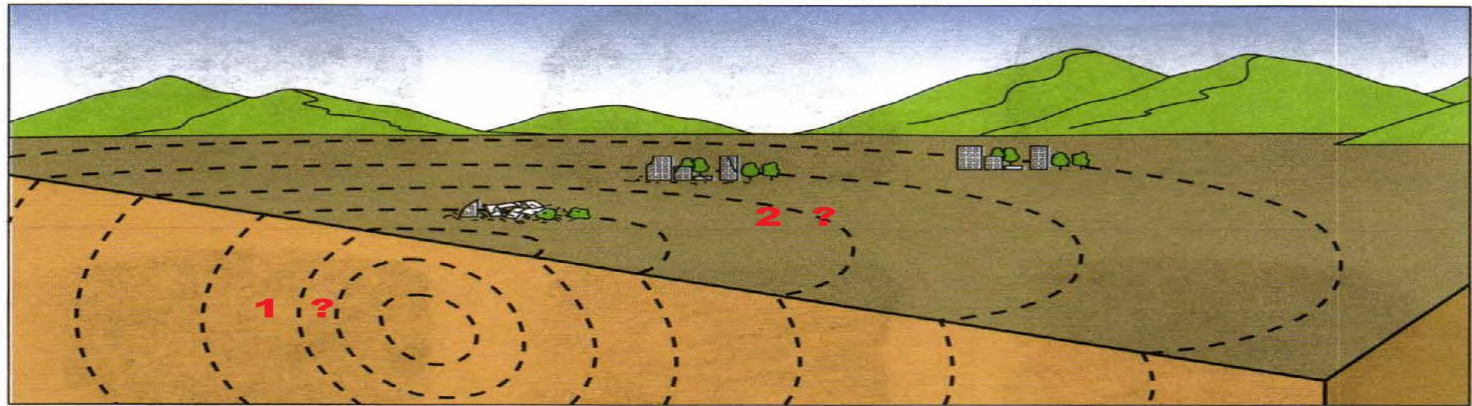


# Тема: Землетрясения и вулканы

# Изучите § 21 в учебнике, выполните работу

- Под какой цифрой находится очаг землетрясения и эпицентр?



## 2. Каковы причины землетрясения?

---

---

---

---

---

---

---

---

---

---

**3.** Дайте определения понятий.

Магма — это \_\_\_\_\_

\_\_\_\_\_

Кратер — это \_\_\_\_\_

\_\_\_\_\_

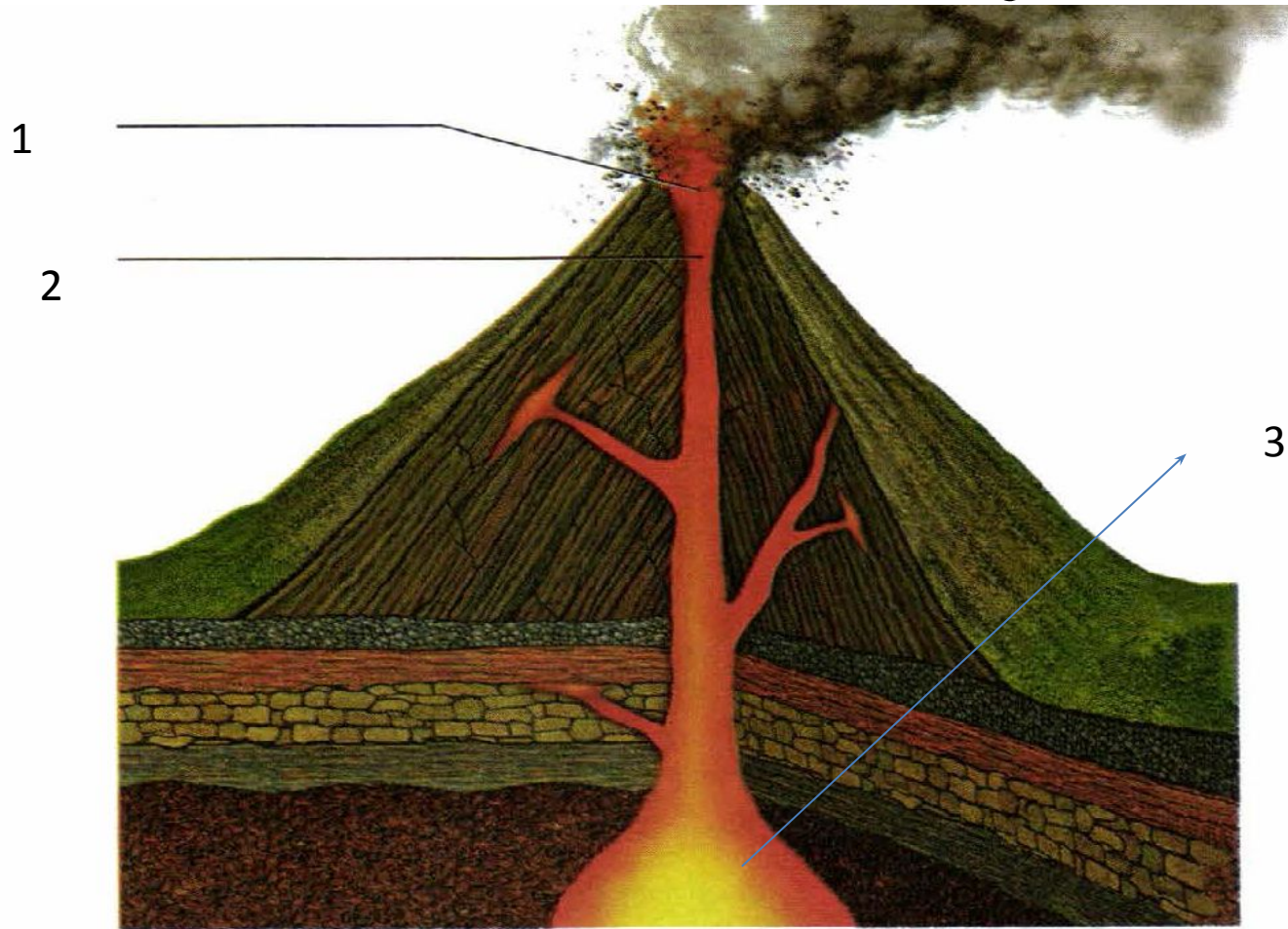
Жерло — это \_\_\_\_\_

\_\_\_\_\_

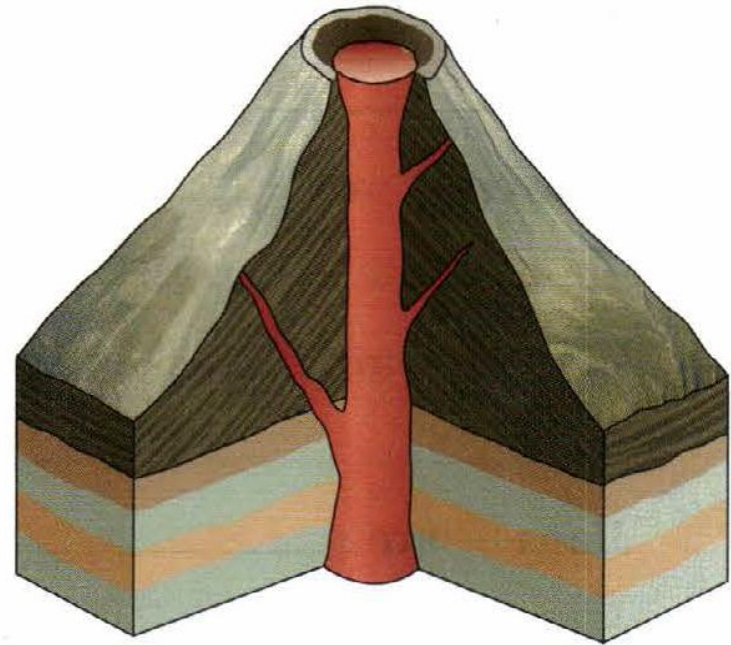
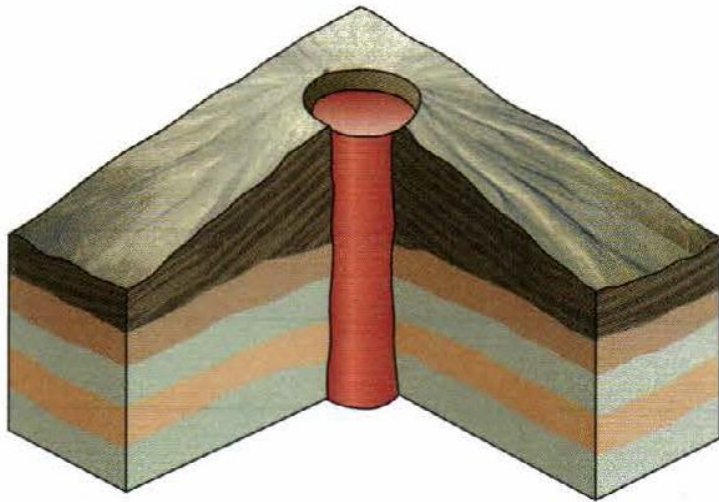
Лава — это \_\_\_\_\_

\_\_\_\_\_

# 4. Зарисуйте в тетрадь и подпишите части вулкана



5. Рассмотрите рисунки. Укажите виды изображённых вулканов.



# Домашнее задание

- §21, письменно выполните задание на слайдах 2,3,4,5,6
- По желанию:

С помощью дополнительных источников информации подготовьте сообщение о крупных землетрясениях или извержениях вулканов. Укажите источники информации, которые вы использовали.

---

---

---

---

---

---

---

---

# Домашнее задание

Задание пришлите до 30 апреля на адрес  
ПОЧТЫ:

[kukarovaalbina@yandex.ru](mailto:kukarovaalbina@yandex.ru)