




Перед вашими глазами находится картинка, на которой изображены Дедушки Морозы. И кажется, что кроме них тут больше ничего и нет. Но это не так. Здесь спрятано целых семь предметов. Так что внимательно приглядитесь к фотографии и попытайтесь их отыскать.









Hause

Word List



G	T	U	P	X	C	Q	P	I	W
S	T	U	H	L	O	B	I	L	D
E	F	L	D	V	U	T	Z	X	J
S	E	A	S	H	C	E	U	S	P
S	N	M	O	E	H	P	U	C	O
E	S	P	F	S	E	P	K	H	F
L	T	E	A	D	H	I	Z	R	O
U	E	K	U	P	M	C	R	A	G
G	R	J	Y	Q	N	H	B	N	K
T	I	S	C	H	N	W	V	K	J

- TEPPICH
- SOFA
- STUHL
- BILD
- COUCH
- LAMPE
- SCHRANK
- FENSTER
- TISCH
- SESSEL

Reset





Запомни, какого цвета каждый предмет.



$$+1 \neq 5 - 4$$

$$+2 \neq 5 - 3$$

$$+3 \neq 5 - 2$$

$$+4 \neq 5 - 1$$

$$-1 = +4 - 5$$

$$-2 = +3 - 5$$

$$-3 = +2 - 5$$

$$-4 = +1 - 5$$



$$+1 = 9 + 10$$

$$-1 = 10 + $$

$$+2 = 8 + 10$$

$$-2 = 9 + 10$$

$$+3 = 7 + 10$$

$$-3 = 8 + 10$$

$$+4 = 6 + 10$$

$$-4 = 7 + 10$$

$$+5 = 5 + 1$$

$$-5 = 6 + 10$$

$$+9 = 1 + 10$$

$$+8 = 2 + 10$$

$$+7 = 3 + 10$$

$$+6 = -4 + 10$$

$$-9 = -10 + 1$$

$$-8 = -10 + 2$$

$$-7 = -10 + 3$$

$$-6 = -10 + 4$$



4) Решение примеров на формулу $+7=-3+10$.

- примеры диктуем на слух

1	2	3	4	5	6	7	8	9	10
8	4	8	6	4	3	5	4	9	9
5	7	7	2	7	7	3	7	7	5
7	4	-1	7	-5	-9	7	5	-5	7



1	2	3	4	5	6	7	8	9	10
97	89	23	13	48	81	73	93	86	74
-14	74	13	47	97	74	37	31	45	37
87	-33	79	42	25	-28	-18	87	77	-54

1	2	3	4	5	6	7	8	9	10
44	33	41	72	24	52	94	96	43	28
85	97	70	-35	77	-39	57	70	-15	47
35	-49	59	75	-38	77	-59	-34	37	53
27	-58	-25	-80	-55	-68	54	-23	20	-80

Задача 1

С какой скоростью должна двигаться собака, чтобы не слышать звона сковородки, привязанной к ее хвосту?



Задача 2

Если пять кошек ловят пять мышей за пять минут, то сколько времени нужно одной кошке, чтобы поймать одну мышку?



Задача 3

В каком случае 3 мальчика,
2 девочки, 4 взрослых, собака
и кот не намокнут, встав
все под 1 обычный зонт?



Задача 4

Как нужно бросить мяч, чтобы он точно прилетел к вам обратно?



Задача 5



Собака была привязана к десятиметровой верёвке, а прошла по прямой двести метров. Как ей это удалось?

Задача 6

У пуговицы 4 дырочки,
а у свистка 1 дырочка.
Во сколько раз громче
свистит пуговица?




Правильные ответы


1. С нулевой. Собаке нужно стоять на месте.
2. Пять минут.
3. Если не будет дождя.
4. Вверх.
5. Верёвка не была ни к чему привязана.
6. Пуговица не свистит.


АРИФМЕТИЧЕСКАЯ ГОЛОВЛОМКА 2

Решая математические примеры и заполняя пустые клеточки головоломки.

29	-	18	+	35	=	
+						-
15	-		+	13	=	21
+						+
	-	19	+		=	
=						=
88	-		+	17	=	77
44	+	24	+		=	83
-		-		-		-
	+	27	+		=	54
+		+		+		+
52	+		+	41	=	
=		=		=		=
	+		+	38	=	177







<https://meduza.io/shapito/2020/08/27/opticheskaya-illyuziya-fotograf-pokazal-kak-obmanut-mozg-i-prevratit-chno-beloe-foto-v-tsvetnoe>