
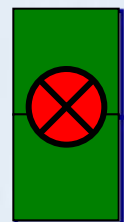
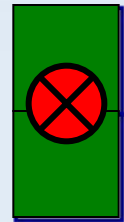


1.	
а б в	
	1
2.	
а б в	1
3.	
а б в	1
4.	
а б в г	
	1
5.	
а б в г	1



1.	
а	
б	1
в	
г	1
2.	
а	
б	1
в	
г	
3.	
а	1
б	
в	
г	1






Сопоставьте

а	Стачной шов	1	
б	накладной	2	
в	Шов вподгибку с открытым срезом	3	
		4	


а	б	в
1	1	1
2	2	2
3	3	3
4	4	4

А-3, б-4, в-2





5.	
а	1
б	
в	



4.	
а	1
б	
в	

