

Африка в Мире.

География ,7 класс

- 1 . Рассмотрение особенностей изучения и освоения территории Африки.
- 2 . Население Африки – религии, культура, отличительные черты и этнические группы.
- 3 . Хозяйственная деятельность населения.
- 4 . Памятники истории , природы и культуры.

Цели урока:

Изначально словом «афри» жители древнего Карфагена называли людей, обитавших недалеко от города. Это название обычно относят к финикийскому *afar*, что значит «пыль». После завоевания Карфагена римляне назвали провинцию Африкой


Изучение Африки

В 14 веке арабский путешественник Ибн Баттута исследовал полуостров Сомали, совершил путешествие по территории Тимбукту и Мали.

Ибн Баттута



В 1497—1499 годах португальская экспедиция во главе с Васко да Гама обогнула Африку и от полуострова Сомали направилась в Индию.




Васко да Гама



Давид Ливингстон задумал изучить реки Южной Африки и найти естественные проходы вглубь материка. Он совершил плавание по Замбези, открыл водопад Виктория, определил водораздел озера Ньяса, Танганьика и реки Луалаба. В 1849 году он первым из европейцев пересёк пустыню Калахари и исследовал озеро Нгами. Во время своего последнего путешествия он пытался отыскать истоки Нила.


Давид Ливингстон



Д. ЛИВИНГСТОН

Генрих Барт установил, что озеро Чад бессточное, первым из европейцев изучил наскальные рисунки древних жителей Сахары и высказал свои предположения об изменении климата Северной Африки.

Генрих Барт



- Используя презентацию и учебник (стр.103) Заполнить таблицу

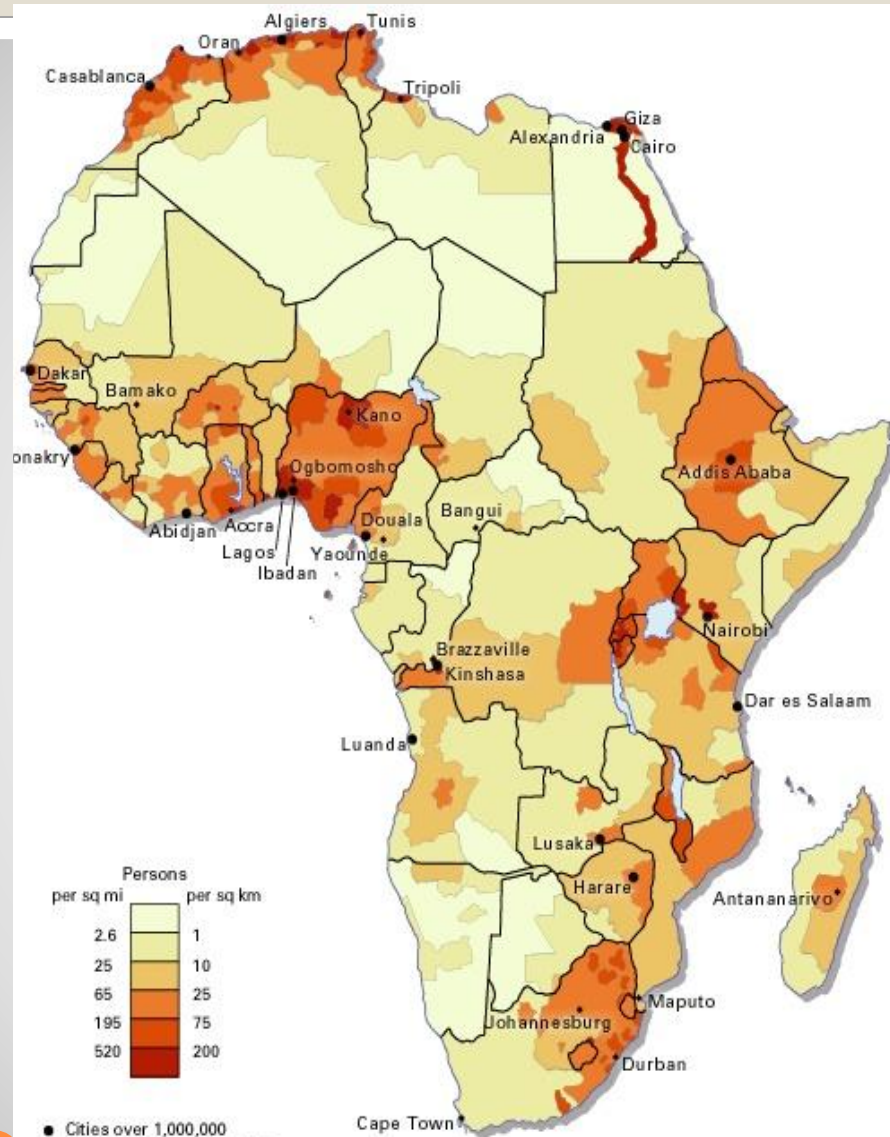
Исследователь Африки	Что изучал
Ибн Баттута	
Васко да Гама	
Давид Ливингстон	
Генрих Барт	
Д. Стэнли	
В.В.Юнкер	

Задание 1 (письменно в тетради)

Население состоит в основном из представителей двух рас: негроидной южнее Сахары, и европеоидной в северной Африке (арабы) и ЮАР (буры и англоюжноафриканцы). Наиболее многочисленным народом являются арабы Северной Африки. Смешанные расовые группы населения – мальгаши (жители о. Мадагаскар).

Население Африки





Плотность населения

Используя карту плотности населения (слайд 13) определить, в каких регионах континента проживает максимальное, а в каких минимальное количество населения. Чем можно объяснить такое расселение?

Задание 2 (письменно в тетради)

- 1 . Добывающие отрасли.
- 2 . Сельское хозяйство.
- 3 . Рыболовство.
- 4 . Туристическая индустрия.
- 5 . Традиционные отрасли хозяйства (сувениры).
- 6 . Некоторые отрасли промышленности.

Виды деятельности населения Африки

Хозяйственная деятельность людей. Хозяйственная деятельность людей

Население выращивают различные растения, например: каучуконосы, бананы, кофе, хлопчатник. Заготавливают ценные породы древесины, занимаются охотой, собирательством.



Хлопчатник





Ливийские рыбаки



Традиционные занятия

ПАМЯТНИКИ ИСТОРИИ АФРИКИ









ПАМЯТНИКИ ПРИРОДЫ АФРИКИ









- 1 . Выполнить задание №1 и №2
письменно в тетради
2. Прочитать параграф 26

Домашнее задание