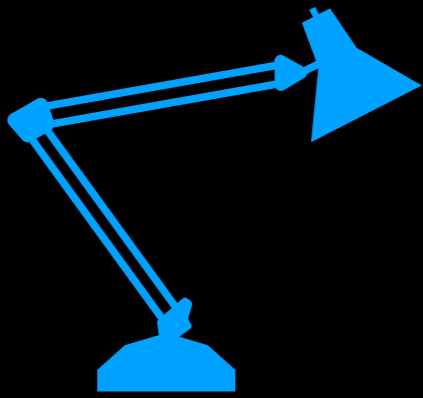


Вводный курс 2

ЕГЭ Сова. Полина Андреевна Алексеева



Задание 1

КРИТЕРИЙ СРАВНЕНИЯ	... ИЗБИРАТЕЛЬНАЯ СИСТЕМА
Деление страны на избирательные округа	Страна делится на избирательные округа
За кого происходит голосование	Избиратели голосуют за личность
Как определяется победивший	Победившим считается кандидат, набравший большинство голосов

ПОДСИСТЕМА	ЭЛЕМЕНТЫ ПОДСИСТЕМЫ
Нормативно-правовая	Совокупность законов, кодексов, подзаконных актов, регулирующих жизнедеятельность субъектов, институтов политической системы и общества в целом
...	Совокупность взаимоотношений и взаимосвязей между субъектами и институтами политической системы общества




Задание 2



Найдите понятие, которое является обобщающим для всех остальных понятий представленного ниже ряда. Запишите это слово (словосочетание).

Семейное право, предпринимательское право, частное право, трудовое право, гражданское право.

Задание 3



Ниже приведён ряд терминов. Все они, за исключением двух, характеризуют социальную стратификацию современного общества.


- 1) объём власти
- 2) уровень образования
- 3) этническая принадлежность
- 4) престиж занимаемой позиции
- 5) доход
- 6) возраст

Найдите два термина, «выпадающих» из общего ряда, и запишите в ответ цифры, под которыми они указаны.

БЛОК «ЧЕЛОВЕК И ОБЩЕСТВО»»




Задание 4



Найдите в приведенном списке черты, свойственные народной культуре. Запишите цифры, под которыми они указаны.

- 1) авторство часто не определено
- 2) носит преимущественно коммерческий характер
- 3) не требует специальной подготовки для своего восприятия
- 4) появилась раньше других форм культуры
- 5) рассчитана на узкий круг ценителей



Задание 5

Установите соответствие между событиями и связанными с ними видами социальной мобильности: к каждой позиции, данной в первом столбце, подберите соответствующую позицию из второго столбца.

СОБЫТИЯ

- А) учитель школы назначен ее директором.
- Б) доцент кафедры получил должность профессора.
- В) старший менеджер перешел работать на другое предприятие.
- Г) инженер переехал работать и жить в другой город.

Запишите в таблицу выбранные цифры под соответствующими буквами.

А	Б	В	Г

Задание 6




Иван выполнял задание по теме: «Человек как результат биологической и социокультурной эволюции». Он выписывал из учебника черты, свойственные человеку. Какие из них отражают специфику социальной природы человека, в отличие от животного? Запишите цифры, под которыми они указаны.

- 1) использование предметов, данных природой
- 2) способность к целеполаганию
- 3) забота о потомстве
- 4) приспособление к условиям окружающей среды
- 5) стремление понять окружающий мир
- 6) общение с помощью членораздельной речи

Блок «ЭКОНОМИКА»»





Задание 7

Найдите в приведённом ниже списке меры, способствующие снижению инфляции, и запишите цифры, под которыми они указаны.

- 1) увеличение расходов государства на социальные программы
- 2) закрытие убыточных предприятий
- 3) изъятие «лишних» денег центральным банком
- 4) отказ от повышения зарплат и пенсий
- 5) переход на натуральный обмен вместо денежного

Задание 8



Установите соответствие между видами статей в государственном бюджете и конкретными примерами: к каждой позиции, данной в первом столбце, подберите соответствующую позицию из второго столбца.


ПРИМЕРЫ

- А) акцизный сбор
- Б) обслуживание госдолга
- В) подоходный налог с граждан
- Г) выплата жалования служащим
- Д) процент по государственным облигациям

ВИДЫ СТАТЕЙ

- 1) расходные статьи
- 2) доходные статьи


Запишите в ответ цифры, расположив их в порядке, соответствующем буквам:



Задание 9

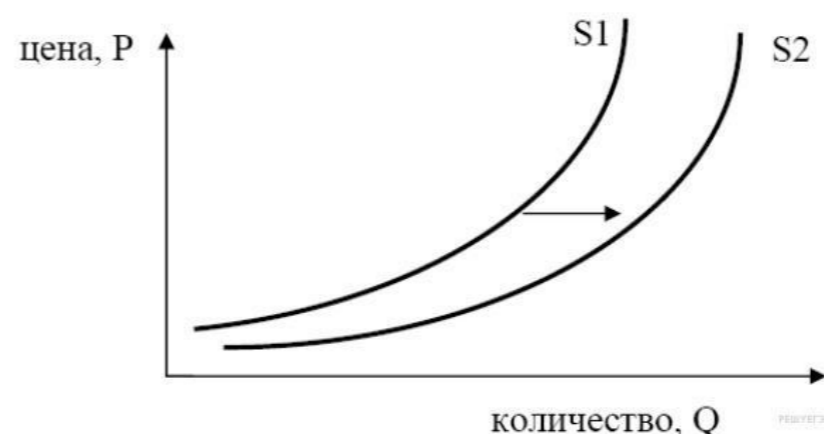
Найдите в приведенном списке виды безработицы.
Запишите цифры, под которыми они указаны.

- 1) естественная
- 2) фрикционная
- 3) производственная
- 4) циклическая
- 5) структурная



Задание 10

На графике изображено изменение предложения роликовых коньков на потребительском рынке. Что из приведённого ниже могло вызвать сдвиг кривой предложения из положения S1 в положение S2? (на графике по вертикали — цена товара, по горизонтали — количество товара).

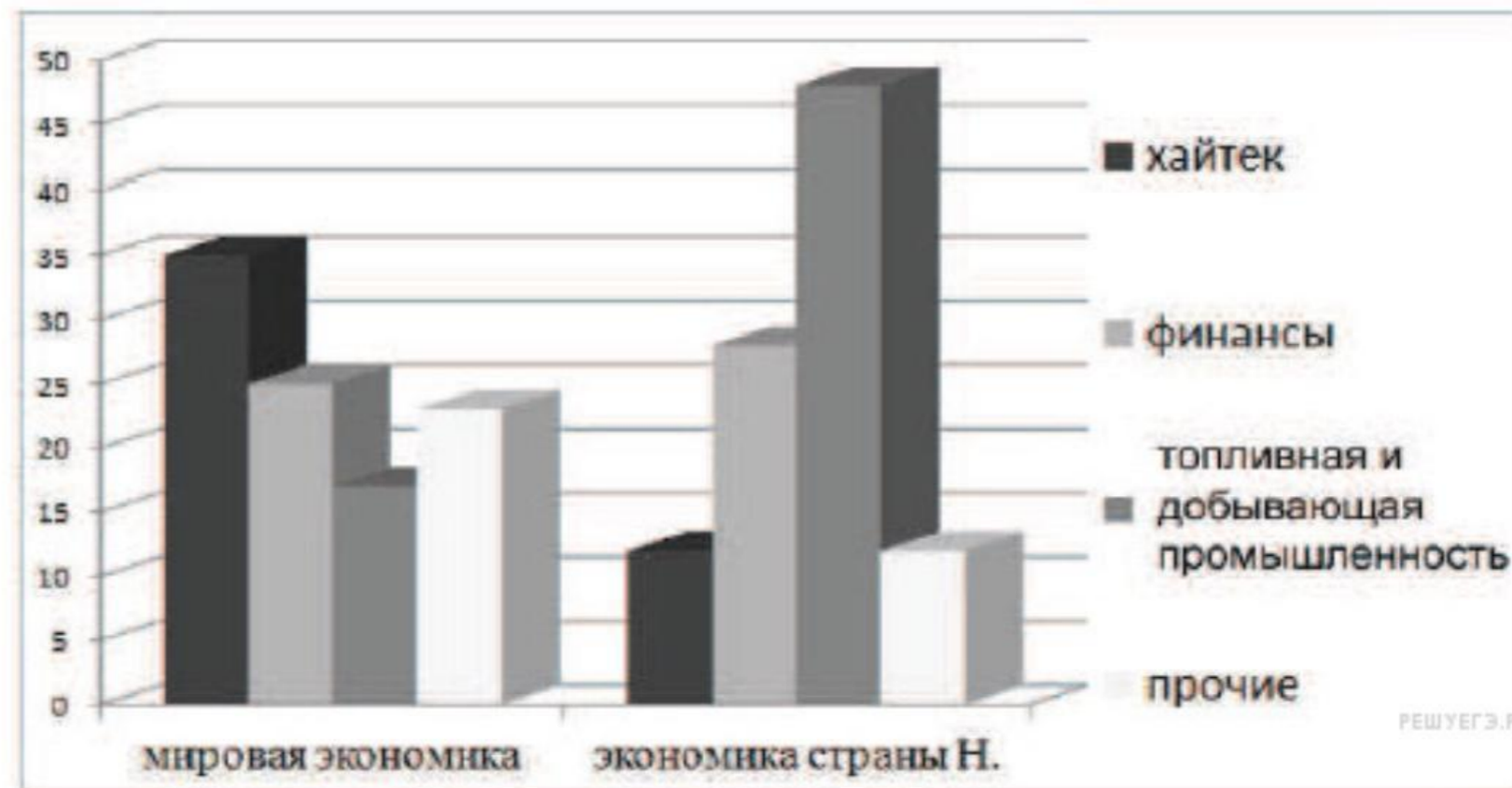


- 1) сокращение количества фирм, производящих роликовые коньки
- 2) внедрение новых технологий производства роликовых коньков
- 3) рост цен на комплектующие изделия для роликовых коньков
- 4) рост тарифов на электроэнергию
- 5) снижение налогов на комплектующие изделия для роликовых коньков

Аналитический центр Министерства экономического развития страны Н. провёл сравнительное исследование структуры мировой экономики и экономики национальной. В фокусе внимания исследователей было выявление доли различных отраслей в структуре обеих экономик.

Результаты проведённого исследования были обобщены и представлены на диаграмме.

Сравнение структуры мировой экономики и экономики страны Н.



Какие выводы непосредственно следуют из приведённой информации?

Блок «СОЦИОЛОГИЯ»



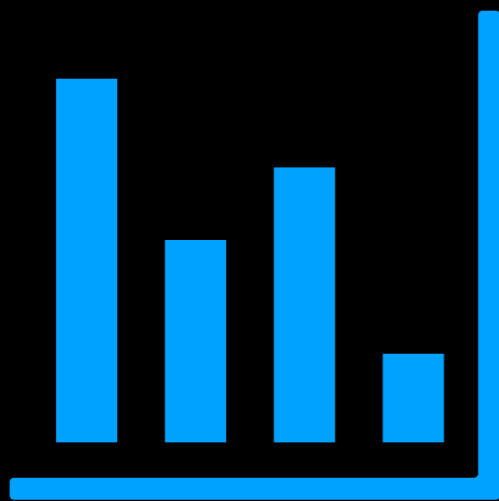
Задание 11




Найдите в приведённом ниже списке характеристики патриархальной (традиционной) семьи. Запишите цифры, под которыми они указаны.

- 1) совместное проживание нескольких поколений
- 2) принятие решений всеми членами семьи
- 3) экономическая самостоятельность женщины
- 4) организация быта как основная экономическая функция
- 5) жёсткое распределение мужских и женских обязанностей
- 6) совместная производственная деятельность

Задание 12



Социологи опросили 23-летних работающих юношей и девушек страны Z. Им задавали вопрос: «Зачем Вы работаете, какова Ваша трудовая мотивация?». Полученные результаты (в % от числа опрошенных) представлены в виде диаграммы.



Найдите в приведённом списке выводы, которые можно сделать на основе диаграммы, и запишите цифры, под которыми они указаны.

1) Половина юношей работает для того, чтобы обеспечить материальное благополучие.

2) Доли девушек, связывающих трудовую мотивацию с потребностью в самореализации и с возможностью путешествий, общения с разными людьми, равны.

3) Доля тех, кто работает, потому что им интересно то, чем они занимаются, больше среди девушек, чем

Блок «ПОЛИТИКА»






Задание 13

Найдите в приведенном ниже списке черты, характеризующие политические партии по составу, и запишите цифры, под которыми они указаны.

- 1) консервативная
- 2) массовая
- 3) кадровая
- 4) коммунистическая
- 5) нелегальная
- 6) социал-демократическая

Задание 14



Установите соответствие между типами политических партий и принципами их классификации. К каждой позиции, данной в первом столбце, подберите соответствующую позицию из второго столбца.

ТИПЫ ПАРТИЙ

- А) оппозиционная
- Б) либеральная
- В) кадровая
- Г) социал-демократическая
- Д) массовая

ПРИНЦИП КЛАССИФИКАЦИИ ПАРТИЙ

- 1) по отношению к власти
- 2) по политической идеологии
- 3) по составу

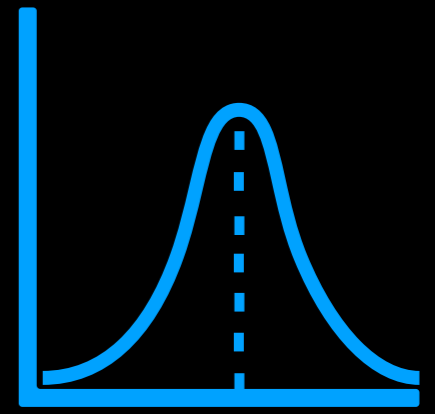
Запишите в ответ цифры, расположив их в порядке, соответствующем буквам:

А	Б	В	Г	Д

Ст. 71,72
Ст.
102,103,114



Задание 15



Задание 15 № 175


Найдите в приведенном ниже списке формы территориально-государственного устройства и обведите цифры, под которыми они указаны.

- 1) диктатура
- 2) республика
- 3) демократия
- 4) унитарное государство
- 5) монархия
- 6) федерация

Блок «ПРАВО»



Задание 16



Что из перечисленного относится к конституционным обязанностям граждан РФ? Запишите цифры, под которыми указаны конституционные обязанности.

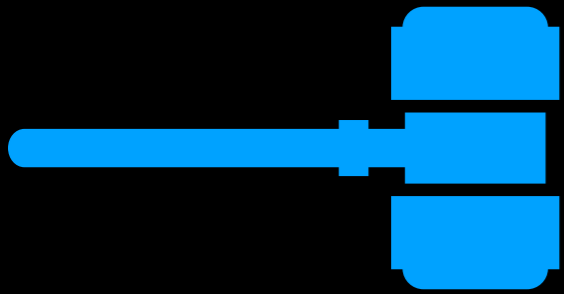
- 1) указание своей национальности
- 2) сохранение исторического и культурного наследия
- 3) участие в выборах органов власти
- 4) уплата налогов
- 5) свободное распоряжение своими способностями к труду
- 6) пользование родным языком

Задание 17



Найдите в приведенном ниже списке конституционные обязанности гражданина Российской Федерации и запишите цифры, под которыми они указаны.

- 1) работа на предприятии, в учреждениях
- 2) участие в выборах
- 3) защита Отечества
- 4) охрана памятников культуры
- 5) уплата налогов
- 6) участие в политических движениях



Задание 18

Установите соответствие между правоохранительными органами и их функциями: к каждой позиции, данной в первом столбце, подберите соответствующую позицию из второго столбца.

ФУНКЦИИ

ПРАВООХРАНИТЕЛЬНЫЕ ОРГАНЫ

- А) консультация по юридическим вопросам
- Б) представление клиентов в суде по гражданским делам
- В) вынесение решений по подсудным делам
- Г) помощь в составлении жалоб и заявлений правового характера
- Д) проверка законности и обоснованности решений, вынесенных судами различных инстанций
- Е) рассмотрение и вынесение решений по гражданским искам

- 1) адвокатура
- 2) суд

Запишите в ответ цифры, расположив их в порядке, соответствующем буквам:

А	Б	В	Г	Д	Е


Задание 19



Сотрудница туристической фирмы И. регулярно опаздывает к началу рабочего дня. Директор фирмы неоднократно предупреждал её о недопустимости подобных действий, однако И. продолжает опаздывать. Выберите в приведённом ниже списке позиции, связанные с правовой оценкой данной ситуации, и запишите цифры, под которыми они указаны.

- 1) трудовое право
- 2) гражданско-правовая ответственность
- 3) дисциплинарный проступок
- 4) административное право
- 5) увольнение
- 6) материальная ответственность

Задание 20



«Демократия — форма политической организации государства, основанная на признании народа источником _____(А), его права участвовать в решении государственных дел в сочетании с широким кругом прав и свобод. Важный признак демократии — гарантия соблюдения прав и свобод человека и _____(Б). Еще одной важной чертой демократии является возможность выражения разных политических взглядов — _____(В). Различают демократию прямую и _____(Г). Институтом прямой (непосредственной) демократии является _____(Д). В этом случае _____(Е) сам, без посредников, выносит то или иное решение».

Слова в списке даны в именительном падеже. Каждое слово (словосочетание) может быть использовано только один раз. Выберите последовательно одно слово за другим, мысленно заполняя каждый пропуск. Обратите внимание на то, что в списке слов больше, чем вам потребуется для заполнения пропусков.

Список терминов:

- | | |
|---------------------------|---------------------|
| 1) политический плюрализм | 2) представительная |
| 4) власть | 5) народ |
| 7) референдум | 8) гражданин |

Запишите в ответ цифры, расположив их в порядке, соответствующем буквам:

А	Б	В	Г	Д	Е

ФИПИ



ШКОЛЕ

2017

ФЕДЕРАЛЬНЫЙ ИНСТИТУТ ПЕДАГОГИЧЕСКИХ ИЗМЕРЕНИЙ

ЕГЭ

ЕДИНЫЙ ГОСУДАРСТВЕННЫЙ ЭКЗАМЕН

ОБЩЕСТВОЗНАНИЕ

ТИПОВЫЕ ЭКЗАМЕНАЦИОННЫЕ ВАРИАНТЫ

О. А. КОТОВА, Т. Е. ЛИСКОВА

