

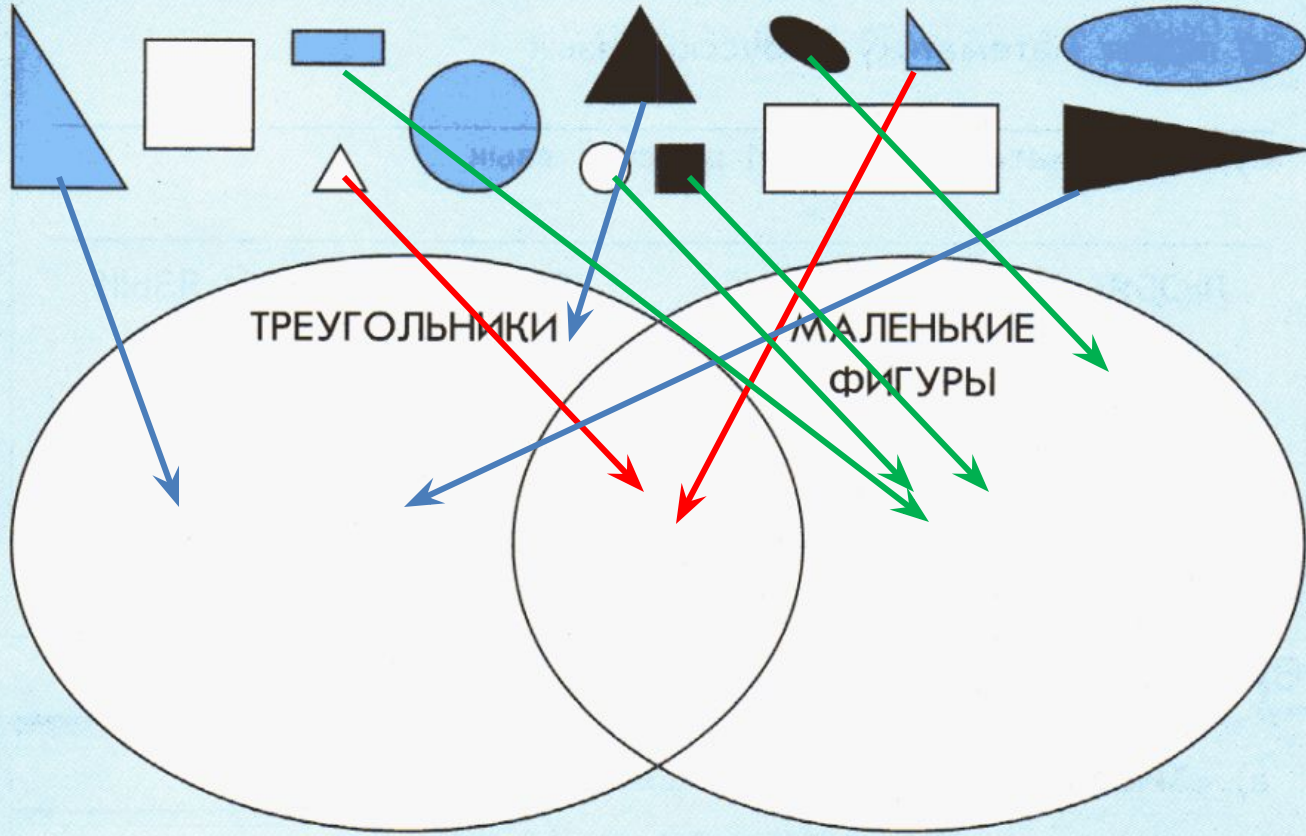
**ВЫСКАЗЫВАН
ИЯ
СО СВЯЗКАМИ
«И» «ИЛИ»**





25

Найди место для каждой фигуры.





26

Обведи множество певцов: Вера, Галя, Оля, Юра – красным овалом; множество танцоров – Таня, Саша, Зина, Миша, Серёжа – синим овалом.

Вера

Зина

Таня

Саша

Оля

Миша

Юра

Серёжа

Галя

51





27

Выпиши имена детей, которые:

а) любят математику И русский язык

Маша, Боря, Зоя

б) любят математику ИЛИ русский язык

Маша, Боря, Зоя, Федя, Лена, Рая, Петя, Катя

ЛЮБЯТ МАТЕМАТИКУ

ЛЮБЯТ РУССКИЙ ЯЗЫК





28

Назови элементы множеств:

а) «ХИЩНИКИ И ПОЛОСАТЫЕ»

тигр, кот

б) «ХИЩНИКИ ИЛИ ПОЛОСАТЫЕ»

тигр, зебра, волк, кот

в) «ХИЩНИКИ И НЕ ПОЛОСАТЫЕ»

волк

г) «НЕ ХИЩНИКИ И ПОЛОСАТЫЕ»

зебра

д) «НЕ ХИЩНИКИ И НЕ ПОЛОСАТЫЕ»


корова, заяц





29

Нарисуй по одному предмету
в каждой области.



ВОЗДУШНЫЕ
ШАРЫ

ЖЁЛТЫЕ

КРУГЛЫЕ





Назови


- Круглое, жёлтое, твёрдое, раскалённое...
- Бумажный, прямоугольный, почтовый...
- Рыжая, животное, хитрое...
- Живой, зелёный...
- Жидкое и белое...





30 Нарисуй предметы:

а) и учебный, и прямоугольный, и голубой;



б) или учебный, или прямоугольный, или голубой;





31

Высказывания, истинные для рисунка, отметь буквой И, ложные – буквой Л.



а) Каждая фигура – четырёхугольник или треугольник.

И

б) Каждая фигура – четырёхугольник и треугольник.

Л

в) Некоторые фигуры – треугольники и красные.

И

г) Каждый четырёхугольник – красный или синий.

Л

★ д) Все фигуры – с углами или без углов.

И






32

★ Используя свой жизненный опыт и знания, отметь истинные высказывания буквой И, ложные – буквой Л.

- а) Каждая птица летает или плавает.
- б) Каждая птица летает и плавает.
- в) Некоторые птицы летают или плавают.
- г) Некоторые птицы летают и плавают.
- д) 6 делится на 3 и на 2.
- е) 6 делится на 3 или на 2.
- ж) 9 делится на 2 или на 3.
- з) 9 делится на 2 и на 3.

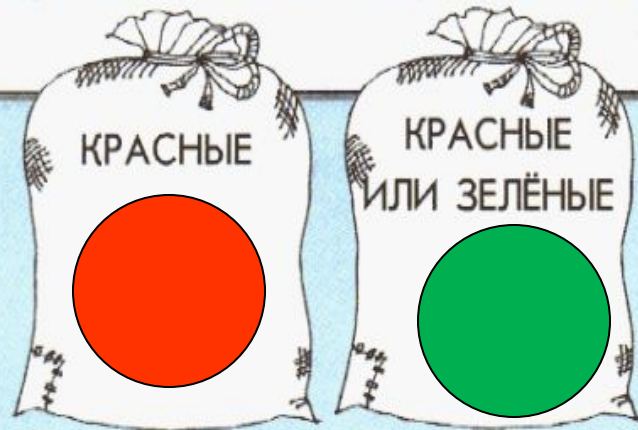
Л
Л
И
И
И
И
Л





33

В одном мешке лежат красные шарики, а в другом – зелёные. Нарисуй их в мешках, если известно, что все надписи истинные.





34

★ У Карлсона есть три вида варенья. Помоги ему найти малиновое варенье, если известно, что все наклейки ложные. Сделай правильные подписи.



малина

клубника земляника





35

★ По какой дорожке нужно пройти Красной Шапочке, чтобы не встретить Серого Волка, если известно, что один указатель истинный, а другой – ложный? Укажи путь стрелочкой.



а) Найди на рисунке место для каждого предмета:

ПЛАВАЮТ ЛЕТАЮТ

б) Назови элементы множества:

«ПЛАВАЮТ И ЛЕТАЮТ» _____

«ПЛАВАЮТ ИЛИ ЛЕТАЮТ» _____



Источник

<http://nikonowa-natalia2012.narod.ru/olderfiles/1/image-4256.jpg> - 1 слайд

<http://school25-ustlab.narod.ru/kolokoi4.2.jpg>

КОЛОКОЛЬЧИКИ

http://100-bal.ru/pars_docs/refs/40/39320/39320_html_5fcf5369.png - доска

<http://files.abovetopsecret.com/files/img/ly514799a7.jpg> - ЛИМОН

http://www.www.webareal.sk/fotky11136/fotom/gen_vyr_4132Gd-aa-011--web.jpg

- пуговица

<http://www.musicvideos.ru/newsfiles/old/19.11.03/holiday.jpg> - зелёный шар

http://www.balloonmerchant.com/files/2018841/uploaded/39270_5in_yellow_smileface.JPG жёлтый воздушный шар

<http://shariki.com.ua/upload/iblock/863/863eca20013c99c9841d67ae8a4f623e.jpeg> -

синий воздушный шар

<http://kancguru.ru/image/data/12907.jpg> -

тетрадь