

Вспомнить все)))



Можно ли Вам остановиться в указанном месте для посадки пассажира

- 1. Можно.**
- 2. Можно, если Вы управляете такси.**
- 3. Нельзя.**

?

1

2

3

4

5

Пропустить
задачу



Можно ли Вам остановиться в указанном месте для посадки пассажира?

- 1. Можно.**
- 2. Можно, если Вы управляете такси.**
- 3. Нельзя.**

1?

1

2

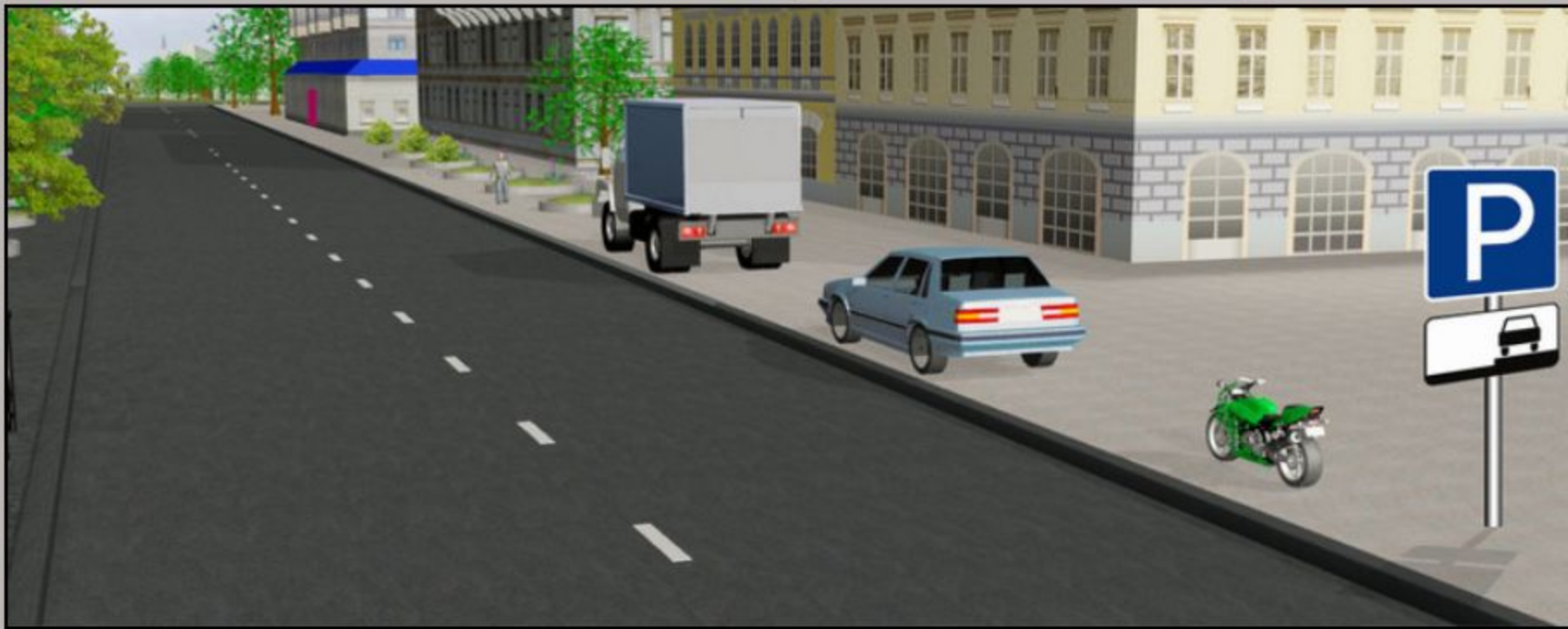
3

4

5

Пропустить
задачу

Подтвердить
ответ 1



Кто из водителей нарушил правила стоянки?

- 1. Водители мотоцикла и грузового автомобиля.**
- 2. Только водитель мотоцикла.**
- 3. Только водитель грузового автомобиля.**
- 4. Никто не нарушил.**

?

1

2

3

4

5

Пропустить
задачу



Кто из водителей нарушил правила стоянки?

- 1. Водители мотоцикла и грузового автомобиля.**
- 2. Только водитель мотоцикла.**
- 3. Только водитель грузового автомобиля.**
- 4. Никто не нарушил.**

3?

1

2

3

4

5

Пропустить
задачу

**Подтвердить
ответ 3**

Осталось

64

Верно

1

Неверно

0

10%

3



А



Б



В

Какие из указанных знаков распространяют свое действие только на период времени, когда покрытие проезжей части влажное?

- 1. Только А.**
- 2. А и Б.**
- 3. Все.**



1

2

3

4

5

Пропустить задачу

Осталось

63

Верно

2

Неверно

0

3%

Закрыть



А



Б



В

Какие из указанных знаков распространяют свое действие только на период времени, когда покрытие проезжей части влажное?

- 1. Только А.
- 2. А и Б.
- 3. Все.

1?

1

2

3

4

5

Пропустить задачу

Подтвердить ответ 1



А



Б



В



Г

Какие из указанных знаков запрещают движение водителям мопедов?

1. Только А.
2. Только Б.
3. В и Г.
4. Все.

?

1

2

3

4

5

Пропустить
задачу



А



Б



В



Г

Какие из указанных знаков запрещают движение водителям мопедов?

1. Только А.
2. Только Б.
3. В и Г.
4. Все.

4?

1

2



3

4

5

Пропустить
задачу



Подтвердить
ответ 4

**А****Б****В****Г**

Какие из указанных знаков требуют обязательной остановки?

- 1. Только А.**
- 2. Только Б.**
- 3. Б и В.**
- 4. Все.**

?**1****2****3****4****5**Пропустить
задачу

**А****Б****В****Г**

Какие из указанных знаков требуют обязательной остановки?

1. Только А.
2. Только Б.
3. Б и В.
4. Все.

2?**1****2****3****4****5**Пропустить
задачуПодтвердить
ответ 2



А



Б



В

Какие из указанных знаков разрешают выполнить поворот налево?

1. Только А.
2. А и Б.
3. Б и В.
4. Все.

?

1

2

3

4

5

Пропустить
задачу



А



Б



В

Какие из указанных знаков разрешают выполнить поворот налево?

1. Только А.
2. А и Б.
3. Б и В.
4. Все.

4?

1

2

3

4

5

Пропустить
задачу

Подтвердить
ответ 4



Нарушил ли водитель грузового автомобиля правила стоянки?

- 1. Нарушил.**
- 2. Не нарушил, если разрешенная максимальная масса автомобиля не более 3,5 т.**
- 3. Не нарушил.**

?

1

2

3

4

5

Пропустить
задачу

.



Нарушил ли водитель грузового автомобиля правила стоянки?

- 1. Нарушил.**
- 2. Не нарушил, если разрешенная максимальная масса автомобиля не более 3,5 т.**
- 3. Не нарушил.**

1?

1

2

3

4

5

Пропустить
задачу

**Подтвердить
ответ 1**



А



Б



В

**Какой из указанных знаков информирует
о начале дороги с реверсивным движением?**

1. А.
2. Б.
3. В.



1

2

3

4

5

Пропустить
задачу

Осталось

65

Верно

0

Неверно

0

0%

3



А



Б



В

Какой из указанных знаков информирует о начале дороги с реверсивным движением?

1. А.
2. Б.
3. В.

3?

1

2

3

4

5

Пропустить задачу

Подтвердить ответ 3

Осталось

65

Верно

0

Неверно

0

0%

3

**А****Б****В****Г**

Какие из указанных знаков запрещают дальнейшее движение без остановки?

1. А и Г.
2. Б и В.
3. В и Г.
4. Все.

?**1****2****3****4****5**Пропустить
задачу



А



Б



В



Г

Какие из указанных знаков запрещают дальнейшее движение без остановки?

1. А и Г.
2. Б и В.
3. В и Г.
4. Все.

2?

1

2

3

4

5

Пропустить
задачуПодтвердить
ответ 2



О чем предупреждают Вас эти знаки?

- 1. Остановка транспортных средств на обочине запрещена.**
- 2. Съезд на обочину опасен в связи с проведением на ней дорожных работ.**
- 3. В месте производства дорожных работ стоянка запрещена.**

?

1

2

3

4

5

Пропустить
задачу



О чем предупреждают Вас эти знаки?

- 1. Остановка транспортных средств на обочине запрещена.**
- 2. Съезд на обочину опасен в связи с проведением на ней дорожных работ.**
- 3. В месте производства дорожных работ стоянка запрещена.**

2?

1

2

3

4

5

Пропустить
задачу

Подтвердить
ответ 2



Можно ли водителю поставить грузовой автомобиль на стоянку в этом месте указанным способом?

- 1. Можно.**
- 2. Можно, если разрешенная максимальная масса автомобиля не более 3,5 т.**
- 3. Нельзя.**

?

1

2

3

4

5

Пропустить
задачу



Можно ли водителю поставить грузовой автомобиль на стоянку в этом месте указанным способом?

- 1. Можно.**
- 2. Можно, если разрешенная максимальная масса автомобиля не более 3,5 т.**
- 3. Нельзя.**

3?

1

2

3

4

5

Пропустить
задачу

Подтвердить
ответ 3

Осталось

62

Верно

2

Неверно

0

10%

1



А



Б



В

Какие из указанных знаков используются для обозначения кемпинга?

- 1. Только А.**
- 2. Только Б.**
- 3. Только В.**
- 4. Б и В.**



1

2

3

4

5

Пропустить
задачу



А



Б



В

Какие из указанных знаков используются для обозначения кемпинга?

1. Только А.
2. Только Б.
3. Только В.
4. Б и В.

2?

1

2

3

4

5

Пропустить
задачу

Подтвердить
ответ 2

Осталось

61

Верно

4

Неверно

0

60%

100%



Эти знаки предупреждают Вас:

- 1. О наличии через 500 м опасных поворотов.**
- 2. О том, что на расстоянии 150 - 300 м за дорожным знаком начнется участок дороги протяженностью 500 м с опасными поворотами.**
- 3. О том, что сразу за знаком начнется участок протяженностью 500 м с опасными поворотами.**

?

1

2

3

4

5

Пропустить
задачу



Эти знаки предупреждают Вас:

1. О наличии через 500 м опасных поворотов.
2. О том, что на расстоянии 150 - 300 м за дорожным знаком начнется участок дороги протяженностью 500 м с опасными поворотами.
3. О том, что сразу за знаком начнется участок протяженностью 500 м с опасными поворотами.

2?

1

2

3

4

5

Пропустить
задачу

Подтвердить
ответ 2



О чем информируют эти знаки?

- 1. Разрешенная скорость не более 40 км/ч при влажном покрытии.**
- 2. Рекомендуемая скорость 40 км/ч при влажном покрытии.**
- 3. Рекомендуемая скорость не более 40 км/ч только во время дождя.**

?

1

2

3

4

5

Пропустить
задачу



О чем информируют эти знаки?

1. Разрешенная скорость не более 40 км/ч при влажном покрытии.
2. Рекомендуемая скорость 40 км/ч при влажном покрытии.
3. Рекомендуемая скорость не более 40 км/ч только во время дождя.

2?

1

2

3

4

5

Пропустить
задачу

Подтвердить
ответ 2

Справка

50

Вопрос

7

Назад

0

100%


1




А



Б



В



Г

Какие из указанных знаков отменяют все ограничения, введенные ранее запрещающими знаками?

1. Только В.
2. А и Б.
3. В и Г.
4. Все.



1



2

3

4

5

Пропустить задачу

**А****Б****В****Г**

Какие из указанных знаков отменяют все ограничения, введенные ранее запрещающими знаками?

- 1. Только В.**
2. А и Б.
3. В и Г.
4. Все.

1?**1****2****3****4****5**Пропустить
задачу**Подтвердить
ответ 1**

**А****Б****В****Г**

Действие каких знаков из указанных распространяется только до ближайшего по ходу движения перекрестка?

- 1. А и В.**
- 2. Б и Г.**
- 3. В и Г.**

?**1****2****3****4****5**Пропустить
задачу

**А****Б****В****Г**

Действие каких знаков из указанных распространяется только до ближайшего по ходу движения перекрестка?

1. А и В.
2. Б и Г.
3. В и Г.

2?**1****2****3****4****5**Пропустить
задачу**Подтвердить
ответ 2**



Как Вы должны поступить в данной ситуации?

- 1. Снизить скорость при проезде таможни.**
- 2. Остановиться через 300 м у таможни.**
- 3. Остановиться у знака и дождаться работников таможенной службы.**

?

1

2

3

4

5

Пропустить
задачу



Как Вы должны поступить в данной ситуации?

- 1. Снизить скорость при проезде таможни.**
- 2. Остановиться через 300 м у таможни.**
- 3. Остановиться у знака и дождаться работников таможенной службы.**

2?

1

2

3

4

5

Пропустить
задачу

Подтвердить
ответ 2

**А****Б****В**

Какие из указанных знаков запрещают поворот налево?

1. Только А.
2. А и Б.
3. А и В.
4. Все.

?**1****2****3****4****5**Пропустить
задачу



А



Б



В

Какие из указанных знаков запрещают поворот налево?

- 1. Только А.
- 2. А и Б.
- 3. А и В.
- 4. Все.

3?

1

2

3

4

5

Пропустить
задачу

Подтвердить
ответ 3

**А****Б****В**

Какие из указанных знаков обязывают водителя грузового автомобиля с разрешенной максимальной массой не более 3,5 т повернуть направо?

1. Только А.
2. Только Б.
3. А и Б.
4. Б и В.

?

1**2****3****4****5**Пропустить
задачу



А



Б



В

Какие из указанных знаков обязывают водителя грузового автомобиля с разрешенной максимальной массой не более 3,5 т повернуть направо

- 1. Только А.
- 2. Только Б.
- 3. А и Б.
- 4. Б и В.

2?

1

2

3

4

5

Пропустить
задачу

Подтвердить
ответ 2

**А****Б****В**

Какие из указанных знаков обозначают участки, на которых водитель обязан уступить дорогу пешеходам, находящимся на проезжей части?

1. Только Б.
2. Б и В.
3. Все.

?

1**2****3**

4

5

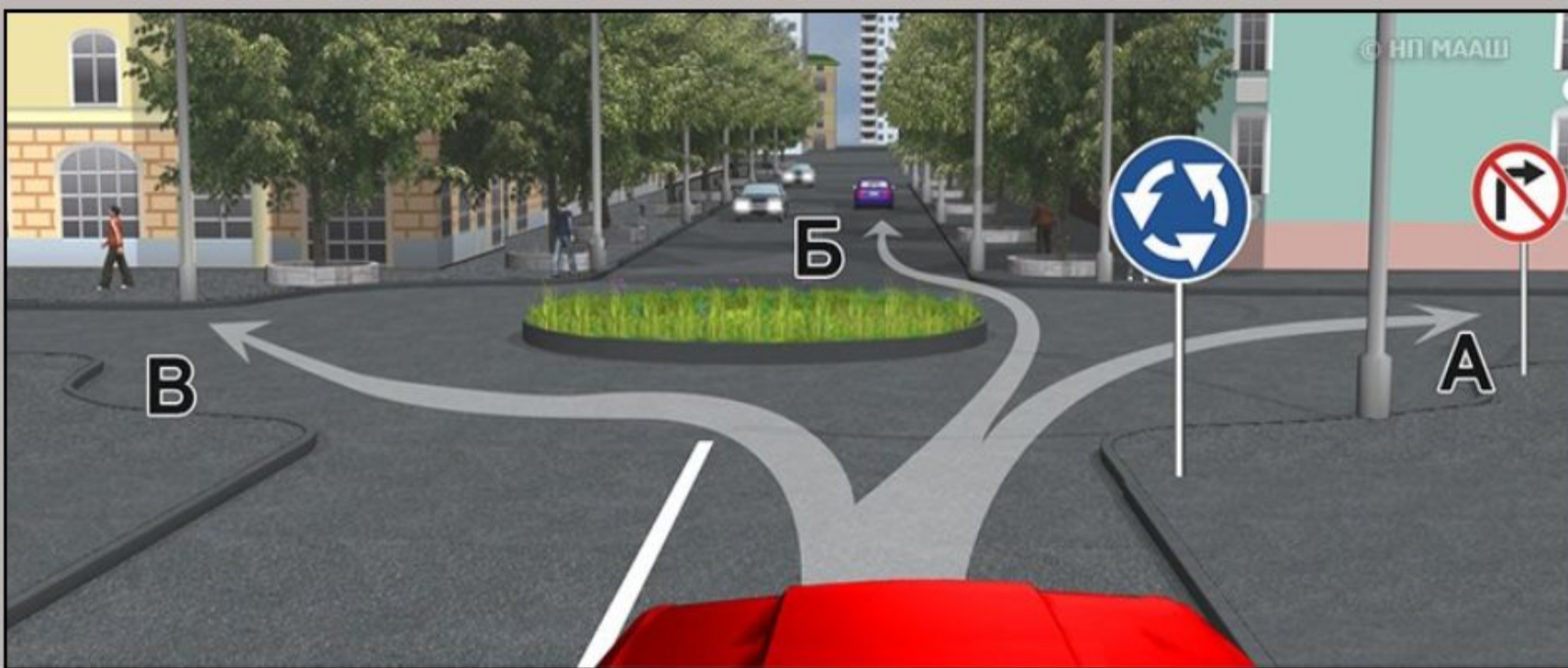
Пропустить
задачу

**А****Б****В**

Какие из указанных знаков обозначают участки, на которых водитель обязан уступать дорогу пешеходам, находящимся на проезжей части?

1. Только Б.
2. Б и В.
3. Все.

2?**1****2****3****4****5**Пропустить
задачу**Подтвердить
ответ 2**



Вам разрешено продолжить движение:

- 1. Только в направлении Б.**
- 2. В направлениях А или Б.**
- 3. В направлениях Б или В.**

?

1

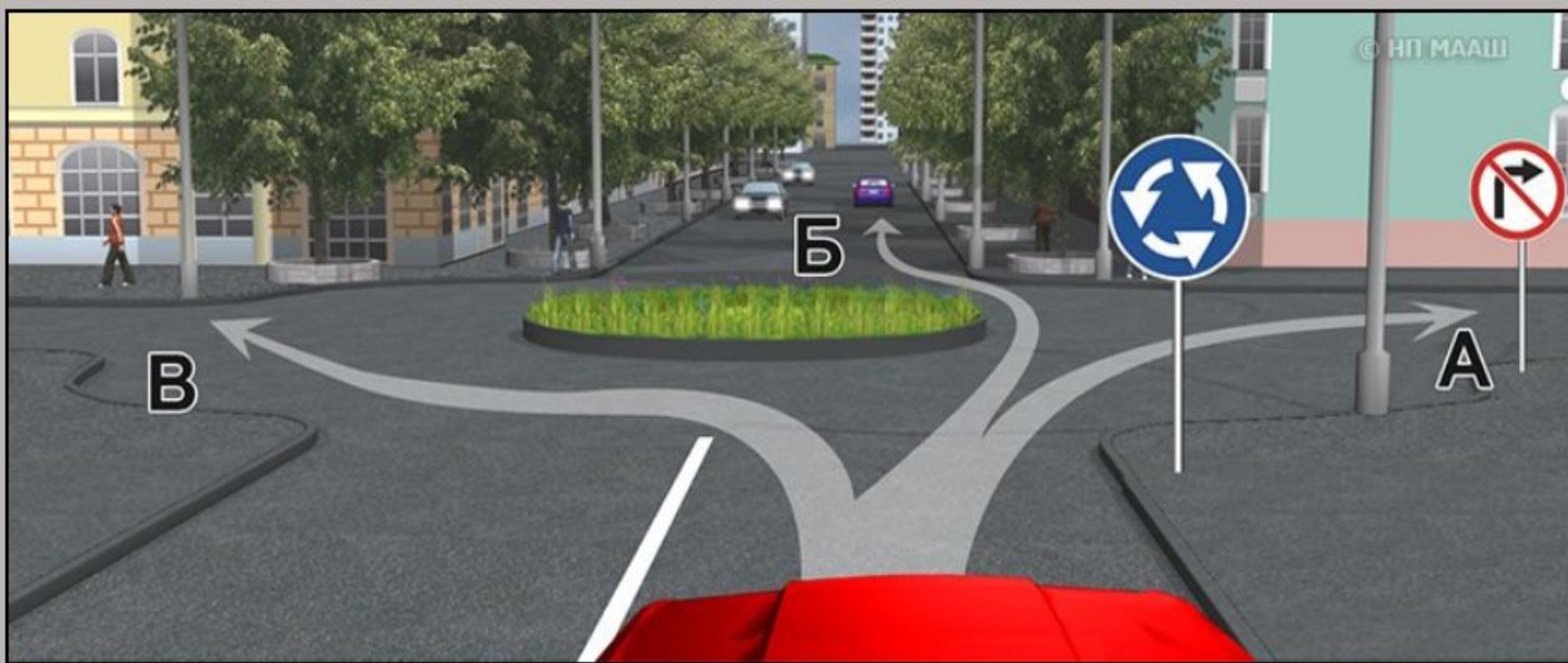
2

3

4

5

Пропустить
задачу



Вам разрешено продолжить движение:

1. Только в направлении Б.
2. В направлениях А или Б.
3. В направлениях Б или В.

1?

1

2

3

4

5

Пропустить
задачу

Подтвердить
ответ 1



50 м

А



Б

Какой из знаков указывает протяженность зоны для разворота?

- 1. Только А.**
- 2. Только Б.**
- 3. А и Б.**

?

1

2

3

4

5

Пропустить
задачу



50 м

А



Б

Какой из знаков указывает протяженность зоны для разворота?

1. Только А.
2. Только Б.
3. А и Б.

2?

1

2

3

4

5

Пропустить
задачу

Подтвердить
ответ 2



Остановка в зоне действия этого знака разрешена:

- 1. Только такси с включенным таксометром.**
- 2. Только автомобилям, на которых установлен опознавательный знак «Инвалид».**
- 3. Всем перечисленным транспортным средствам.**

?

1

2

3

4

5

Пропустить
задачу



Остановка в зоне действия этого знака разрешена:

- 1. Только такси с включенным таксометром.**
- 2. Только автомобилям, на которых установлен опознавательный знак «Инвалид».**
- 3. Всем перечисленным транспортным средствам.**

2?

1

2

3

4

5

Пропустить
задачу

Подтвердить
ответ 2

**А****Б****В**

Какие из указанных знаков используются для обозначения номера, присвоенного дороге (маршруту)?

1. Только А.
2. Только Б.
3. А и Б.
4. Все.

?**1****2****3****4****5**Пропустить
задачу

**А****Б****В**

Какие из указанных знаков используются для обозначения номера, присвоенного дороге (маршруту)?

1. Только А.
2. Только Б.
3. А и Б.
4. Все.

3?**1****2****3****4****5**Пропустить
задачу**Подтвердить
ответ 3**



А



Б



**Какой из указанных знаков устанавливается
в начале дороги с односторонним движением?**

1. Только А.
2. Только Б.
3. Б или Г.
4. Б или В.

?

1

2

3

4

5

Пропустить
задачу



А



Б



Какой из указанных знаков устанавливается
в начале дороги с односторонним движением?

1. Только А.
2. Только Б.
3. Б или Г.
4. Б или В.

2?

1

2

3

4

5

Пропустить
задачуПодтвердить
ответ 2



Вы управляете грузовым автомобилем с разрешенной максимальной массой не более 3,5 т. В каком направлении Вам разрешено дальнейшее движение?

- 1. Только направо.**
- 2. Направо, налево и в обратном направлении.**
- 3. В любом.**

?

1

2

3

4

5

Пропустить
задачу



Вы управляете грузовым автомобилем с разрешенной максимальной массой не более 3,5 т. В каком направлении Вам разрешено дальнейшее движение?

- 1. Только направо.**
- 2. Направо, налево и в обратном направлении.**
- 3. В любом.**

3?

1

2

3

4

5

Пропустить
задачу

Подтвердить
ответ 3



В каком направлении Вам можно продолжить движение на легковом автомобиле?

- 1. Только прямо.**
- 2. Прямо и направо.**
- 3. В любом.**

?

1

2

3

4

5

Пропустить
задачу



В каком направлении Вам можно продолжить движение на легковом автомобиле?

- 1. Только прямо.**
- 2. Прямо и направо.**
- 3. В любом.**

3?

1

2

3

4

5

Пропустить
задачу

**Подтвердить
ответ 3**



А



Б



В

Какие из указанных знаков информируют о том, что на перекрестке необходимо уступить дорогу транспортным средствам, приближающимся слева?

- 1. Только А.**
- 2. Только Б.**
- 3. А и Б.**
- 4. Все.**

?

1

2

3

4

5

Пропустить
задачу



А



Б



В

Какие из указанных знаков информируют о том, что на перекрестке необходимо уступить дорогу транспортным средствам, приближающимся слева?

1. Только А.
2. Только Б.
3. А и Б.
4. Все.

2?

1

2


3

4

5

Пропустить
задачу


Подтвердить
ответ 2

**А****Б****В**

Какие из указанных знаков предоставляют право преимущественного проезда нерегулируемых перекрестков?

- 1. Только А.**
- 2. А и В.**
- 3. Все.**

?**1****2****3****4****5**Пропустить
задачу

**А****Б****В**


Какие из указанных знаков предоставляют право преимущественного проезда нерегулируемых перекрестков?

1. Только А.
2. А и В.
3. Все.

2?**1****2****3****4****5**Пропустить
задачуПодтвердить
ответ 2



А



Б



В



Г

Действие каких из указанных знаков не распространяется на транспортные средства, управляемые инвалидами I и II групп, перевозящие таких инвалидов или детей-инвалидов, если на транспортных средствах установлен опознавательный знак «Инвалид»?

1. А и Б.
2. Б и Г.
3. Б, В и Г.
4. Всех.

?

1

2

3


4

5

Пропустить
задачу



А



Б



В



Г

Действие каких из указанных знаков не распространяется на транспортные средства, управляемые инвалидами I и II групп, перевозящие таких инвалидов или детей-инвалидов, если на транспортных средствах установлен опознавательный знак «Инвалид»?

1. А и Б.
2. Б и Г.
3. Б, В и Г.
4. Всех.

2?

1

2

3

4

5

Пропустить
задачу

Подтвердить
ответ 2

Осталось

40

Верно

25

Неверно

0

280%



ЛИПЕЦК**ОРЛОВО****А****Б****В**

Какие из указанных знаков информируют о том, что на данной дороге действуют требования Правил, устанавливающие порядок движения в населенных пунктах?

1. Только А.
2. А и Б.
3. Все.

?

1**2****3**

4

5

Пропустить
задачу

ЛИПЕЦК**ОРЛОВО****А****Б****В**

Какие из указанных знаков информируют о том, что на данной дороге действуют требования Правил, устанавливающие порядок движения в населенных пунктах?

1. Только А.
2. А и Б.
3. Все.

2?**1****2****3**

4

5

Пропустить
задачуПодтвердить
ответ 2

Осталось

20

Верно

26

Неверно

0

100%



**А****Б****В**

Какие из указанных знаков запрещают движение транспортных средств, скорость которых по технической характеристике или их состоянию менее 40 км/ч?

1. Только А.
2. Только В.
3. А и Б.

?

1**2****3**

4

5

Пропустить
задачу



А



Б



В

Какие из указанных знаков разрешают разворот?

- 1. Только А.**
- 2. А и В.**
- 3. Все.**



1

2

3

4

5

Пропустить
задачу

Осталось

35

Верно

30

Неверно

0

46%



Закрывает



А



Б



В

Какие из указанных знаков разрешают разворот?

1. Только А.
2. А и В.
3. Все.

3?

1

2

3

4

5

Пропустить
задачу

Подтвердить
ответ 3



А



Б



В



Г

Какие из указанных знаков разрешают движение мопедов?

- 1. Только В.**
- 2. Только Г.**
- 3. Б, В и Г.**
- 4. Все.**



1

2

3

4

5

Пропустить
задачу



А



Б



В



Г

Какие из указанных знаков разрешают движение мопедов?

- 1. Только В.**
- 2. Только Г.**
- 3. Б, В и Г.**
- 4. Все.**

1?

1

2


3

4

5

Пропустить
задачу


Подтвердить
ответ 1

**A****Б****В**

Какой из указанных знаков запрещает дальнейшее движение всех без исключения транспортных средств?

1. А.
2. Б.
3. В.

?**1****2****3****4****5**Пропустить
задачу

**А****Б****В**

Какой из указанных знаков запрещает дальнейшее движение всех без исключения транспортных средств?

1. А.
2. Б.
3. В.

2?**1****2****3****4****5**Пропустить
задачу**Подтвердить
ответ 2**



С какой максимальной скоростью Вы имеете право продолжить движение на грузовом автомобиле с разрешенной максимальной массой не более 3,5

- 1. 60 км/ч.**
- 2. 70 км/ч.**
- 3. 80 км/ч.**

?

1

2

3

4

5

Пропустить
задачу



С какой максимальной скоростью Вы имеете право продолжить движение на грузовом автомобиле с разрешенной максимальной массой не более 3,5 т?

1. 60 км/ч.
2. 70 км/ч.
3. 80 км/ч.

3?

1

2

3

4

5

Пропустить
задачу

Подтвердить
ответ 3



Разрешено ли Вам подъехать к месту своей работы, расположенному в зоне действия этих знаков?

- 1. Разрешено.**
- 2. Разрешено только в рабочие дни.**
- 3. Разрешено только в нерабочие дни.**
- 4. Запрещено.**

?

1

2

3

4

5

Пропустить
задачу



Разрешено ли Вам подъехать к месту своей работы, расположенному в зоне действия этих знаков?

- 1. Разрешено.**
- 2. Разрешено только в рабочие дни.**
- 3. Разрешено только в нерабочие дни.**
- 4. Запрещено.**

1?

1

2

3

4

5

Пропустить
задачу

Подтвердить
ответ 1



Что означают эти дорожные знаки?

- 1. Стоянка разрешена транспортным средствам оперативных служб.**
- 2. Стоянка разрешена только с включенными габаритными огнями.**
- 3. Стоянка разрешена в субботние, воскресные и праздничные дни.**

?

1

2

3

4

5

Пропустить
задачу

Осталось

20

Верно

26

Неверно

0

55%

3



Что означают эти дорожные знаки?

- 1. Стоянка разрешена транспортным средствам оперативных служб.**
- 2. Стоянка разрешена только с включенными габаритными огнями.**
- 3. Стоянка разрешена в субботние, воскресные и праздничные дни.**

3?

1

2

3

4

5

Пропустить
задачу

Подтвердить
ответ **3**

Осталось

20

Верно


26

Неверно

0

55%



**А****Б****В**

Какие из указанных табличек указывают протяженность зоны действия знаков, с которыми они применяются?

1. Только А.
2. Только Б.
3. Б и В.



?

1**2****3**

4

5

Пропустить
задачу

**А****Б****В**

Какие из указанных табличек указывают протяженность зоны действия знаков, с которыми они применяются?

1. Только А.
2. Только Б.
3. Б и В.

3?**1****2****3****4****5**Пропустить
задачуПодтвердить
ответ 3



О чем информируют Вас эти дорожные знаки?

- 1. О приближении к перекрестку, где установлен знак «Уступите дорогу».**
- 2. О приближении к перекрестку, где установлен знак «Движение без остановки запрещено».**
- 3. О приближении к таможне.**

?

1

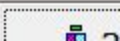
2

3

4

5

Пропустить
задачу





О чем информируют Вас эти дорожные знаки?

1. О приближении к перекрестку, где установлен знак «Уступите дорогу».
2. О приближении к перекрестку, где установлен знак «Движение без остановки запрещено».
3. О приближении к таможне.

2?

1

2

3

4

5

Пропустить
задачу

Подтвердить
ответ 2



Разрешается ли Вам остановка за знаком?

- 1. Разрешается.**
- 2. Разрешается только для посадки (высадки) пассажира.**
- 3. Запрещается.**

?

1

2

3

4

5

Пропустить
задачу



Разрешается ли Вам остановка за знаком?

1. Разрешается.
2. Разрешается только для посадки (высадки) пассажира.
3. Запрещается.

3?

1

2

3

4

5

Пропустить
задачу

Подтвердить
ответ 3

**А****Б****В**

Какие из указанных знаков информируют о приближении к началу участка дороги со встречным движением?

1. Только А.
2. А и Б.
3. Все.

?

1**2****3**

4

5

Пропустить
задачу

Осталось

25

Верно

40

Неверно

0

61%



A



Б



В

Какие из указанных знаков информируют о приближении к началу участка дороги со встречным движением?

- 1. Только А.
- 2. А и Б.
- 3. Все.

1?

1

2

3

4

5

Пропустить задачу

Подтвердить ответ 1

Осталось

25

Верно

40

Неверно

0

61%





Поставить на стоянку указанным на табличке способом можно:

- 1. Только легковые автомобили и мотоциклы.**
- 2. Все транспортные средства, кроме грузовых автомобилей с разрешенной максимальной массой более 3,5 т.**
- 3. Любые транспортные средства.**

?

1

2

3

4

5

Пропустить
задачу



Поставить на стоянку указанным на табличке способом можно:

1. Только легковые автомобили и мотоциклы.
2. Все транспортные средства, кроме грузовых автомобилей с разрешенной максимальной массой более 3,5 т.
3. Любые транспортные средства.

1?

1

2

3

4

5

Пропустить
задачу


Подтвердить
ответ 1



А



Б



В



Г

При наличии какого знака водитель должен уступить дорогу, если встречный разъезд затруднен?

- 1. Только В.**
- 2. А и В.**
- 3. Б и В.**
- 4. Б и Г.**

?

1

2

3

4

5


Пропустить
задачу



А



Б



В



Г

При наличии какого знака водитель должен уступить дорогу, если встречный разъезд затруднен?

1. Только В.
2. А и В.
3. Б и В.
4. Б и Г.

2?

1

2

3

4

5

Пропустить
задачу

Подтвердить
ответ 2



Вам необходимо двигаться со скоростью не более 40 км/ч:

- 1. Только во время дождя.**
- 2. Во время выпадения осадков (дождя, града, снега).**
- 3. Во всех случаях, когда покрытие проезжей части влажное.**

?

1

2

3

4

5

Пропустить
задачу



Вам необходимо двигаться со скоростью не более 40 км/ч:

- 1. Только во время дождя.**
- 2. Во время выпадения осадков (дождя, града, снега).**
- 3. Во всех случаях, когда покрытие проезжей части влажное.**

3?

1

2

3

4

5

Пропустить
задачу

Подтвердить
ответ 3

Осталось

22

Верно

42

Неверно

0

66%

3



Вам разрешено продолжить движение на грузовом автомобиле с разрешенной максимальной массой не более 3,5 т:

- 1. Только прямо.**
- 2. Прямо и направо.**
- 3. Во всех направлениях.**

?

1

2

3

4

5

Пропустить
задачу

Осталось

21

Верно

44

Неверно

0

67%

3



Вам разрешено продолжить движение на грузовом автомобиле с разрешенной максимальной массой не более 3,5 т:

- 1. Только прямо.**
- 2. Прямо и направо.**
- 3. Во всех направлениях.**

3?

1

2

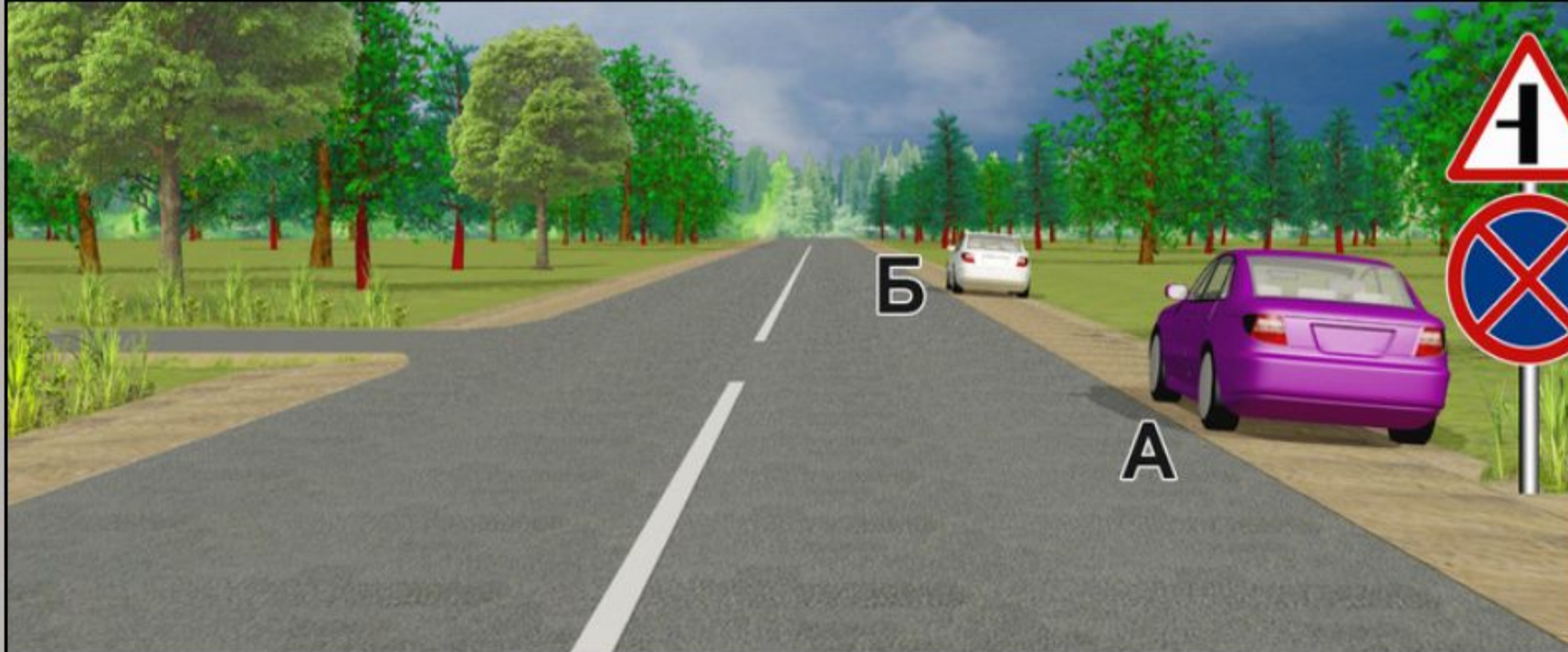
3

4

5

Пропустить
задачу

Подтвердить
ответ 3



Водители каких автомобилей нарушили правила стоянки?

- 1. Только автомобиля А.**
- 2. Только автомобиля Б.**
- 3. Автомобилей А и Б.**



1

2

3

4

5

Пропустить
задачу

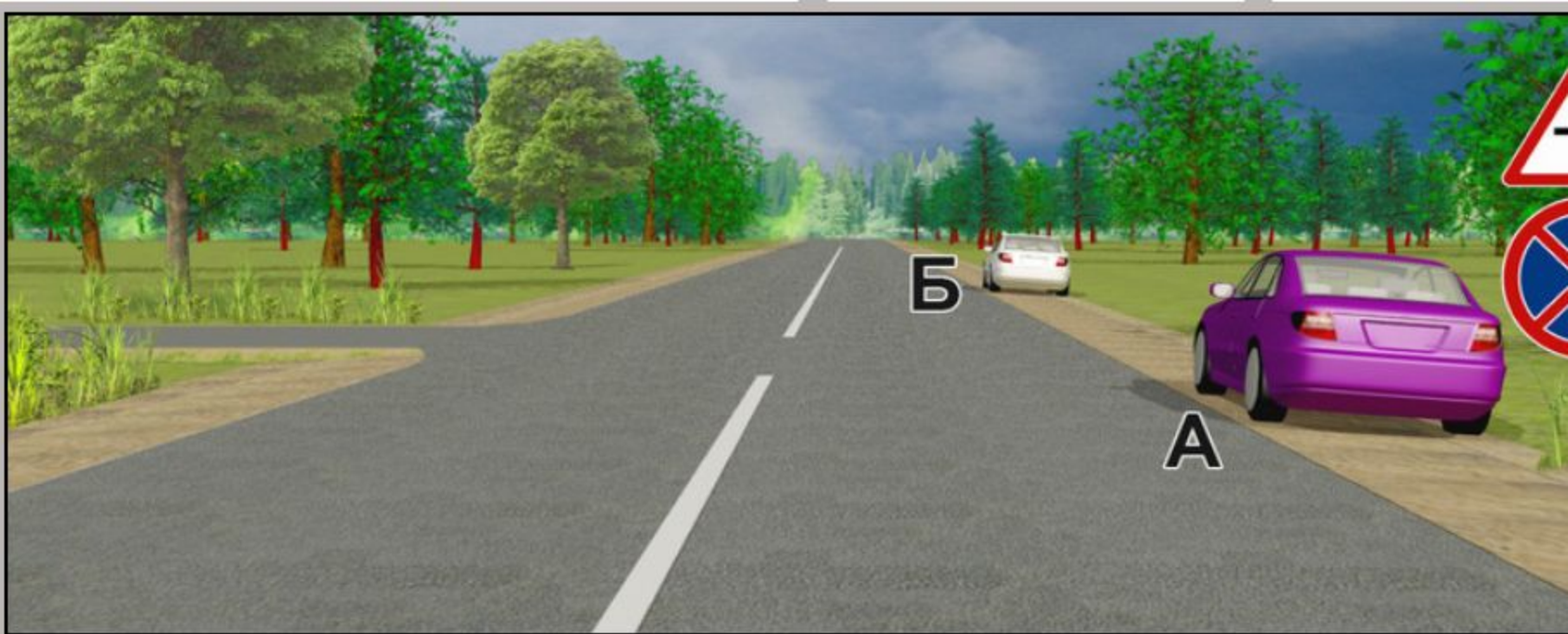
Осталось 20

Верно 45

Неверно 0

60%

Закреть



Водители каких автомобилей нарушили правила стоянки?

- 1. Только автомобиля А.**
- 2. Только автомобиля Б.**
- 3. Автомобилей А и Б.**

1?

1

2

3

4

5

Пропустить
задачу

**Подтвердить
ответ 1**



Разрешается ли Вам поставить автомобиль на стоянку в указанном месте?

- 1. Разрешается.**
- 2. Разрешается, если Вы проживаете рядом с этим местом.**
- 3. Запрещается.**

?

1

2

3

4

5

Пропустить
задачу



Разрешается ли Вам поставить автомобиль на стоянку в указанном месте?

1. Разрешается.
2. Разрешается, если Вы проживаете рядом с этим местом.
3. Запрещается.

3?

1

2

3

4

5

Пропустить
задачу

Подтвердить
ответ 3

Осталось

10

Верно

46

Неверно

0

70%

3



Что обозначают эти дорожные знаки?

- 1. Парковочное место только для автобусов.**
- 2. Парковочное место для автобусов и троллейбусов.**
- 3. Парковочное место, где возможна пересадка на маршрутное транспортное средство (автобус или троллейбус).**

?

1**2****3**

4

5

Пропустить
задачу



Что обозначают эти дорожные знаки?

1. Парковочное место только для автобусов.
2. Парковочное место для автобусов и троллейбусов.
3. Парковочное место, где возможна пересадка на маршрутное транспортное средство (автобус или троллейбус).

3?

1

2


3

4

5

Пропустить
задачу

Подтвердить
ответ 3



О чем информирует Вас данный дорожный знак с желтым фоном?

- 1. Дальнейшее движение возможно только по второй полосе.**
- 2. Дальнейшее движение возможно только по проезжей части встречного направления.**
- 3. Дальнейшее движение возможно только по другой дороге.**

?

1


2

3

4

5

Пропустить
задачу



О чем информирует Вас данный дорожный знак с желтым фоном?

1. Дальнейшее движение возможно только по второй полосе.
2. Дальнейшее движение возможно только по проезжей части встречного направления.
3. Дальнейшее движение возможно только по другой дороге.

2?

1

2

3

4

5

Пропустить
задачу

Подтвердить
ответ 2



На грузовом автомобиле с разрешенной максимальной массой не более 3,5 т можно двигаться со скоростью:

- 1. Не более 50 км/ч.**
- 2. Не более 70 км/ч.**
- 3. Не более 90 км/ч.**

?

1

2

3

4

5

Пропустить
задачу



На грузовом автомобиле с разрешенной максимальной массой не более 3,5 т можно двигаться со скоростью:

1. Не более 50 км/ч.
2. Не более 70 км/ч.
3. Не более 90 км/ч.

3?

1

2

3

4

5

Пропустить
задачу

Подтвердить
ответ 3

**А****Б****В**

Какие из указанных знаков используются для обозначения границ искусственной неровности?

- 1. Только А.**
- 2. Только Б.**
- 3. Б и В.**

**1****2****3****4****5**

Пропустить
задачу



А



Б



В

Какие из указанных знаков используются для обозначения границ искусственной неровности?

- 1. Только А.**
- 2. Только Б.**
- 3. Б и В.**

1?

1

2

3

4

5

Пропустить задачу

Подтвердить ответ 1