

# Урок 23 (часть 3)

23 апреля

1. Продолжи числовые закономерности.

1 0 9 1 0      1 0 8 1 0

2. Запиши ответы.

$1 + 9 - 8$

$9 - 2 + 3$

$10 - 3 - 5 + 7$

$10 - 4 + 3$

$8 - 3 + 2$

$3 + 7 - 9 - 1$

$5 + 4 - 7$



$6 + 2 - 4$

$5 + 5 - 8 + 3$

# Выполни задания

устно.


Найди  $x$




Как с помощью гирь  $2$ ,  $2$  и  $5$  отвесить 7 кг, 9 кг, 1 кг, 3 кг?

Найди общий признак фигур по строкам и столбцам таблиц:

а)



б)



У Павлика и Даши было поровну конфет. Павлик отдал Даше 2 конфеты. На сколько конфет у Даши стало больше, чем у Павлика?


П.



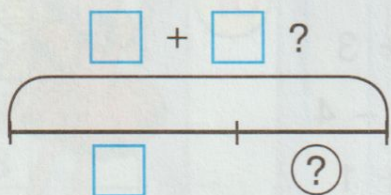
Д.



- 1 На день рождения мама подарила Дениске 4 компьютерные игры, а бабушка – 3. Две игры он отдал сестре. Сколько игр у него осталось?



**Составные задачи на нахождение части  
(целое не известно)**


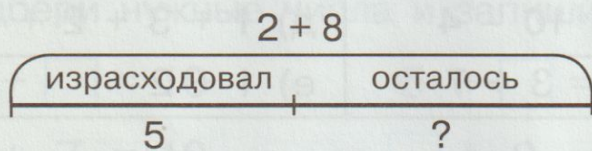


**Алгоритм решения**


1. Нахожу целое.
2. Нахожу неизвестную часть.

Выполни задание в тетради. Схема, решение, ответ.


- 2 У Вани было 2 тетради в клетку и 8 в линейку. Пять тетрадей он израсходовал. Сколько тетрадей у него осталось?



- 3 Во дворе гуляли 4 мальчика и 6 девочек. Трое детей ушли домой. Сколько детей осталось гулять во дворе?



- 4 Медведь поймал сначала 4 рыбы, а потом ещё 5 рыб. Ему попались лишь 2 большие рыбы, а остальные – маленькие. Сколько маленьких рыб поймал медведь?



Выполни задание в тетради  
на странице 30-31

Задания в  
красной рамке  
выполнить в  
рабочей тетради  
и фото прислать  
мне на WhatsApp.

