



Сложение и вычитание 4.



Назовите числа:
от 5 до 10,
от 3 до 7.






Какое число
идет за числом:

3,

7,

9.



3

0

1


2

1

4

3

2



6

3

4

5

7

2

5

4

3

1



1

9

2

4

3

5

0


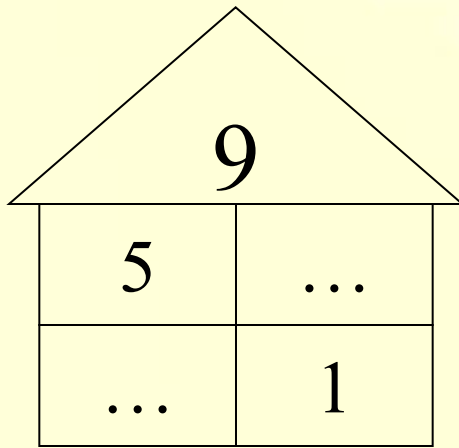
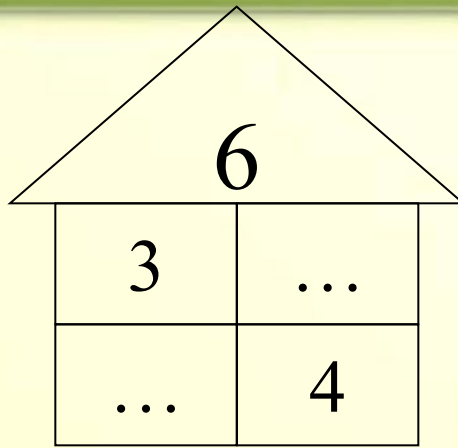
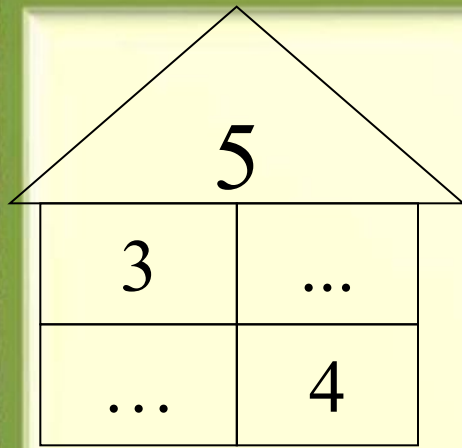
1

8

6

7

5



$>$, $<$ ИЛИ $=$

0 ... 1

4 ... 5

8 ... 7



Вспомни, что 4 — это 2 и □, 4 — это 1 и □.
Объясни по рисунку, как можно к числу прибавить по частям число 4.



$$4 = 2 + 2$$

$$4 = 3 + 1$$



$$\begin{array}{r} 6 + 4 \\ \hline 6 + 2 + 2 \end{array}$$

$$\begin{array}{r} 6 + 4 \\ \hline 6 + 3 + 1 \end{array}$$


$$\begin{array}{r} 6 + 4 \\ \hline 6 + 1 + 3 \end{array}$$

$$\begin{array}{r} 10 - 4 \\ \hline 10 - 2 - 2 \end{array}$$

$$\begin{array}{r} 10 - 4 \\ \hline 10 - 3 - 1 \end{array}$$

$$\begin{array}{r} 10 - 4 \\ \hline 10 - 1 - 3 \end{array}$$

1.



$$\begin{array}{r} 5 + 4 \\ \hline 5 + 2 + \square \end{array}$$

$$\begin{array}{r} 8 - 4 \\ \hline 8 - 2 - \square \end{array}$$

$$\begin{array}{r} 4 + 4 \\ \hline 4 + 2 + \square \end{array}$$

2. Мама положила в салат 3 яйца, а в тесто на 1 яйцо меньше. Сколько яиц мама положила в тесто?

Таблица сложения и вычитания числа 4

$1 + 4 = 5$

$2 + 4 = 6$

$3 + 4 = 7$

$4 + 4 = 8$

$5 + 4 = 9$

$6 + 4 = 10$

$5 - 4 = 1$

$6 - 4 = 2$

$7 - 4 = 3$

$8 - 4 = 4$

$9 - 4 = 5$

$10 - 4 = 6$

Назад