



Сьогодні
27.09.2022

Урок
№13

Всім.pptx
Нова українська школа

Букви латинського алфавіту





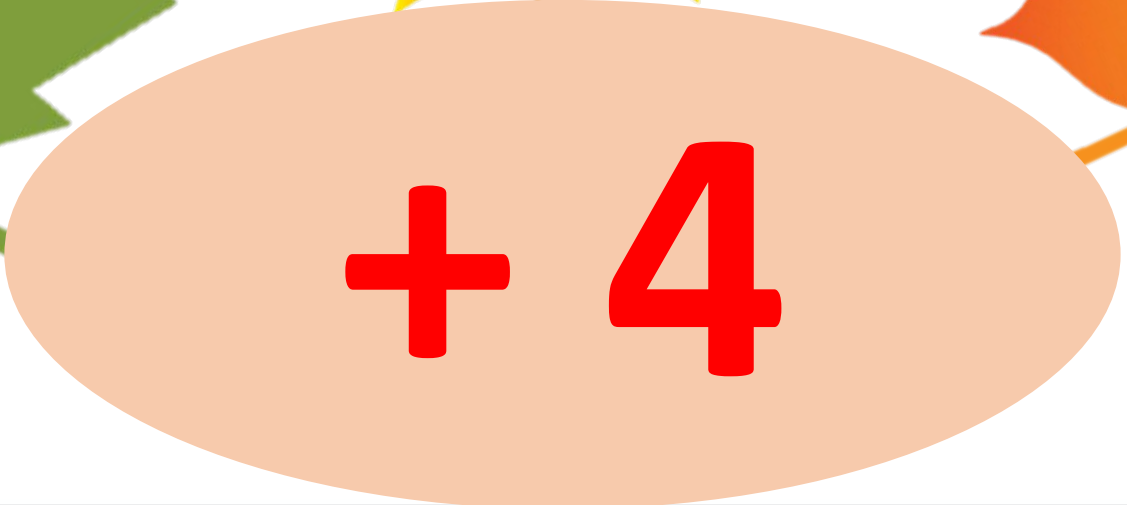
Пролунав дзвінок -
Починаємо урок.
Працюватимем
старанно,
Щоб почути у кінці,
Що у нашій дружній
класі

Сьогодні
27.09.2022

Обчисли



$+ 4$

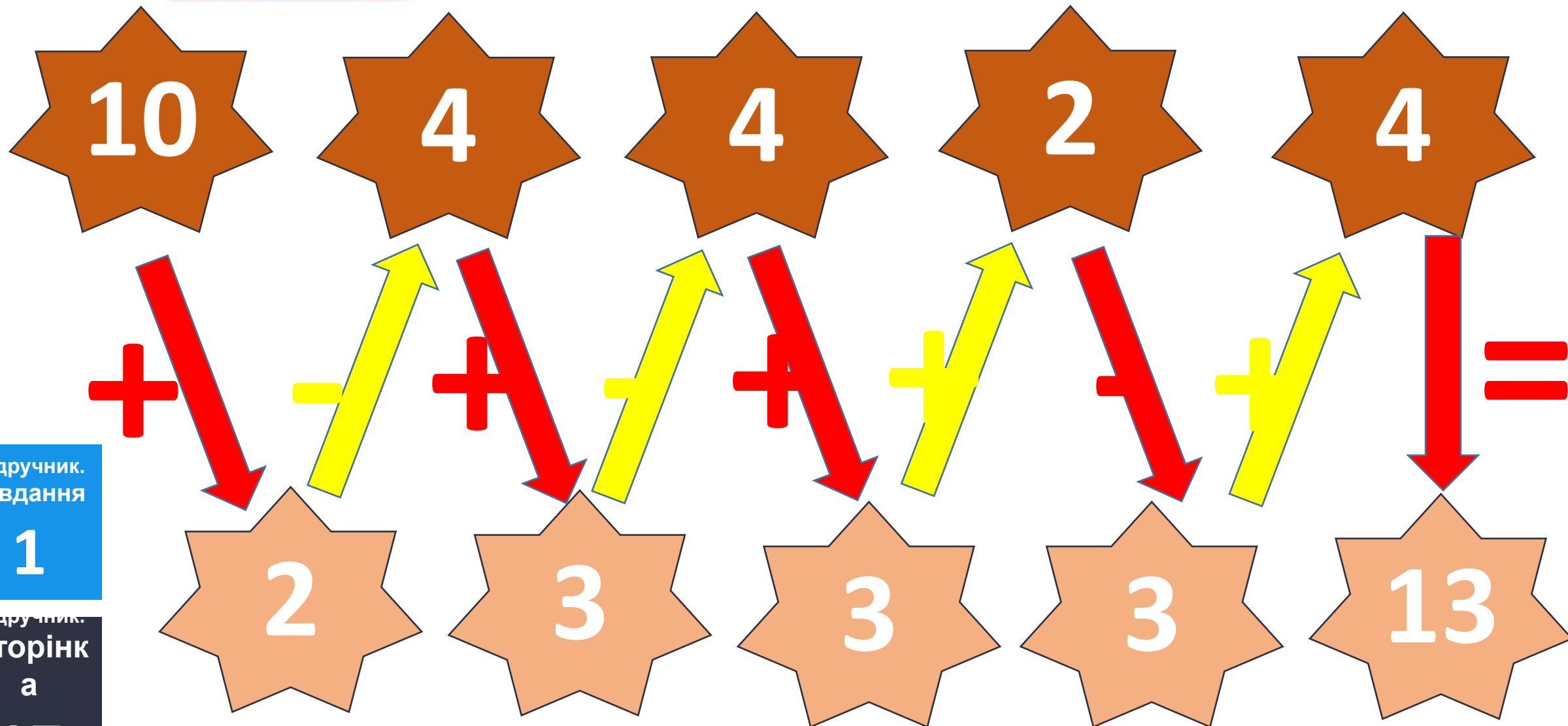












Вересня
Класна робота

Запиши чистіт
другого
десятка



Класна робота
вересня



1 1 1 2 1 3 1 4 1 5 1 6 1 7 1 8
1 9 2 0

Сьогодні
27.09.2022

**Робота із
підручником
«Математика»
Г.Лищенко,
с. 17 - 18**





**У математиці числа,
величини, геометричні
фігури позначають
буквами латинського
алфавіту**


СЬОГОДН
27.09.2022

Розглянь букви латинського алфавіту



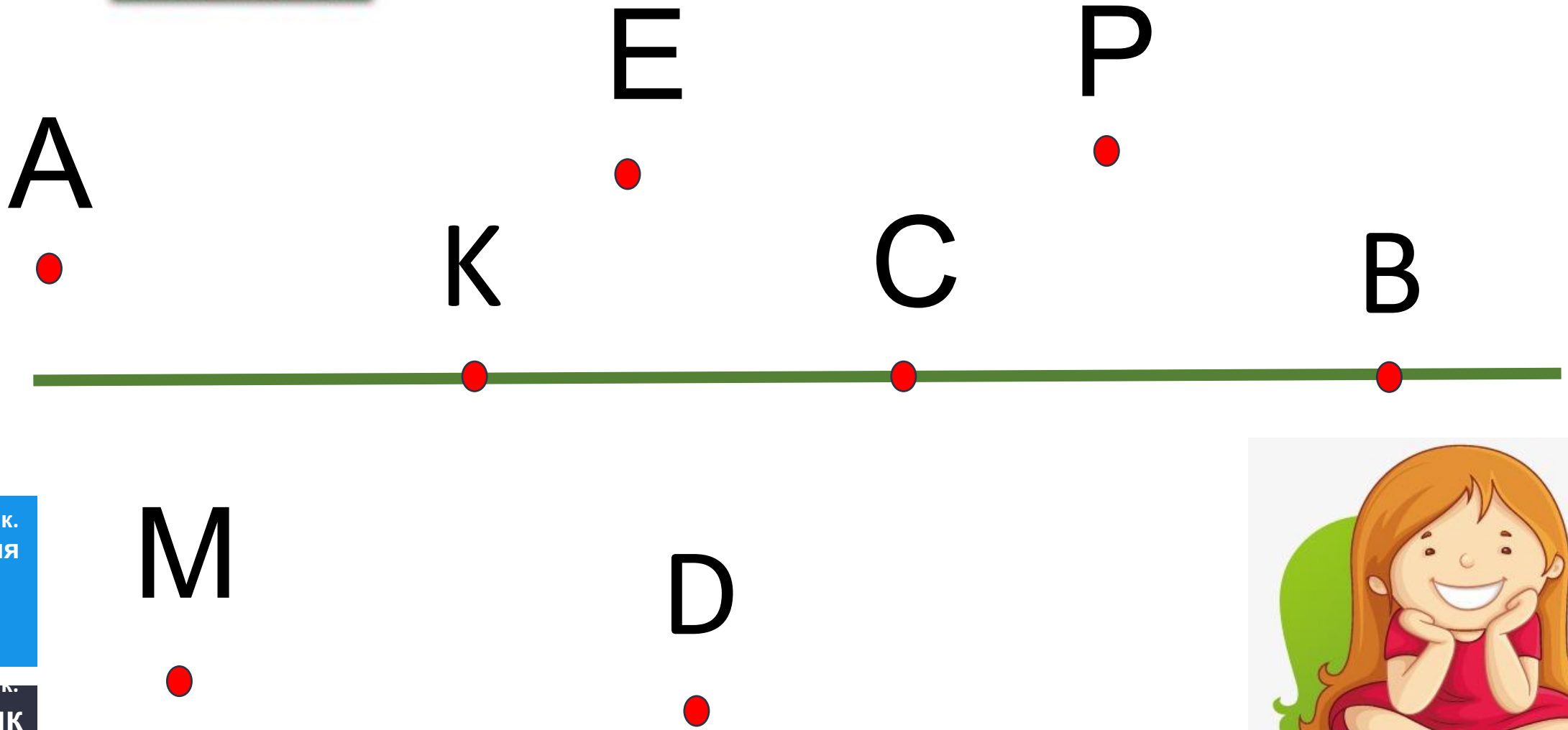
Друко - вані букви	Назва букви	Руко - писні букви
A a	а	<i>Aa</i>
B b	бе	<i>Bb</i>
C c	це	<i>Cc</i>
D d	де	<i>Dd</i>
E e	е	<i>Ee</i>
F f	еф	<i>Ff</i>
I i	і	<i>Ii</i>
K k	ка	<i>Kk</i>
L l	ель	<i>Ll</i>

Друко - вані букви	Назва букви	Руко - писні букви
M m	ем	<i>Mm</i>
N n	ен	<i>Nn</i>
O o	о	<i>Oo</i>
P p	пе	<i>Pp</i>
S s	ес	<i>Ss</i>
T t	те	<i>Tt</i>
X x	ікс	<i>Xx</i>
Y y	ігрек	<i>Yy</i>
Z z	зет	<i>Zz</i>



Точки позначають
ВЕЛИКИМИ
БУКВАМИ
ЛАТИНСЬКОГО
АЛФАВІТУ

Назви точки, які лежать: на прямій, нижче від прямої, вище від прямої



$$12 - 3 =$$

9

$$7 + 4 - 3 =$$

8

$$39 - 30 + 4 =$$

13

$$8 + 4 - 12 =$$

0




Вирази 4

$$12 - 3 = 9$$

$$39 - 30 + 4 = 13$$

$$7 + 4 - 3 = 8$$

$$8 + 4 - 12 = 0$$






Задача

1


У садку посадили 12
слив і яблунь. 3 них
слив було 3 дерева.
Скільки посадили
яблунь?



Задача

2


У садку було 12
слив. 3 старі сливи
висохли. Скільки
слив залишилося в
садку?



Задача

3


У садку посадили 12
яблунь і 3 сливи. На
скільки менше слив
посадили, ніж яблунь?



Задача

4

У садку посадили 12
яблунь, а слив – на 3
дерева менше.
Скільки слив
посадили?



У футбол грало 12 дітей, а в баскетбол – на 4 дитини менше. Скільки дітей грало у

баскетбол?
У баранця грало 12 хлопчиків і 4 дівчинки. **На скільки більше** грало хлопчиків ніж дівчаток?



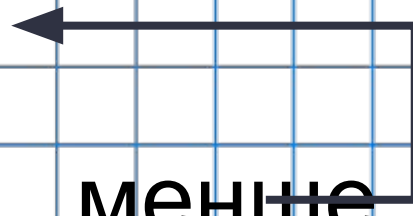
У футбол грало
12 дітей, а в
баскетбол – **на 4**
дитини **менше**.
Скільки дітей
грало у



Задача 6

У футбол - 12 д.

У баскетбол - ? на **менше**



Розв'язання

$$1) 12 - 4 = 8 \text{ (д.)}$$

Відповідь: 8 дітей грало у баскетбол.

Сьогодні
27.09.2022

Зміни запитання до задачі. Скільки всього дітей грало у футбол і баскетбол? Склади вираз. Обчисли за лінійкою



У футбол грало
12 дітей, а в
баскетбол – **на 4**
дитини **менше**.
Скільки дітей
грало у




Сьогодні
27.09.2022

Зміни запитання до задачі. Скільки всього дітей грало у футбол і баскетбол? Склади вираз

$$(12 - 4) + 12$$



$$(12 - 4) + 12 = 20$$





У баранця грало
12 хлопчиків і **4**
дівчинки. **На**
скільки **більше**
грало хлопчиків
ніж дівчаток?

Задача 6

Хлопчиків 12
Дівчаток - 4 на ?

Розв'язання

$$1) 12 - 4 = 8 \text{ (д.)}$$

Відповідь: на 8 більше грало хлопчиків, ніж дівчаток.

Сьогодні
27.09.2022

Домашні тренувальні вправи.



**Опрацювати
завдання 7,
задачу 8
на сторінці 18**

СЬОГОДН
27.09.2022

Рефлексія. Оберіть відповідну цеглинку лего.

A green LEGO brick with eight studs on top. The text is written in white cursive font on the front face.

*На уроці мені
дуже сподобалось.*

A yellow LEGO brick with eight studs on top. The text is written in white cursive font on the front face.

*На уроці мені
сподобалось.*

A red LEGO brick with eight studs on top. The text is written in white cursive font on the front face.

*На уроці мені
не сподобалось.*

Сьогодні
27.09.2022

Рефлексія. Створимо пірамідку нашого настрою.

