



Окружающий мир 3
класс

*Тест (выполнить на
листочке)*
ДОРОЖНЫЕ ЗНАКИ



A1

Какой знак относится к
предупреждающим?




1

2


3

4



A2

Какой знак относится к запрещающим?



1

2

3

4

А3

Какой знак относится к
предписывающим?



1

2

3

4



A4

Какой знак относится к информационно-указательным?




1

2

3

4



B1

**Синие круги с белыми рисунками – это
знаки:**

1

предписывающие

2


предупреждающие


3

сервиса

4

запрещающие





B2

**Какую работу выполняют дорожные
знаки?**

1

помогают пешеходам

2

помогают водителям

3

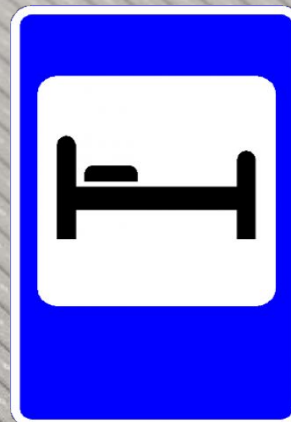

**обеспечивают безопасность
движения**

4

помогают дорожным службам

C1

Какие знаки относятся к знакам сервиса?



1

2

3

4



Ключ к тесту:

A1	A2	A3	A4	B1	B2	C1
1	3	2	1	1	3	1,2,4
16.	16.	16.	16.	26.	26.	36.

