


**Лічба в межах 20. Складання і  
розв'язування задач на  
знаходження суми й остачі.  
Побудова відрізків заданої  
довжини.**

Підготувала  
Вчитель початкових класів  
КЗ "Василівська ЗОШ  
I-III ступенів №3"  
Бірюк Тетяна Юріївна




# МАРШРУТНИЙ ЛИСТ

"Цікавинки"



"Відпочивальна"



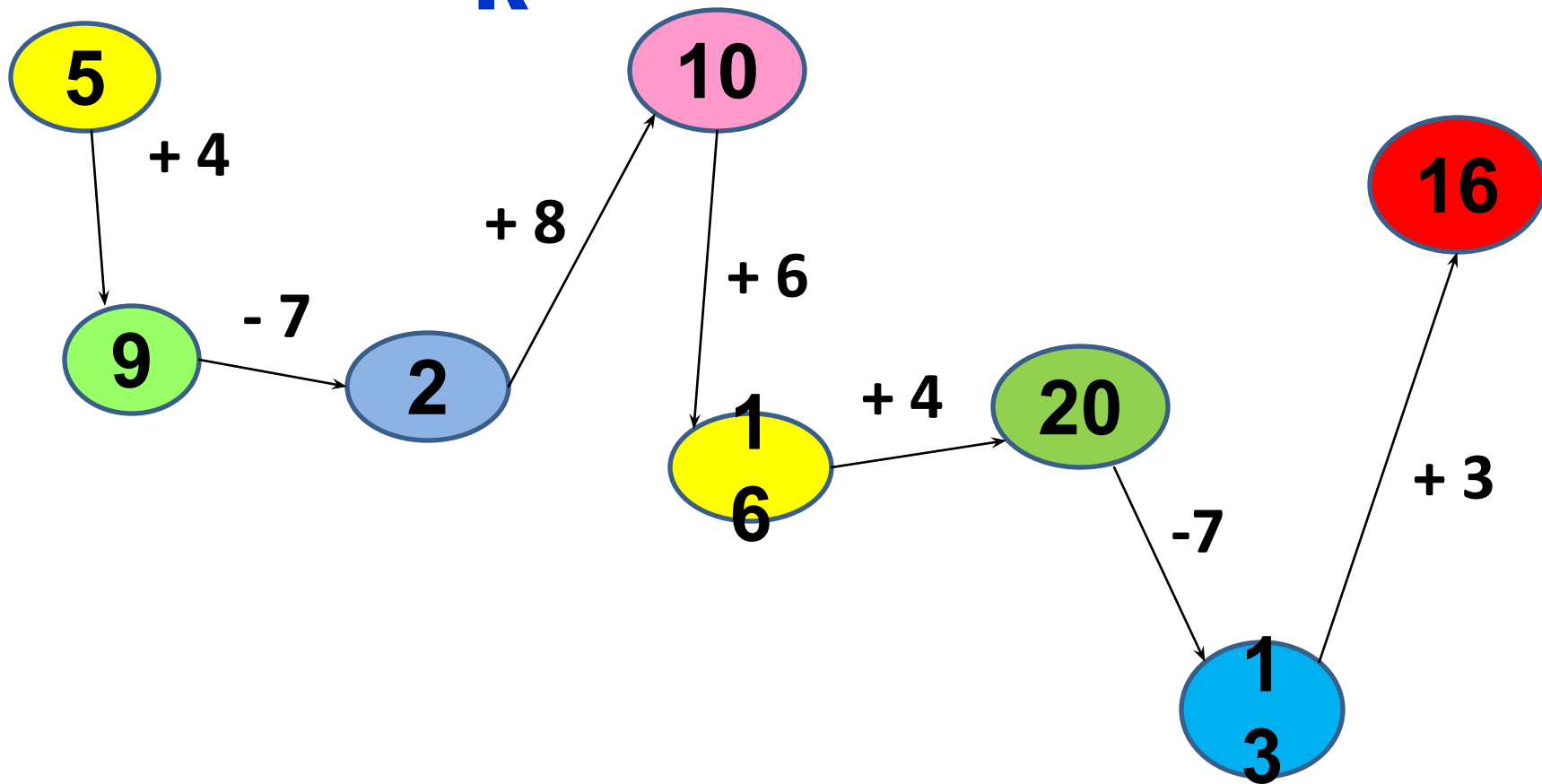
"САМОСТІЙНА"

# "Цікавинки"

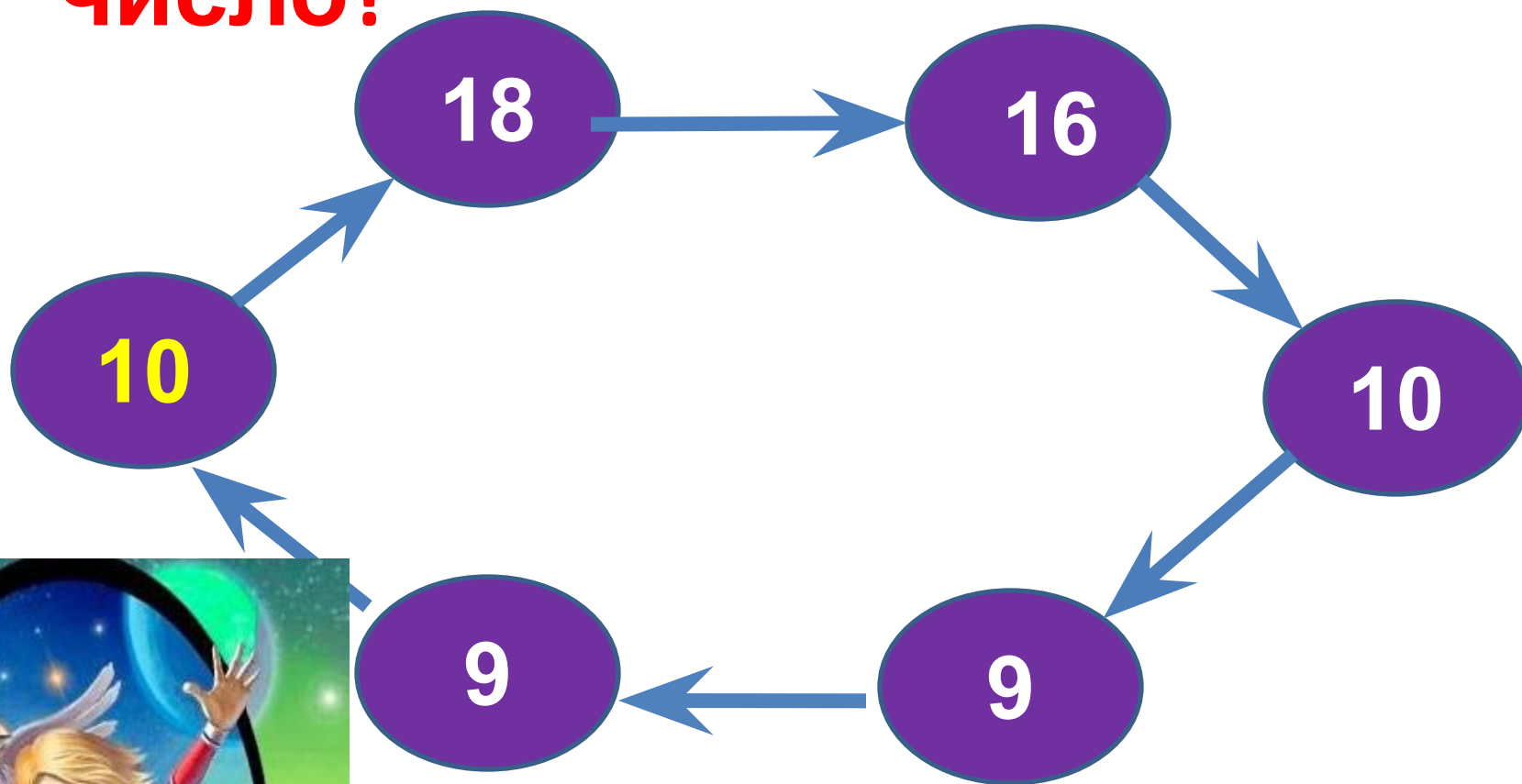


# Ланцюжо

к



# Як отримали наступне число?



Барбос гавкає голосніше, чим Шарик, а Шарик – голосніше чим Бобік.

Хто гавкає тихіше за всіх?



Барбо  
с



Боби  
к



Шари  
к

**"САМОСТІЙНА"**



**"Відпочивальна"**



У ракеті 9 чоловіків і 3 жінки. На скільки жінок менше, чим чоловіків?



$$9 - 3 = 6 \text{ (Ж.)}$$

Відповідь: на 6 жінок

**Перекладіть одну спічку так,  
Щоб корова дивилася назад.**

