


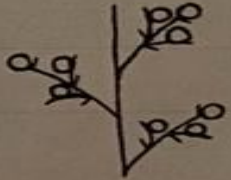




# **Обобщающий урок «Органы растений»**

**Цветок.**

На основании какого признака соцветия делят на простые и сложные?

Заполните таблицу, в которой даны схематичные изображения соцветий: кисть, зонтик, корзинка, сложный зонтик, сложный колос и метёлка.

| Простые соцветия  |                                    | Сложные соцветия  |                                    |
|---|------------------------------------|---|------------------------------------|
| Рисунок   | Название соцветия, пример растения | Рисунок   | Название соцветия, пример растения |
|    | <hr/> <hr/> <hr/>                  |    | <hr/> <hr/> <hr/>                  |
|   | <hr/> <hr/> <hr/>                  |   | <hr/> <hr/> <hr/>                  |
|  | <hr/> <hr/> <hr/>                  |  | <hr/> <hr/> <hr/>                  |

**Плод.**

Рассмотрите изображённые на рисунке плоды растений. Укажите рядом с названием растения название его плода (выберите из списка). Укажите на рисунке цифрами, какому растению принадлежит плод.

**Названия плодов:** семянка, боб, коробочка, жёлудь, стручок, двукрылатка, крылатый орех, зерновка.

1. Горох — \_\_\_\_\_

2. Мак (или белена) — \_\_\_\_\_

3. Берёза — \_\_\_\_\_

4. Капуста — \_\_\_\_\_

5. Дуб — \_\_\_\_\_

6. Клён — \_\_\_\_\_

7. Кукуруза (или пшеница) — \_\_\_\_\_

8. Подсолнечник (или череда) — \_\_\_\_\_

