

Атажұрт

*интеллектуалдық
ойыны*

*Мақсаты: географиядан алған
білімдерін қорытындылау.
Матералды меңгеру дәрежесін,
өз өлкесін қаншалықты
білетіндігін тексеру,
бауырмашыллыққа, өз елін
тәрбиелеу.*

***Туған жерім -
тұғырым,
Өскен елім - өзегім***

Ойынның бағдарламасы:

I кезең: Өткел

II кезең: Белес

III кезең: Асу

IV кезең: Жерұйық

I кезең - «Өткел»

Қазақ жері туралы ерте кездегі географиялық мағлұматтарды берген оқымыстылардың атын атау.
(1 минут - 5 балл)

1. Ол ежелгі дүние елдерін сызып, бейнелеп, ендіктер мен бойлықтар бойымен көрсетуде күннің ұзақтығын анықтауда көп жаңалықтар ашты.
2. Ол Каспий теңізінің алып жатқан орнын, оның басқа сулармен жалғаспайтын тұйық алап екенін, солтүстіктен оңтүстікке созыла біткен жалпы пішінін көрсеткен. Бұл кім туралы айтылған?

I - кезең

2-сұрақ.

Ол Каспий теңізінің алып жатқан орнын, солтүстіктен оңтүстікке созыла біткен жалпы пішінін көрсеткен

3-сұрақ.

Ол өз заманында ғылым мен барлық саласында зор ғылыми мирас қалдырған, дүние жүзіне белгілі ғұлама.

- ◎ 4-сұрақ. Ол қазақ жеріндегі көптеген географиялық атауларды дүние жүзінің картасына түсірді. Оның жасаған картасы ғалымдар «ХІ ғасырда Орталық және Орта Азияда жасалған түріктің географиялық ескерткіші» деп атады.

- 5-сұрақ.
- Ол аса көрнекі ғалым . Өмір жолын Атбасар түсті металлдар тресінде инженер-геолог болып бастады. Қарсақбай Темір, Жезді кен орындарын зерттеді.

6-сұрақ.


Ол жасынан медреседе сауатын ашып 1847 жылы Омбы қаласындағы кадет корпусында оқыды. 1955-59 жылдары Орта Азияны зерттеуге құрылған әскери экспедициясы құрамына алынып, қазақ жерін , Ыстық көлмаңын, Құлжа мен Қашқарияны зерттеуге қатысты.

II-кезең «Белес»

3-кезең

«Бекет»





4 кезең. Асу

8 а сынып

9 а сынып

| | | | | | | |
|-------|-------|-------|----------------|-------|--------|-------|
| 1. БС | 2. ҚС | 3. ЖБ | Атажұрт | 1. БС | 2. ЭГЖ | 3. ҚХ |
| 4. ҚҚ | 5. ҚТ | 6. ТЗ | | 4. ҚҚ | 5. АӨК | 6. ҚӨ |

8а сынып:

- Бұл Жоңғар Алатауы жоталарынан басталатын Балқаш көлі алабындағы екінші ірі өзен. Оның салалары терең, аңғарлары тар, ағысы қатты. Қай өзен туралы айтылып отыр?


- Қытайдағы Ебінұр көлінің ойысы мен Қазақстандағы Алакөлдің қазаншұңқырын қосып жатқан жерді қалай атайды? (Жоңғар қақпасы)

- Бір қызығы, бұл желді жергілікті тұрғындар шайтан желі деп айтайды. Бұлай деп аталуы желдің күші салт атты адамды ат үстінен ұшырып түсетіндей өте қатты болуынан. Бұл қай жел туралы айтылып отыр? Ол қай жерлерде соғады? (Сайқан)

5. Қазақстанның қай
топырағы жалпы көлемі
республика аумағының 9,5
пайызын қамтиды. Бұл
қандай топырақ?

6. Бұл табиғат
зонасының жер
бедері тегіс болып
келеді, бұл қай зона?

9а сынып



1. Қазақстанның
көршілерін ата?

2.Қазақстанның тілдік әулетін ата?

3. Біздің облысымыздың
аумағынан қандай
теміржолы өтеді?


4.Қазақстанның жер аумағы
қанша гектар, соның
ішіндегі ең көп жері?
(272 млн.га, жайылымдар)

5. Қазақстанда ауыл
шаруашылық
машиналарын
шығаратын ірі
орталықтар?

6- кезең

Жерұйық

























Қазақстан-2050



НАЗАРЛАРЫҢЫЗҒА РАХМЕТ!
СПАСИБО ЗА ВНИМАНИЕ!
THANK YOU FOR YOUR ATTENTION!