

**Меня зовут Оля.  
У моего брата только одна  
сестра.  
Как зовут сестру моего  
брата?**

**Ол**



**У клушки 5 цыплят –  
петушков.**

**У каждого петушка по одной  
сестренке. Сколько цыплят  
у клушки?**

**6**



**В одном горшке 6 маленьких кактусов. Сколько нужно купить еще горшочков, чтобы в каждом было по 2 кактуса?**



**Еще**

**2**

**Катя и Оля были в цирке.  
Представление продолжалось  
2 часа. Сколько часов смотрела  
представление каждая девочка?**

**2  
часа**



**У Пети было 5 марок на тему  
«Космос».**

**Он обменял 3 марки на такое  
же количество марок с  
изображением животных.**

**Сколько теперь стало марок у  
Пети?**

**5**

**марок.**



**На столе стояло 7 свечей. Коля потушил одну свечу. Сколько свечей на столе?**

**7**



**Катя и Света вырезали по 10  
листьев и закончили работу  
одновременно. Катя начала работу  
раньше. Кто из девочек работал  
медленнее?**

**Кат  
я**



**Во дворе играли 5 мальчиков и 4  
девочки. Для игры надо было  
встать парами. Сколько  
мальчиков включилось в игру**

4





**Дети встали друг за другом.**

**Оля заметила, что  
впереди нее стоит  
4 человека, а позади – 3.  
Сколько всего детей?**



8

Из дома в школу шли пятеро  
первоклассников: Петя, Лиза,  
Гриша, Толя, Лариса, и 3  
второклассника: Семен, Стас,  
Ваня. Сколько девочек шли в  
школу?

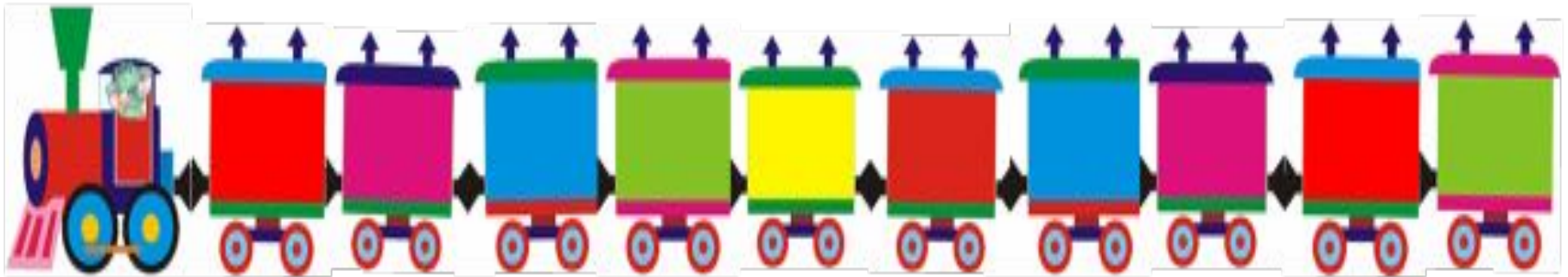


2

**23 декабря**

**Классная работа**


# Схематический рисунок

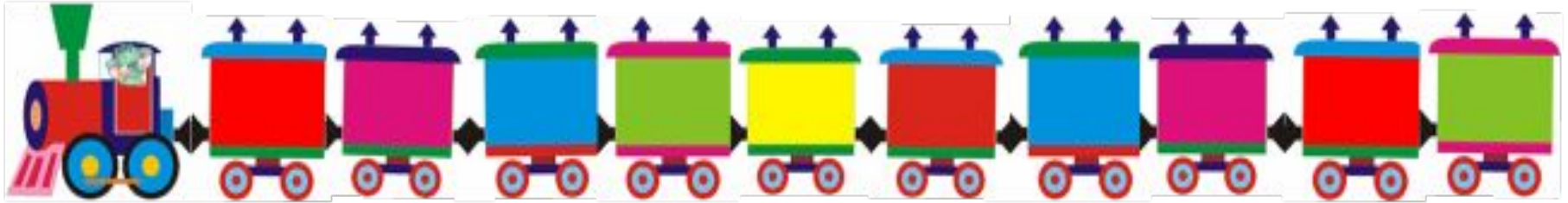




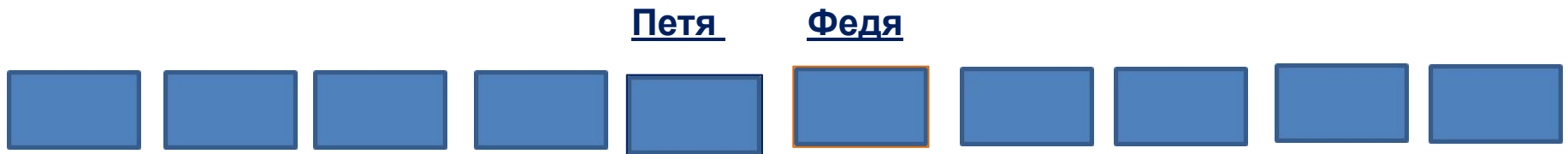
# Схематический рисунок

Петя





# Схематический рисунок





Молодцы!