

Математи ка

1
класс

«Школа
России»

Прозвенел и смолк звонок.

Начинается урок.

Вы на парты посмотрите –

Всё в порядок приведите.

А теперь тихонько сели

На меня все посмотрели.



СИДИ ПРАВИЛЬНО



Посадка «готов к работе»



Посадка при письме

Помогите!



Кто быстрее?



$$\begin{array}{ccccccc} & 1 & + & 5 & + & 1 & \\ + & & & & & & \\ & 2 & - & 3 & = & \text{?} & \end{array}$$

$$\begin{array}{ccccccc} 3 & + & 3 & + & 1 & & \\ & & & & & - & \\ & = & 2 & + & 4 & & \end{array}$$



$$\begin{array}{ccccccc} 2 & + & 2 & + & 2 & & \\ & & & & & + & \\ & = & 2 & - & 3 & & \end{array}$$



$$\begin{array}{ccccccc} 3 & - & 1 & + & 8 & & \\ - & & & & & & \\ 1 & - & 1 & = & \text{?} & & \end{array}$$

Помогите!



предыдущее

2

3

4

последующее

7

8

9

1

2

3

5

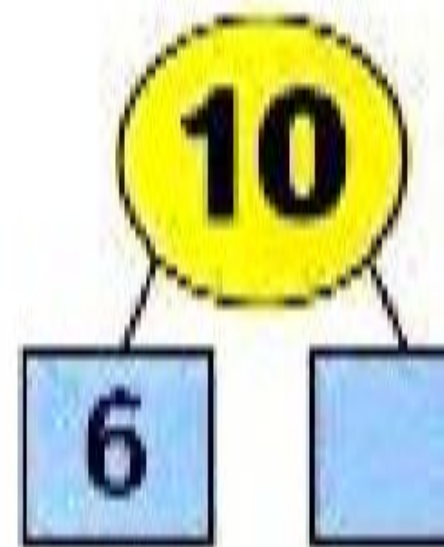
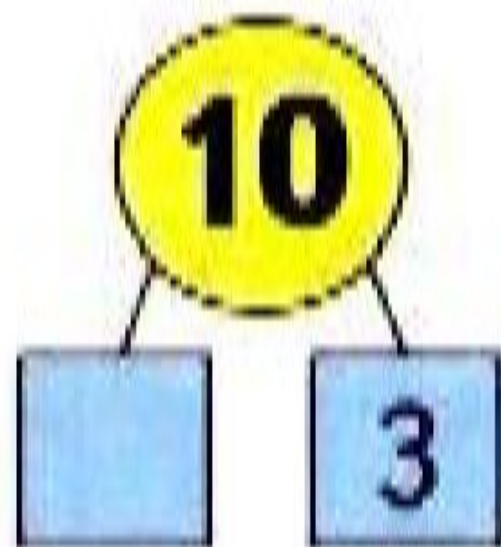
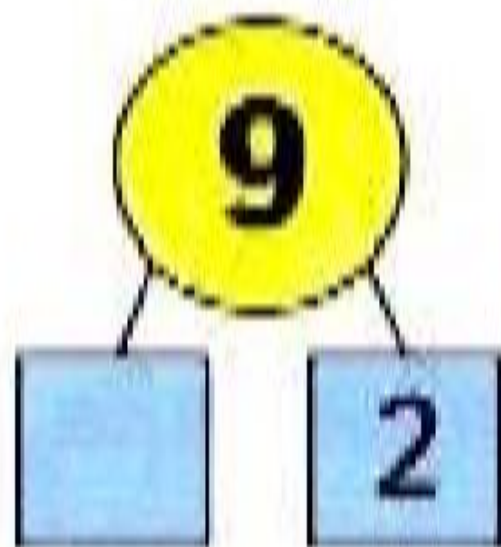

6

7



Помогите!

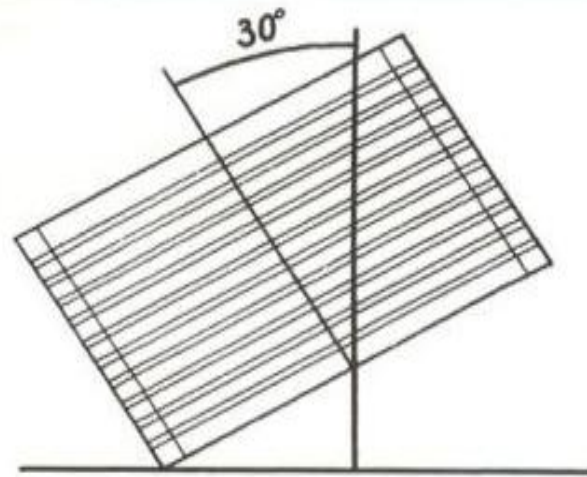


?



Помогите!

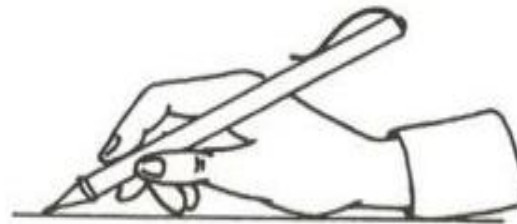





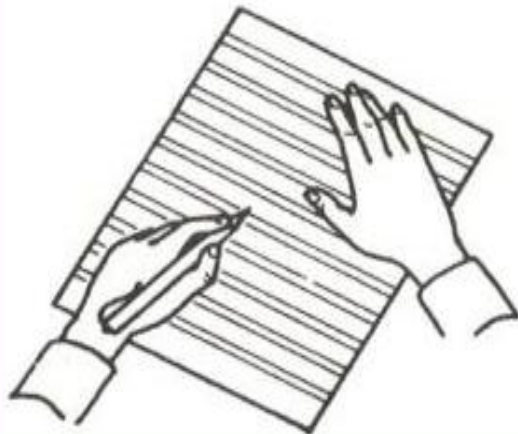
**Я тетрадь свою открою
И наклонно положу.
Я от вас, друзья, не скрою
Ручку я вот так держу.
Сяду прямо, не согнусь,
За работу я возьмусь.**



Левая рука



Правая рука



Тетрадь

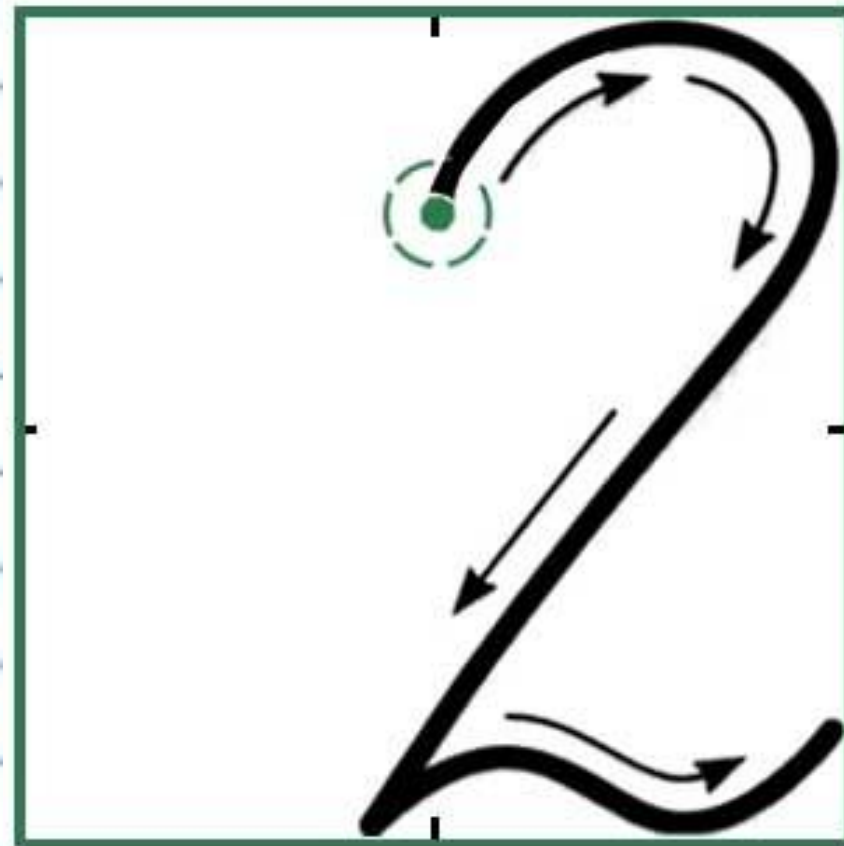
для _____

учени _____ класса _____

_____ школы _____

2 февраля.

2 2 2



Начерти 2 отрезка разной длины так, чтобы длина каждого отрезка была больше 6 см, но меньше 9 см.



The background is a lush green scene with various ferns and purple butterflies. A yellow grid is overlaid on the right side of the image. The word "Помогите!" is written in red, bold Cyrillic letters in the top-left cell of the grid.

Помогите!

первое

второе

значение

слагаемое


слагаемое

суммы

$$\underbrace{X + 1}_{\text{сумма}} =$$

=

3



2

Чтобы найти неизвестное слагаемое, надо...

из суммы вычесть известное слагаемое.



Помогите!



$$x+3=9$$

$$4+x=10$$





Помогите!



Физминутка



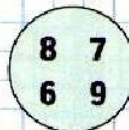
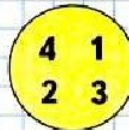
М.И. Моро С.И. Волкова С.В. Степанова

Математика



Часть
2

НАРИСУЙ
УЗОР,
ПРОДОЛЖИ,
РАСКРАСЬ

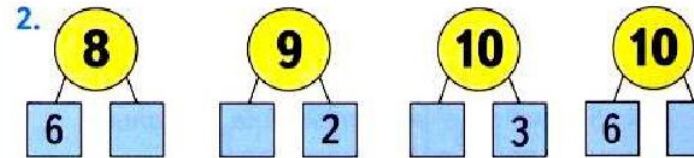


Учимся решать задачи, выполнять вычисления.

1. 1) В коробке 7 конфет, в вазочке 3 конфеты. Сколько всего конфет?



- 2) Всего 8 кубиков. На столе 5 из них. Сколько кубиков в коробке?



$8 - 6 = \square$ $9 - 7$ $10 - 7$ $10 - 6$

3. Вале 7 лет, а её брат на 3 года старше. Сколько лет Валиному брату?

4. Вите 8 лет, а Ваня на 2 года моложе. Сколько лет Ване?


| | | | |
|---------|---------|---------|--------------|
| $2 + 8$ | $9 - 4$ | $6 + 3$ | $10 - 2 + 0$ |
| $1 + 8$ | $9 - 3$ | $6 + 2$ | $10 - 4 + 2$ |
| $0 + 8$ | $9 - 2$ | $6 + 1$ | $10 - 0 - 3$ |

6. Составь одну задачу, в вопросе которой есть слово *больше*, а другую — в условии которой есть слово *меньше*. Реши их.

7. Определи, чем все числа, записанные в зелёном круге, отличаются от чисел, записанных в жёлтом круге.

- ? В вазе — зелёные и красные яблоки, всего 9 яблок. Зелёных яблок 5. Сколько красных яблок в вазе?

Задача 3 (с. 28)

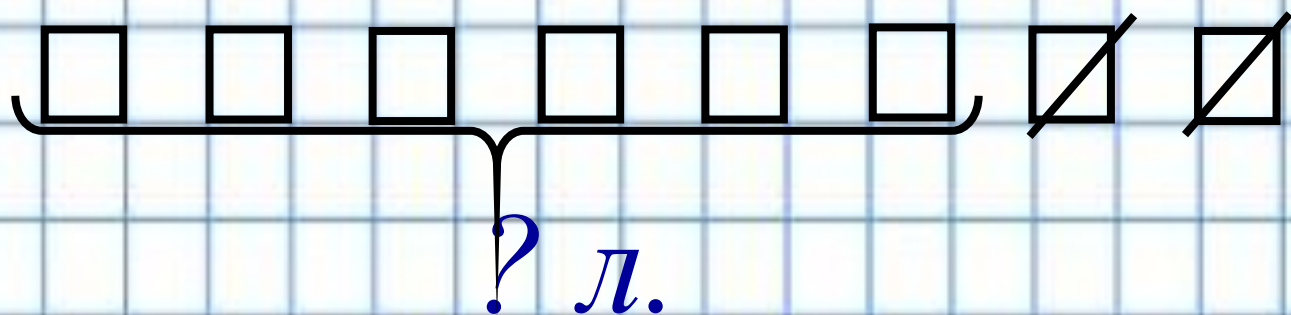


3. Вале 7 лет, а её брат на 3 года старше. Сколько лет Валиному брату?

Помогите!



Задача 4 (с. 28)



4. Вите 8 лет, а Ваня на 2 года моложе.
Сколько лет Ване?

Помогите!

Спасибо!



РЕФЛЕКСИЯ



Мне понятно как ...
Я смогу...



Остались вопросы.
Допускал(а) ошибки.



Было непонятно.
Сделал(а) много ошибок.

