

# Случай вычитания 12-□



	<b>1</b>	
<b>10</b>	<b>1</b>	<b>1</b>
<b>9</b>		<b>2</b>
<b>8</b>		<b>3</b>
<b>7</b>		<b>4</b>
<b>6</b>		<b>5</b>
<b>5</b>		<b>6</b>
<b>4</b>		<b>7</b>
<b>3</b>		<b>8</b>
<b>2</b>		<b>9</b>



12

3

9

4

8

5

7

6

6

7

5

8

4

9

3

10

2





Найди число, которое на 2 меньше, чем

9

10

12

8

2

7

8

10

6

0



Найди число, которое на 3 больше, чем

6

9

7

8

10

9

12

10

11

13



Увеличь числа на 5.

6

8

9

10

7

11

13

14

15

12



Увеличь числа на 6.

6

8

9

10

7

12

14

15

16

13





$$12 - 2 - 3 = 7$$

$$12 - 2 - 7 = 3$$

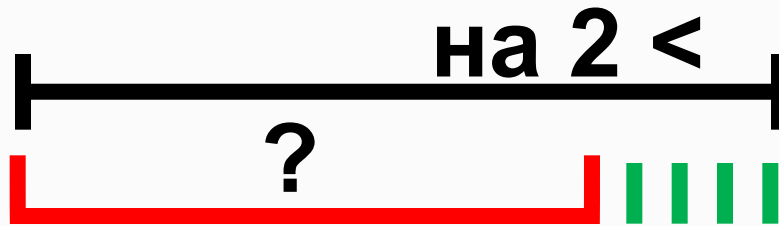
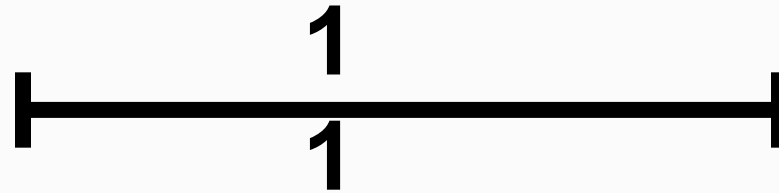
$$13 - 3 - 5 = 5$$

$$13 - 3 - 6 = 4$$

$$8 + 7 - 10 = 5$$

$$6 + 8 - 10 = 4$$







8 м



?

на 6 м >



Оля



5



Лена



9



?



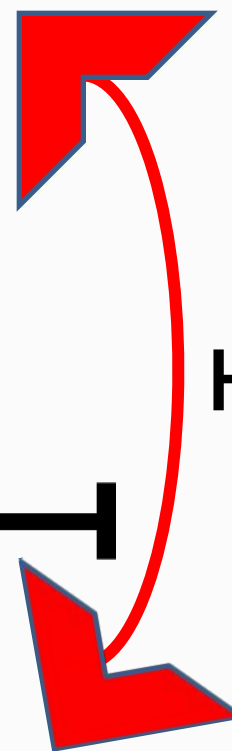
**Рома**

**10** примеров



**Вася**

**7** примеров



на ? >



**Катя**

**10** страниц




**Вера**

**17** страниц



на ? <





12 л



7. Коля выше Пети, но ниже Васи. Кто из них самый высокий? Кто из них ниже всех?



Вася



Коля



Петя





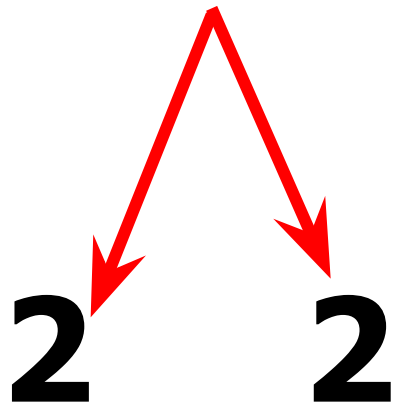


$$\begin{array}{r} 12 - 4 \\ \hline 12 - 2 - 2 \end{array}$$

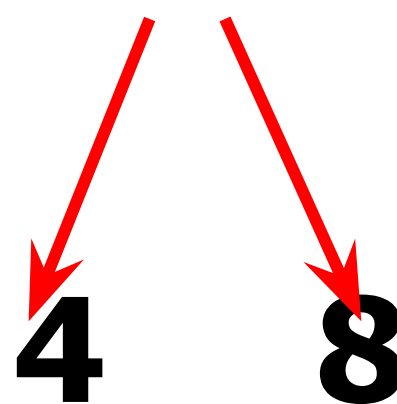


# КАК РАССУЖДАЛИ ПРИ ВЫЧИТАНИИ?

$$12 - 4 = 8$$



$$12 - 4 = 8$$



Вычисли и запомни.

$12 - 3$

$12 - 4$

$12 - 5$

$12 - 6$

$12 - 9$

$12 - 8$

$12 - 7$



2 Дима сделал 7 маленьких лодочек, а больших на 2 лодочки меньше, чем маленьких. Сколько всего лодочек сделал Дима?



5. На диске 6 мультфильмов. Вчера дети посмотрели 3 из них, а остальные сегодня.

Поставь вопрос и реши задачу.



# САМОСТОЯТЕЛЬНАЯ РАБОТА

$12 - 4 =$

$12 - 7 =$

$12 - 3 =$

$11 - 6 =$

