



РЕКИ. ЧАСТИ РЕКИ И РЕЧНАЯ СИСТЕМА. ПИТАНИЕ И РЕЖИМ РЕК



**МБОУ Таловская
СОШ
учитель географии
Асташкина Т.Е.**

СЕГОДНЯ НА УРОКЕ МЫ:

- Узнаем, что такое река;
- научимся находить на карте исток, русло, устье реки;
- Узнаем, что такое речная система, речная долина, бассейн реки;
- рассмотрим питание и режим рек.

озеро

горы

приток

исток

главное
русло

устье

море



Устье – место, где река впадает в другую реку, в озеро или в море. Существуют различные формы устьев: дельты, эстуарии.



Дельта – форма устья реки с протоками, на которые делится река. Дельты образуются при впадении реки, несущей большое количество наносов

Эстуарий – воронкообразное устье реки. Образуется, когда речные наносы уносятся приливно-отливными течениями и их накопление не происходит.

Эстуарий реки Амазонка

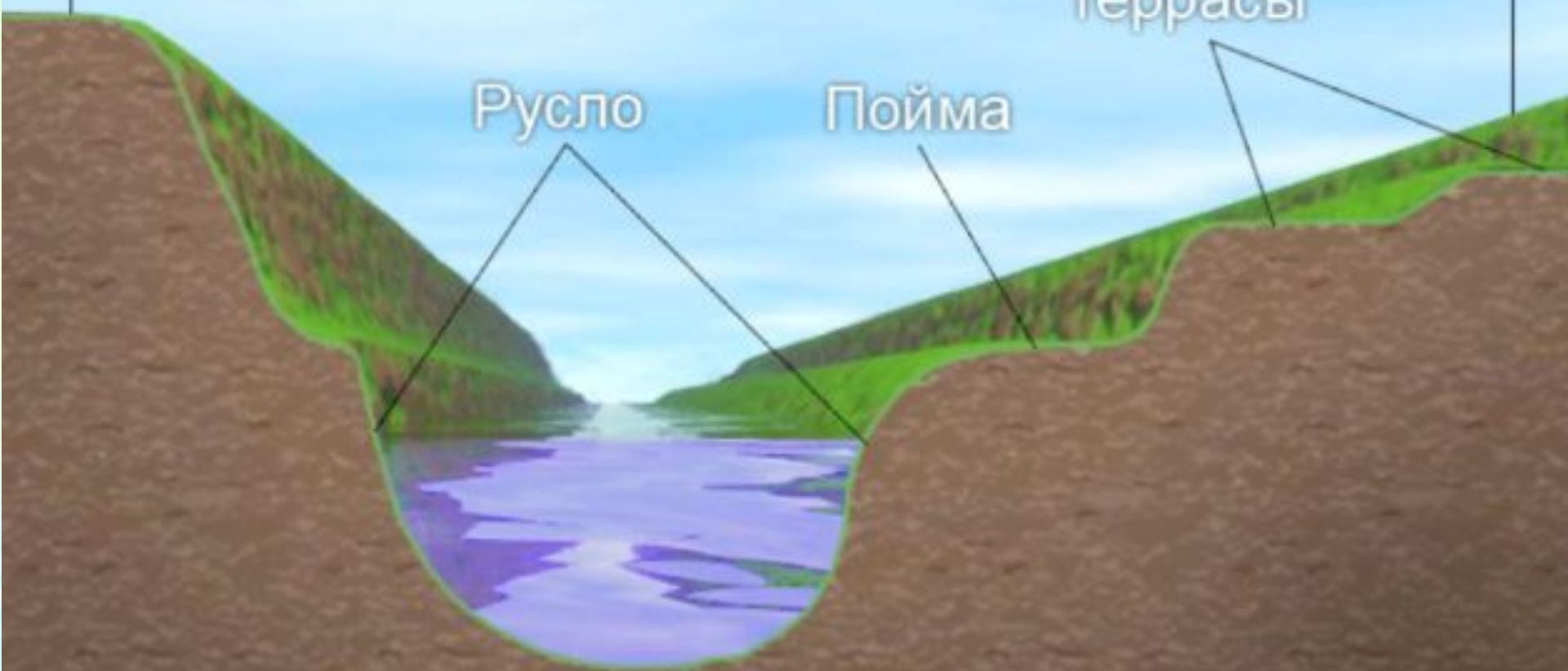


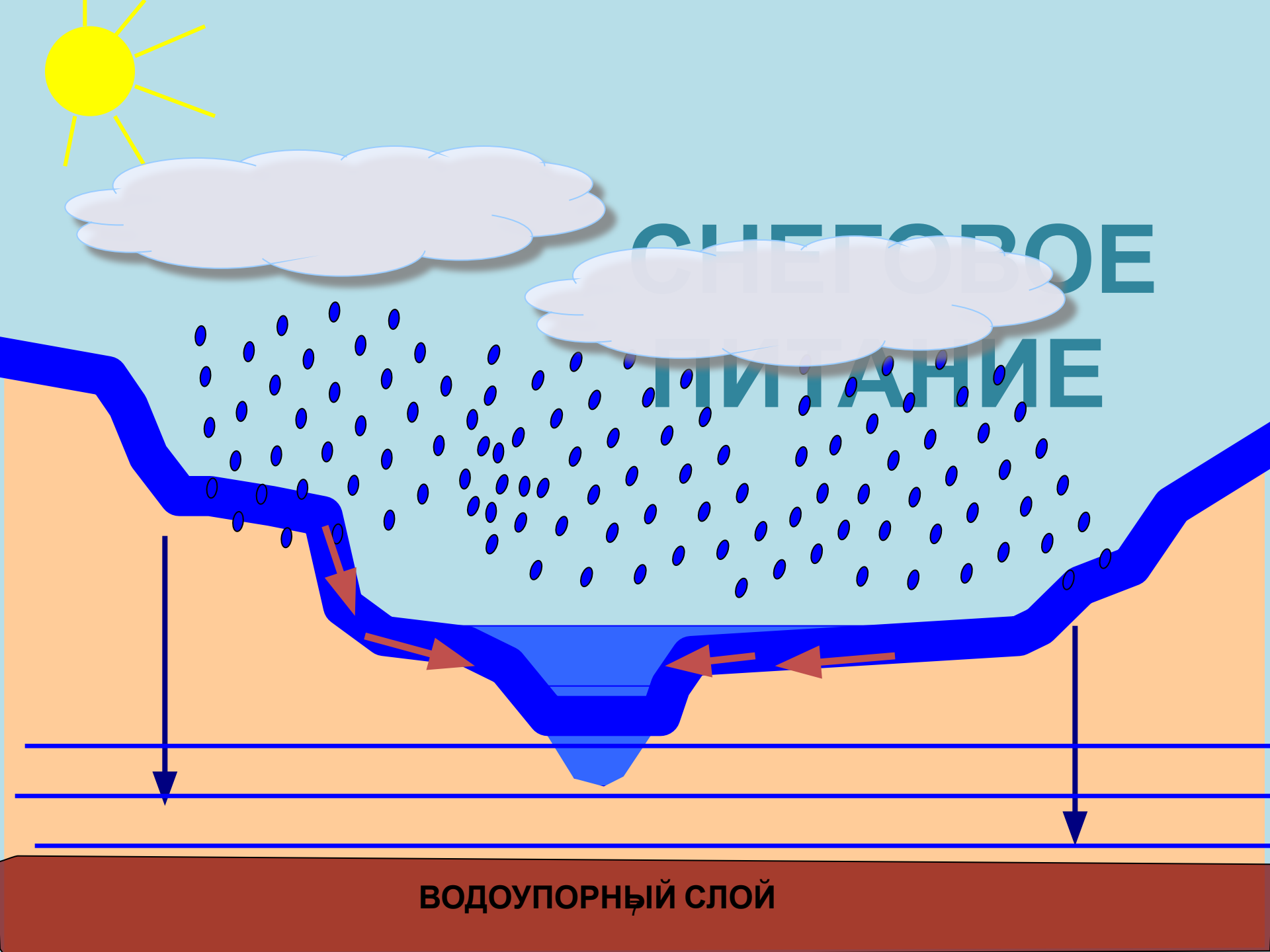
Речная долина

Надпойменные
террасы

Русло

Пойма





СНЕГОВОЕ
ПИТАНИЕ

ВОДОУПОРНЫЙ СЛОЙ

ДОЖДЕВОЕ ПИТАНИЕ




ВОДОУПОРНЫЙ СЛОЙ



ЛЕДНИКОВОЕ ПИТАНИЕ



ВОДОУПОРНЫЙ СЛОЙ



СМЕШАННОЕ ПИТАНИЕ

Водоупорный слой

ТИПЫ РЕК

| Признаки реки | Горная река | Равнинная река |
|---------------|--|---------------------------------------|
| Скорость реки | БЫСТРА | МЕДЛЕНН |
| Долина | Я ГЛУБОКАЯ, УЗКАЯ | АЯ ШИРОКАЯ, ИЗВИЛИСТАЯ |
| Глубина | РЕКА НЕГЛУБОКАЯ, С ПОРОГАМИ | ГЛУБОКАЯ, СУДОХОДН |
| Русло | СЛАБОИЗВИЛИС ТОЕ | ИЗВИЛИСТ АЯ |

Задание

На контурной карте подпишите реки Волга (Ока, Кама), Обь (Иртыш), Енисей(Ангара), Лена, Амур, Амазонка, Нил, Конго, Инд, Миссисипи.



Ваше Д/з:

**§30, задание 2, 3 после §,
самостоятельно описать
по плану (стр. 94) речную систему:**

I вариант – р. Амур;

II вариант – р. Енисей;