


*29 березня*  
*Класна робота*

*Одиниці вимірювання маси*

1 Якими приладами вимірюють масу?  
Які величини вимірюють іншими приладами?



The image shows five distinct objects arranged horizontally. From left to right: a purple and red balance scale; a red triangular set square; a brown alarm clock with two bells; a vertical thermometer with a red liquid column; and a black kitchen scale with a silver weighing pan on top.




1 кг

## Одиниці маси

$$100 \text{ кг} = 1 \text{ ц}$$



1 ц



6 Прочитай у порядку зростання.

1 ц

46 кг

34 кг

25 кг

3 ц

7 кг

88 кг

7 кг 25 кг 34 кг 46 кг 88 кг 1 ц 3 ц

## Задачі

1) Матері 35 років, а дочці 5 років. У скільки разів мати старша за дочку? На скільки років мати старша за дочку?

Мати - 35 р.

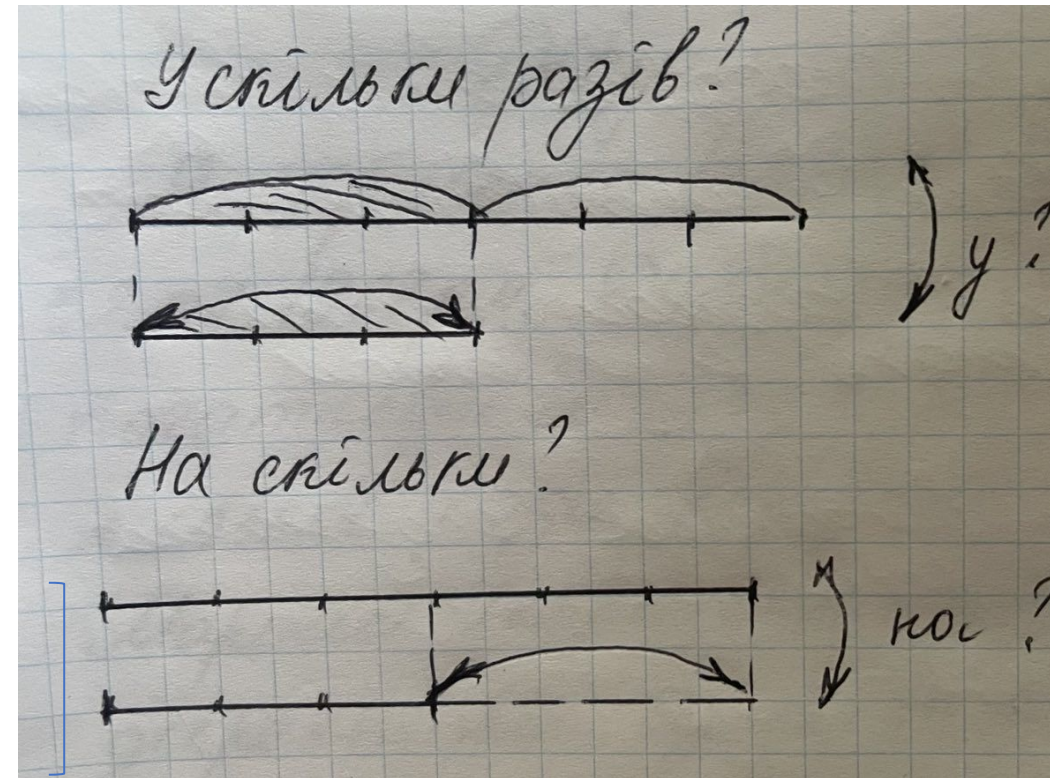
Донька - 5 р.

Розв'язання

$$1) 35 : 5 = 7 \text{ (разів)}$$

$$2) 35 - 5 = 30 \text{ (р.)}$$

Відповідь: у 7 разів старша, на 30 років старша



## *Задача 2*

*Мама купила дочці 3 м тканини ціною по 4 грн. за метр, і в неї ще залишилося 38 грн. Скільки грошей було в мамі?*

*Було - ? грн.*

*Витратила - ? грн. 3 м по 4 грн.*

*Залишилося – 38 грн.*

*Розв'язання*

*1)  $4 * 3 = 12$  ( грн. ) - витратила*

*2)  $38 + 12 = 50$  ( грн. )*

*Вираз:  $38 + 4 * 3 = 50$  ( грн.)*

*Відповідь: 50 гривень було*

### *Задача 3*

*Юннати на одній грядці посадили 3 ряди кущів полуниць, по 8 кущів у ряді, а на другій грядці 4 ряди, по 9 кущів у ряді. Скільки всього кущів полуниць посадили юннати?*

	<i>в 1 р., к.</i>	<i>Кіл – ть: р.</i>	<i>Всього: к.</i>	
<i>I</i>	<i>8</i>	<i>3</i>	<i>?</i>	<i>?</i>
<i>II</i>	<i>9</i>	<i>4</i>	<i>?</i>	

*Розв'язання*

- 
- 
- 

*Вираз:*

*Відповідь:*

*Додому:*

*Задача № 420*

*записати умову  
таблицею (див.  
класну роботу)*

*Завдання № 422*

*скласти вирази і  
розв'язати*

*Завдання № 421*

*записати як задачу*

420. Для робітників побудували 9 будинків по 4 квартири і 5 будинків по 10 квартир. Скільки всього квартир побудували для робітників?

421. Накресли два відрізки: довжина першого 4 см, а другого 12 см. У скільки разів довжина першого відрізка менша, ніж довжина другого? У скільки разів довжина другого відрізка більша, ніж довжина першого?

422. 1) Зменш 54 в 6 раз.

2) Збільш 6 у 7 раз.

3) У скільки разів 6 менше від 48?

4) У скільки разів 36 більше від 9?

5) На скільки одиниць 36 більше, ніж 9?

6) На скільки одиниць 12 менше, ніж 30?