

JEEPARDY!

www.jeopardy.com



©2003 Sony Pictures Television Inc. All Rights Reserved.

Typ 1





A 1

A 2

A 3

A 4

A 5

B 1

B 2

B 3

B 4

B 5

C 1

C 2

C 3

C 4

C 5

D 1

D 2

D 3

D 4

D 5

Разминка 10 баллов



A 1

**Перечислите океаны,
омывающие территорию
Африки**

**Запад: Атлантический,
Восток: Индийский**



A 2

**Какой канал отделяет
Африку от Европы?**

Гибралтарский



А 3

**Какой канал
соединяет Африку с
Евразией**

Суэцкий



A 4

**Назовите единственный
самый большой полуостров
Африки**

Сомали



A 5



**Назовите крупнейший
материковый остров Африки**

Мадагаскар



В 1

**С именем какого
путешественника связано
исследование Африки**

Васко да Гама



В 2

На каком месте Африка по площади?

2



В 3

**Назовите фамилию англ.
Путешественника
исследовавшего внутренние
районы Африки**

Давид Ливингстон



В 4

Везуха!!!

+10 баллов



В 5

**Как называется
наивысшая точка Африки**

Влк. Килиманджаро



С 1

Назовите самую длинную реку
Африки

Нил



С 2

**Назовите самую многоводную
реку Африки, дважды
пересекающую экватор**

Конго





С 3

Как называется самый известный водопад Африки? В честь кого он назван?

- 1. Вдп. Виктория.**
- 2. В честь английской королевы Виктории**




С 4

Самое глубокое озеро
Африки?

Танганьика



С 5



Назовите самую большую
пустыню Африки

Сахара



D 1

Назовите самое мелкое и
пересыхающее озеро Африки

Чад



D 2

Перечислите основные климатические пояса на территории Африки


Экваториальный
Тропический



D 3

Какая природная зона
занимает 40% площади
материка

Саванна





D 4

Как называются горы на северо-западе Африки, располагающиеся на стыке 2-х литосферных плит

Горы Атлас



D 5













**Кому-то везет!
+10 баллов!**



Typ 2





10 	20 	30 	40 
10 	20 	30 	40 
50 	60 	70 	



10

Определите народ по описанию:

Живут в зоне экваториальных лесов, малорослы, цвет кожи очень темный, губы тонкие, широкий нос, коренастые

1. Пигмеи



20

Определите животное по описанию:

1. Крупный хищник семейства кошачьих
2. Развивает очень большую скорость
3. Живут в лесах, горах и даже пустынях

Леопард



30

Определите животное по описанию:

1. Сказочная птица
2. Самая длинная шея и самые длинные ноги
3. Срок жизни 30 лет
4. Удивительно изящная окраска, от самой простой-белой, до изумительной темно-розовой

Фламинго



40

Определите растение по описанию:

- 1.Дерево знаменито своей толщиной
- 2.Толстые и мощные корни
- 3.Цветки появляются на дереве без листьев
- 4.Мякоть плодов- лакомство обезьян
- 5.Листья отваривают и едят как овощи, из них готовят напиток похожий на лимонад
- 6.Из коры получают прочные волокна, из которых изготавливают рыболовные сети, мешки, бумагу и даже одежду

Баобаб



10

Определите растение по описанию:

1. Дает тень, пищу, строительные материалы
2. Плоды заменяют деньги
3. Одно дерево дает до 40 кг плодов
4. Из листьев плетут циновки, корзины
5. Из плодов сочных сортов варят мед
6. Называют «хлебом пустыни»

Финиковая пальма



20

Определите животное по описанию:

1. Самый высокий житель саванн
2. Окраска ярко-желтая с черными пятнами
3. Скорость 60 км/ч
4. Питается листьями деревьев
5. Обладают чутким слухом и острым зрением

Жираф



30

Определить животное по описанию:

1. Животные относятся к падальщикам, но могут нападать и сами
2. Чем то похожа на уродливую собаку, но ближе к кошкам и мангустам
3. Настолько своеобразны, что выделяют в особое семейство

Гиены



40

Определите животное по описанию:

1. Относится к семейству обезьян
2. Живут семьями, во главе стада - вожак
3. Любимая пища - грейпфрут

Шимпанзе



50

Определите географический объект по описанию:

1. Самая жаркая область мира
2. Мощный источник пыли на Земле
3. Безжизненная пустыня

Пустыня Сахара



60

Определите географический объект по описанию:

1. Море в центре Африки
2. Пересыхающее озеро
3. В озере сохранились редчайшие экземпляры животного мира

Озеро Чад



70

Определите страну по краткому описанию:

1. Страна на северо-западе
2. Столица страны повторяет название страны
3. Выращивают виноград, цитрусовые, масличные, фруктовые
4. На северо-западе страны находятся горы, высотой до 1000м
5. Страна богата полезными ископаемыми осадочного и магматического происхождения

Алжир





Thank you for your attention!!

