

Математика 3 класс





Шило Е.А.

Тема урока. « Задачи на увеличение и на уменьшение числа в несколько раз» .

Цели урока.

1. Уметь самостоятельно находить решения, делать выводы, сравнивать. Уметь решать текстовые задачи арифметическим способом.
2. Уметь применять полученные знания. Учащиеся должны уметь использовать приобретенные знания и умения в практической деятельности и повседневной жизни для решения задач, связанных с бытовыми жизненными ситуациями.
3. Создать условия для формирования у учащихся коммуникативных учебных действий.
4. Создание условий для развития интеллекта, мышления, памяти и внимания.





$2 \times 4 + 5 = \square$	$9 \times 3 - 2 = 25 \square$	$6 + 24 : 3 = \square$
$3 + 7 \times 2 = \square$	$4 + 2 \times 3 = 10 \square$	$18 : 6 \times 3 = \square$
$(23 - 18) \times 4 = \square$	$30 + 3 \times (12 - 7) = 45 \square$	$12 : 3 \times (11 - 5) = \square$
$7 + 21 : (13 - 6) = \square$	$60 - (24 + 3) : 3 = 5 \square$	$5 + 3 \times (14 - 8) = \square$
$51 - (32 + 6 \times 3) = \square$	$47 + 4 \times 3 - 18 = 41 \square$	$27 : 9 + 28 = \square$

на больше +
в больше х

на меньше -
в меньше :

Открываем тетради.


Записываем.

15 ноября

Классная работа

Задача

**В пруду плавало 9 гусей,
а уток в 3 раза меньше.
Сколько уток плавало в
пруду?**




Енот-полоскун в естественных условиях живёт 5 лет, а в Зоопарке продолжительность жизни енота увеличилась в 2 раза. Какова продолжительность жизни енота в Зоопарке?



Знаете ли, ВЫ, что продолжительность жизни животных...

Название животных	В естественных условиях	В неволе
Белка 	5 лет	12 лет
Лев 	15 лет	30 лет
Пеликан 	20 лет	50 лет
Жираф 	25 лет	30 лет
Белый медведь 	30 лет	40 лет





















**Реши устно! Выбери
правильный ответ.**

**В одном аквариуме плавало 6
рыбок, а в другом в 2 раза
меньше. Сколько рыбок было в
другом аквариуме?**

$$6 - 2 = 4 \text{ (р.)}$$

$$6 \times 2 = 12 \text{ (р.)}$$

$$6 + 2 = 8 \text{ (р.)}$$

$$6 : 2 = 3 \text{ (р.)}$$

**Продолжительность жизни курицы 6 лет,
а страус живёт в 2 раза больше. Какова
продолжительность жизни страуса?**



Длина тела зайца 45 см, а длина его ушей в 5 раз меньше. Какова длина ушей у зайца?



ИТОГ УРОКА :
На уроке я узнал...
Мне понравилось...
Но было трудно...
Дом.зад.-тетрадь с
п/о стр.34 №5,6

СПАСИБО ЗА УРОК!



Используемые ресурсы:

1. <http://fotochip.ru/foto-zhivotnyx/82-zhiraf-foto.html>

ПЕЛИКАН <http://www.monitor.ekenforum.ru/23232.html>

МЕДВЕДЬ <http://www.cn.ru/terka/Slava-007/?type>

2. http://mediacratia.ru/owa/mc/mc_region_time.html?a_id=12

[317](#) Фотографии животных 7. Заяц.

3. [.](#)

<http://papa-vlad.narod.ru/photo/o-zhivotnykh/V-lesu-1.files/007-Zajats.html>

4. http://blogrider.ru/main_themes/frontpage/7

5. <http://imperium.lenin.ru/LJ/oboguev/2001/8/index2.html>

6. <http://board.battleknight.ru/board18-battleknight>