

Тестовые вопросы к теме №1

Общие положения



Сколько полос для движения имеет данная дорога?

Категория АВМ Билет №2 вопрос №1

1 Две

2 Четыре

3 Пять


В каком случае водитель совершит вынужденную остановку?

Категория АВМ Билет №1 вопрос №1

1 Остановившись непосредственно перед пешеходным переходом, чтобы уступить дорогу пешеходу.

2 Остановившись на проезжей части из за технической неисправности транспортного средства.

3 В обоих перечисленных случаях.



Выезжая с грунтовой дороги на перекресток, Вы попадаете:

Категория АВМ Билет №3 вопрос №1

- 1 На главную дорогу.
- 2 На равнозначную дорогу, поскольку отсутствуют знаки приоритета.
- 3 На равнозначную дорогу, поскольку проезжая часть имеет твердое покрытие перед перекрестком.



Сколько полос для движения имеет проезжая часть данной дороги?

Категория АВМ Билет №4 вопрос №1

- 1 Одну полосу.
- 2 Две полосы.
- 3 Три полосы.



Сколько проезжих частей имеет данная дорога?

Категория АВМ Билет №5 вопрос №1

1 Одну.

2 Две.

3 Четыре.

Что называется разрешенной максимальной массой транспортного средства?

Категория АВМ Билет №6 вопрос №1

1 Максимально допустимая для перевозки масса груза, установленная предприятием изготовителем.

2 Масса снаряженного транспортного средства без учета массы водителя, пассажиров и груза, установленная предприятием изготовителем.

3 Масса снаряженного транспортного средства с грузом, водителем и пассажирами, установленная предприятием изготовителем в качестве максимально допустимой.



Главная дорога показана:

Категория АВМ Билет №10 вопрос №1

- 1 Только на левом верхнем рисунке.
- 2 На левом верхнем и нижнем рисунках.
- 3 На всех рисунках.

Какие транспортные средства относятся к маршрутным транспортным средствам?

Категория АВМ Билет №11 вопрос №1

- 1 Автобусы (в том числе маломестные, междугородние и школьные).
- 2 Автобусы, троллейбусы и трамваи, предназначенные для перевозки людей и движущиеся по установленному маршруту с обозначенными местами остановок.
- 3 Любые транспортные средства, перевозящие пассажиров.



Соответствуют ли действия водителя Правилам, если он движется посередине дороги?

Категория АВМ Билет №13 вопрос №1

- 1 Соответствуют.
- 2 Соответствуют, если отсутствуют встречные транспортные средства.
- 3 Не соответствуют.

Что означает термин «Ограниченная видимость»?

Категория АВМ Билет №14 вопрос №1

- 1 Видимость водителем дороги, ограниченная рельефом местности, геометрическими параметрами дороги, растительностью, строениями, сооружениями или другими объектами.
- 2 Видимость водителем дороги менее 300 м в условиях тумана, дождя, снегопада, а также в сумерки.
- 3 Видимость водителем дороги менее 150 м в ночное время.
- 4 Видимость водителем дороги во всех перечисленных случаях.

Какой неподвижный объект, не позволяющий продолжить движение по полосе, не относится к понятию «Препятствие»?

Категория АВМ Билет №15 вопрос №1

- 1 Дефект проезжей части.
- 2 Посторонний предмет.
- 3 Неисправное или поврежденное транспортное средство.
- 4 Транспортное средство, остановившееся на этой полосе из-за образования затора.

Являются ли тротуары и обочины частью дороги?

Категория АВМ Билет №17 вопрос №1

- 1 Являются.
- 2 Являются только обочины.
- 3 Не являются.

Что означает термин «Обгон»?

Категория АВМ Билет №18 вопрос №1

- 1 Опережение одного или нескольких транспортных средств, связанное с выездом на полосу (сторону проезжей части), предназначенную для встречного движения, и последующим возвращением на ранее занимаемую полосу (сторону проезжей части).
- 2 Опережение одного или нескольких транспортных средств, связанное с выездом из занимаемой полосы.
- 3 Любое опережение одного или нескольких транспортных средств.



Сколько проезжих частей имеет данная дорога?


Категория АВМ Билет №19 вопрос №1

- 1 Одну.
- 2 Две.
- 3 Четыре.

К категории «В» относятся автомобили:

Категория АВМ Билет №37 вопрос №1

- 1 С разрешенной максимальной массой не более 2,5 т и числом сидячих мест, помимо сиденья водителя, не более 8.
- 2 С разрешенной максимальной массой не более 3,5 т и числом сидячих мест, помимо сиденья водителя, не более 8.
- 3 С разрешенной максимальной массой не более 3,5 т и числом сидячих мест, помимо сиденья водителя, не более 16.



Сколько перекрестков изображено на рисунке?

Категория АВМ Билет №22 вопрос №1

- 1 Один.
- 2 Два.
- 3 Четыре.



Сколько пересечений проезжих частей имеет этот перекресток?

Категория АВМ Билет №23 вопрос №1

1 Одно.

2 Два.

3 Четыре.



На каком рисунке изображена дорога с разделительной полосой?

Категория АВМ Билет №25 вопрос №1

1 На обоих.

2 Только на правом.

3 На обоих рисунках дорога с разделительной полосой не изображена.



Выезд из двора или с другой прилегающей территории:

Категория АВМ Билет №26 вопрос №1

- 1 Считается перекрестком равнозначных дорог.
- 2 Считается перекрестком неравнозначных дорог.
- 3 Не считается перекрестком.

Что означает требование уступить дорогу?

Категория АВМ Билет №29 вопрос №1

- 1 Вы должны остановиться только при наличии дорожного знака «Уступите дорогу».
- 2 Вы должны обязательно остановиться, чтобы пропустить других участников движения.
- 3 Вы не должны начинать, возобновлять или продолжать движение, осуществлять какой-либо маневр, если это может вынудить других участников движения, имеющих по отношению к Вам преимущество, изменить направление движения или скорость.




На каком рисунке изображен перекресток?

Категория АВМ Билет №30 вопрос №1

1 Только на левом.

2 Только на правом.

3 На обоих.



Какой маневр намеревается выполнить водитель легкового автомобиля?

Категория АВМ Билет №33 вопрос №1

1 Обгон.

2 Перестроение с дальнейшим опережением.

3 объезд.



Главная дорога показана:

Категория АВМ Билет №34 вопрос №1

- 1 Только на левом верхнем рисунке.
- 2 Только на правом верхнем рисунке.
- 3 На обоих верхних рисунках.
- 4 На всех рисунках.

Что означает термин «Недостаточная видимость»?


Категория АВМ Билет №35 вопрос №1

- 1 Видимость дороги менее 100 м вблизи опасных поворотов и переломов продольного профиля дороги.
- 2 Видимость дороги менее 150 м в ночное время суток.
- 3 Видимость дороги менее 300 м в условиях тумана, дождя, снегопада и т.п., а также в сумерки.

Главной на перекрестке является:

Категория АВМ Билет №36 вопрос №1

- 1 Дорога с твердым покрытием по отношению к грунтовой дороге.
- 2 Дорога с асфальтобетонным покрытием по отношению к дороге, покрытой брусчаткой.
- 3 Дорога с тремя или более полосами движения по отношению к дороге с двумя полосами.



Сколько пересечений проезжих частей имеет этот перекресток?

Категория АВМ Билет №38 вопрос №1

- 1 Одно.
- 2 Два.
- 3 Четыре.