

Контрольная работа

1 полугодие 2 класс

1 ЧАСТЬ


НАЧАТЬ

Соотнеси название с картинкой и выбери правильный ответ

А.



Б.



В.



1. Менгир
2. Дольмен
3. Кромлех

А.-1, Б.-3, В.-3

А.-2, Б.-1, В. 3

А.-3, Б.-1, В.-2

НЕПРАВИЛЬНЫЙ ОТВЕТ



ПРАВИЛЬНЫЙ ОТВЕТ




А. Кромлех



Б. Менгир



В. Дольмен



Соотнеси определение с правильным ответом и выбери
нужный вариант

А. Древний каменный век.

1. Тотемизм

Б. Сооружения из огромных
камней.

2. Стоунхендж

В. Вера в сверхъестественную связь
людей и животных.

3. Палеолит

Г. Место, где находится самый
известный кромлех.

4. Мегалиты


А.-4, Б.-3, В.-2, Г.-1

А.-3, Б.-4, В.-1, Г.- 2

А.-3, Б.-2, В.-1, Г.-4

А.-1, Б.-2, В.-3, Г.-4

НЕПРАВИЛЬНЫЙ ОТВЕТ



ПРАВИЛЬНЫЙ ОТВЕТ

А. Древний каменный век.

3. Палеолит

Б. Сооружения из огромных камней.


4. Мегалиты

В. Вера в сверхъестественную связь людей и животных.

1. Тотемизм

Г. Место, где находится самый известный кромлех.

2. Стоунхендж



Определите тип древнеегипетского храма.




А.



Б.

В.

1. Полусальный храм
2. Скальный храм
3. Наземный храм




А.- 1, Б.-2, В.-3

А.- 3, Б.-2, В.-1.

А.- 2, Б.-1, В.-3.

НЕПРАВИЛЬНЫЙ ОТВЕТ




Правильный ответ




**А. Наземный
храмовый комплекс
в Карнаке**



**Б. Скальный храм
Рамзеса II**



**В. Полускальный
заупокойный храм
царицы Хатшепсут**



2 ЧАСТЬ

Письменно в тетради ответь на вопросы:

1. Что такое ЗИККУРАТ? Какие народы стали их строить первыми?
2. Зарисуй зиккурат, укажи расположение святилища.
3. Как называется шумерская письменность?
4. Что такое АДОРАНТ?
5. Что такое буддийская ступа? Зарисуй ее.
6. Что такое ТОРАНЫ? Что на них изображено?