

Wie spät ist es?



Es ist **punkt 8** Uhr



Es ist **halb** 6 Uhr



Download from
Dreamstime.com

This watermarked comp image is for previewing purposes only.



ID 40642319

© Dmitrii Kiselev | Dreamstime.com

Es ist 5 Minuten **vor** 1 Uhr.



Es ist **15 (Viertel)** Minuten vor 7.





Es ist 10 Minuten **nach** 10 Uhr.

Viertel

punkt










vor

nach

halb



Wie spät ist es?

		
10:40	11:00	10:25
		
3:30	9:10	8:45
		
5:05	11:50	8:30





- Wann (um wie viel Uhr) stehst du auf?
- Ich stehe um 7 Uhr auf.



Wann (um wie viel Uhr) gehst du in die Schule?
Ich gehe in die Schule um 8 Uhr.



Wann gehst du nach Hause?
Ich gehe nach Hause um halb 3 Uhr.

Wann (um wie viel Uhr)?



aufstehen



In die Schule gehen



Die Schule ist zu Ende

Wochentage

www.facebook.com/DeutschesZentrumMadrid/

Am
der

	Montag
	Dienstag
	Mittwoch
	Donnerstag
	Freitag
	Samstag
	Sonntag

вторник
воскресенье
четверг
суббота
понедельник
пятница
выходные
среда

der Donnerstag

der Montag

der Samstag

der Freitag

der Mittwoch

der Sonntag

das Wochenende

der Dienstag