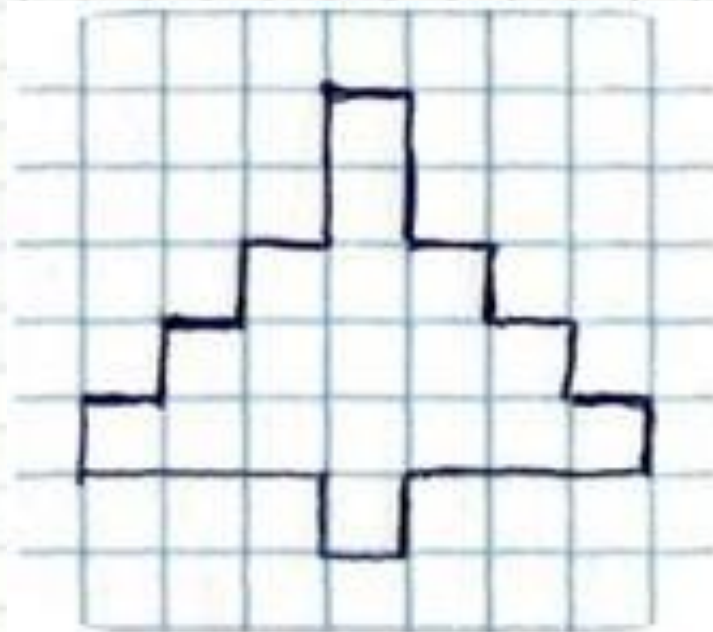




**6 февраля.  
Домашняя  
работа.**

# Графический диктант





## Прибавление числа 2

1. Определи, какое число будет послезавтра, если сегодня:

3  
сентябрь

7  
сентябрь

8  
сентябрь

9  
сентябрь



# Работа по учебнику стр. 36 №3

3. Чтобы к числу прибавить 2, можно назвать по порядку два следующих за ним при счёте числа. Ответом является последнее число.

Складывая, называй два следующих при счёте числа и результат сложения.

$6 + 2$

$4 + 2$

$7 + 2$

$9 + 2$

$8 + 2$


$3 + 2$

$5 + 2$

$2 + 2$




# Самостоятельная работа!



$7 + 2 =$

$3 + 2 =$



$2 + 2 =$

$6 + 2 =$



$1 + 2 =$

$4 + 2 =$

$5 + 2 =$

$0 + 2 =$



# Работа в РТ стр. 25

Кто... выпил?  $\delta = \Sigma$

Какая...  $\Sigma = \Delta$

Юля...  $\Sigma = \Sigma$

Какая...  $\Sigma = \Sigma$

Моло...  $\Sigma = \Sigma$

Как...  $\Sigma = \Sigma$

Око...  $\Sigma = \Sigma$

Ден...  $\Sigma = \Sigma$

	$+ 2$	
2 →		→ 4
6 →		→ 8
4 →		→ 6
9 →		→ 10
0 →		→ 0

11  
2

A cartoon illustration of a girl wearing a red jacket, blue pants with black spots, a black hat with goggles, and a backpack. She is holding a wrench and a gear.

# Сколько тарелок вымыли мама и дочка вместе?

Мам



Доч



ка


$$\boxed{8} + \boxed{2} = \boxed{10} \quad \boxed{(m.)}$$




# Запомни!

- Выучи таблицу «Прибавления числа 2» в учебнике на стр. 39.





– я теперь самостоятельно  
смогу решать такие примеры



– мне нужна помощь в  
решении таких примеров



– мне надо ещё  
потренироваться

Нарисуй себе в тетрадь  
нужную звездочку.