

ОГЭ. Русь в 9-11 веках

- Какое из перечисленных событий произошло в X в.?
 - 1) объединение Новгорода и Киева под властью Олега
 - 2) призвание в Новгород на княжение варягов
 - 3) введение уроков и погостов
 - 4) съезд князей в Любече
-
- Как называлась община земледельцев у восточных славян?
 - 1) вече
 - 2) поместье
 - 3) вервь
 - 4) вотчина

- Установите соответствие между князьями и событиями, произошедшими в годы их княжения: к каждому элементу первого столбца подберите соответствующий элемент из второго столбца.

- **КНЯЗЬЯ**

- А) Олег
- Б) Игорь
- В) Святослав

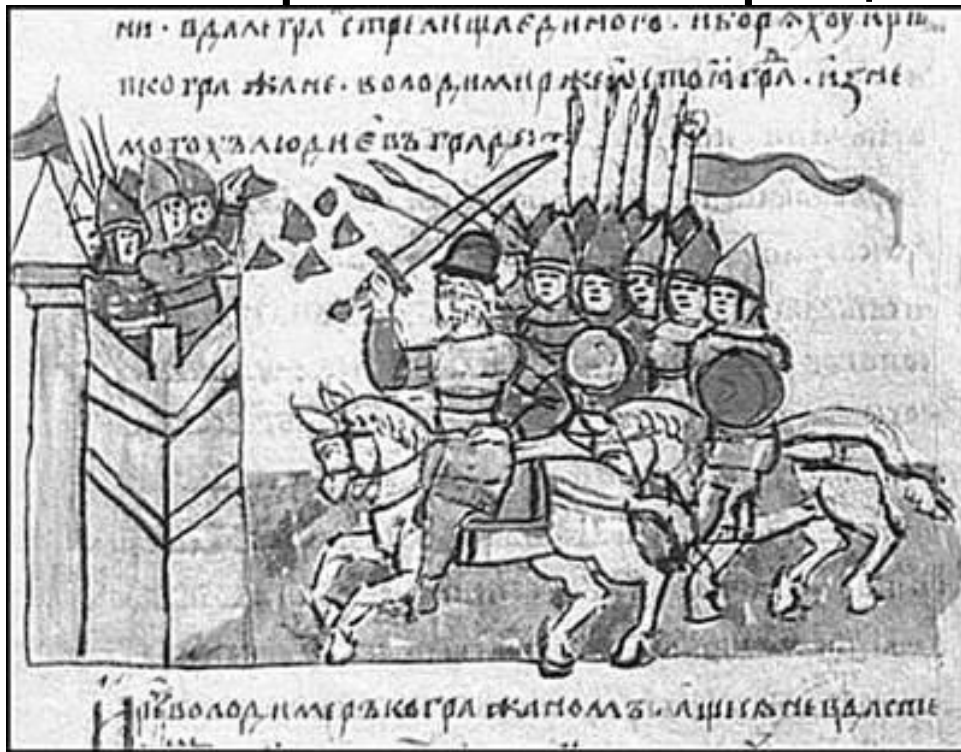
- **СОБЫТИЯ**

- 1) восстание древлян
- 2) разгром Хазарского каганата
- 3) введение уроков и погостов
- 4) объединение Киева и Новгорода под властью одного князя

- Сканы в Древней Руси – это
- 1) изображение, выполненное водяными красками по сырой штукатурке
- 2) картина из вдавленных в сырую штукатурку стекловидных камешков
- 3) техника изготовления ювелирных украшений
- 4) поэтическое сказание о подвигах русских богатырей

- Запишите понятие, о котором идёт речь.
- «Историческое произведение древнерусской литературы, в котором повествование велось по годам».

• Рассмотрите иллюстрацию.



• На иллюстрации представлена

- 1) фреска
- 2) мозаика
- 3) миниатюра
- 4) икона

- Ниже приведён перечень терминов. Все они, за исключением одного, обозначают элементы одежды жителей Древнерусского государства.
- 1) *порты*; 2) *зипун*; 3) *кожух*; 4) *епанча*; 5) *закуп*.
- Найдите и запишите порядковый номер термина, «выпадающего» из данного ряда.

- Прочтите отрывок из сочинения историка и назовите князя, о котором идёт речь.
- «Сквозь красивый туман народного сказания историческая действительность становится видна лишь со времени новгородского князя, который, перейдя с Ильменя на Днепр, покорил Смоленск, Любеч и, основавшись в Киеве на житьё, сделал его столицею своего княжества, говоря, что Киев будет "матерью городов русских". Ему впервые удалось объединить в своих руках все главнейшие города по великому водному пути».
- 1) Рюрик
- 2) Олег
- 3) Игорь
- 4) Святослав

- В каком году, согласно летописному преданию, в Новгород были приглашены на княжение варяги?

- 1) 862 г.
- 2) 945 г.
- 3) 1016 г.
- 4) 1113 г.

- Что из перечисленного стало одной из причин призвания варяжских князей в IX в.?

- 1) межплеменные усобицы на северо-западе восточнославянских земель
- 2) неудачная война Руси с Византией
- 3) набеги печенегов на Русь
- 4) поход Руси на Хазарию

- Запишите слово, пропущенное в схеме.



Существует точка зрения, что, несмотря на наличие особенностей, в деятельности киевских князей Владимира Святославича и Ярослава Мудрого было много общего. Приведите не менее двух фактов, подтверждающих эту общность.

- Прочтите отрывок из летописи и укажите год, когда произошло событие, о котором идёт речь.
- «И с этими всеми пошёл на конях и в кораблях; и было кораблей числом 2000. И пришёл к Царьграду: греки город затворили. И вышел... на берег, и начал воевать... И повелел своим воинам сделать колёса и поставить на колёса корабли. И, когда подул попутный ветер, подняли они в поле паруса и пошли к городу. Греки же, увидев это, испугались и сказали:
"Не губи города, дадим тебе дань, какую захочешь"».
- 1) 882 г.
- 2) 907 г.
- 3) 941 г.



- Событие, в честь которого выпущена данная юбилейная монета, произошло в правление князя
- 1) Игоря Рюриковича
- 2) Святослава Игоревича
- 3) Владимира Святославича
- 4) Ярослава Мудрого

- Расположите в хронологической последовательности исторические события. Запишите цифры, которыми обозначены исторические события, в правильной последовательности в таблицу.
- 1) создание «Повести временных лет»
- 2) Невская битва
- 3) поход князя Олега на Византию
- 4) призвание новгородцами варяжских князей

- Расположите в хронологической последовательности исторические события. Запишите цифры, которыми обозначены исторические события, в правильной последовательности в таблицу.
- 1) создание первой части сборника законов Русская Правда
- 2) Невская битва
- 3) поход князя Святослава на Волжскую Булгарию
- 4) призвание варягов в Новгород

- Как назывался сбор дани князем на Руси?

- 1) полюдье
- 2) соха
- 3) барщина
- 4) десятина

- Расположите в хронологической последовательности исторические события. Запишите цифры, которыми обозначены исторические события,

- в правильной последовательности в таблицу.

- 1) объединение Киева и Новгорода, создание Древнерусского государства
- 2) создание сборника законов Русская Правда
- 3) призвание на княжение варягов
- 4) гибель князя Игоря Старого

- Рассмотрите схему и выполните задание.

Укажите князя, к деятельности которого относится успешный военный поход по маршруту, представленному на схеме.

- 1) Рюрик
- 2) Олег
- 3) Мстислав Великий
- 4) Юрий Долгорукий



Собрав дань с древлян, киевский князь отправился в обратный путь. Однако по дороге князь, поддавшись на уговоры дружинников, принял решение вернуться за дополнительной данью.

- 1. Укажите век, когда произошли описанные события.
- 2. Назовите князя, о котором идёт речь.
- 3. Укажите одно любое последствие принятого князем решения.


- Ниже приведён перечень терминов. Все они, за исключением одного, обозначают жанры древнерусской литературы.
- 1) *житие*; 2) *поучение*; 3) *моление*; 4) *парсуна*; 5) *слово*.

- Какое из перечисленных событий произошло в X в.?
 - 1) призвание на княжение варягов
 - 2) разгром Хазарского каганата
 - 3) образование Древнерусского государства со столицей в Киеве
 - 4) составление первого письменного свода законов Русская Правда

- В каком году состоялся съезд князей в Любече?
 - 1) 882 г.
 - 2) 988 г.
 - 3) 1097 г.
 - 4) 1185 г.

- Прочтите отрывок из летописи и назовите древнерусского князя, к которому были обращены цитируемые далее слова.
- «И послали Киевляне к князю со словами: "Ты, князь, ищешь чужой земли и о ней заботишься, а свою покинул, а нас чуть было не взяли печенеги, и мать твою, и детей твоих. Неужели не жаль тебе своей отчизны, старой матери, детей своих?"»
- 1) Олег Вещий
- 2) Игорь Старый
- 3) Святослав Игоревич
- 4) Владимир Святой

- Укажите вид искусства, представленный на данном изображении



- 1) фреска
- 2) скань
- 3) миниатюр
а

- Установите соответствие между терминами и их определениями : к каждому элементу первого столбца подберите соответствующий элемент из второго столбца.

-

- **ТЕРМИНЫ**

- А) вервь

- Б) смерд

- В) холоп

- **ОПРЕДЕЛЕНИЯ**

- 1) свободный крестьянин

- 2) община

- 3) лицо, заключившее договор с землевладельцем

- 4) крестьянин, взявший ссуду

- Прочтите отрывок из летописи и назовите князя, о котором идёт речь.
- «Заложил <...> город великий, у того же города Золотые ворота; заложил и церковь святой Софии, Премудрости Божьей.
- Он любил книги и, много их написав, положил в церкви святой Софии, которую создал сам. Украсил её иконами бесценными, и золотом, и серебром, и сосудами церковными, и возносятся в ней к Богу положенные песнопения в назначенное время».
- 1) Вещий Олег
- 2) Владимир Святославич
- 3) Ярослав Мудрый
- 4) Методий Редкий



- В каком веке был возведён памятник архитектуры, которому посвящён данный почтовый блок?
- 1) IX в.
- 2) X в.
- 3) XI в.
- 4) XII в.

- Что из перечисленного было одним из следствий крещения Руси?
 - 1) походы Руси на Византию
 - 2) укрепление власти киевского князя
 - 3) начало столкновений Руси с печенегами
 - 4) разгром Хазарского каганата
- Следствием внешнеполитической деятельности князя Владимира Святославича стало
 - 1) прекращение военных походов на Византию
 - 2) ослабление опасности половецких набегов
 - 3) укрепление юго-восточных рубежей Древнерусского государства
 - 4) прекращение натиска крестоносцев на северо-западные русские земли

- Укажите категории зависимого населения Древнерусского государства, к которым относились люди, соглашавшиеся работать на определённых условиях, но зависимое положение которых не распространялось на членов их семей и не передавалось по наследству. Найдите в приведённом списке две категории и запишите цифры, под которыми они указаны.

- 1) бояре
- 2) ремесленники
- 3) рядовичи
- 4) купцы
- 5) закупы

- Расположите в хронологической последовательности исторические события. Запишите цифры, которыми обозначены исторические события,
- в правильной последовательности в таблицу.
- 1) объединение Киева и Новгорода под властью князя Олега
- 2) дунайские походы князя Святослава Игоревича
- 3) призвание на княжение варягов
- 4) введение уроков и погостов

- Запишите термин, о котором идёт речь.
- «Название восточнославянского племенного союза, занимавшего территорию по среднему течению Днепра, племенным центром которого был Киев».



• Какой цифрой на схеме обозначен племенной центр ильменских словен?


- 1) 1
- 2) 2
- 3) 3
- 4) 4

- Запишите понятие, о котором идёт речь.
- «Произведения устного народного творчества и поэтические сказания о прошлом, в которых прославлялись подвиги русских богатырей».

- В каком году произошло крещение Руси?
 - 1) 882 г.
 - 2) 988 г.
 - 3) 1097 г.
 - 4) 1147 г.

- Ниже приведён перечень терминов. Все они, за исключением одного, характеризуют хозяйство восточных славян в VI – IX вв.
- *1) бортничество; 2) перелог; 3) подсечно-огневое земледелие; 4) скотоводство; 5) многопольный севооборот.*
- Найдите и укажите порядковый номер термина, «выпадающего» из данного ряда.

- Не желая более выплачивать дань, жители Приильменя прогнали представителей заморского племени. Сразу же после этого в северных районах расселения восточнославянских племён усилились межплеменные усобицы. Но в итоге жителям Приильменя удалось договориться и принять решение, которое всех устраивало.
- 1. Как в первой русской летописи называются представители заморских племён, которые были изгнаны новгородцами?
- 2. Укажите век, когда произошли описанные события.

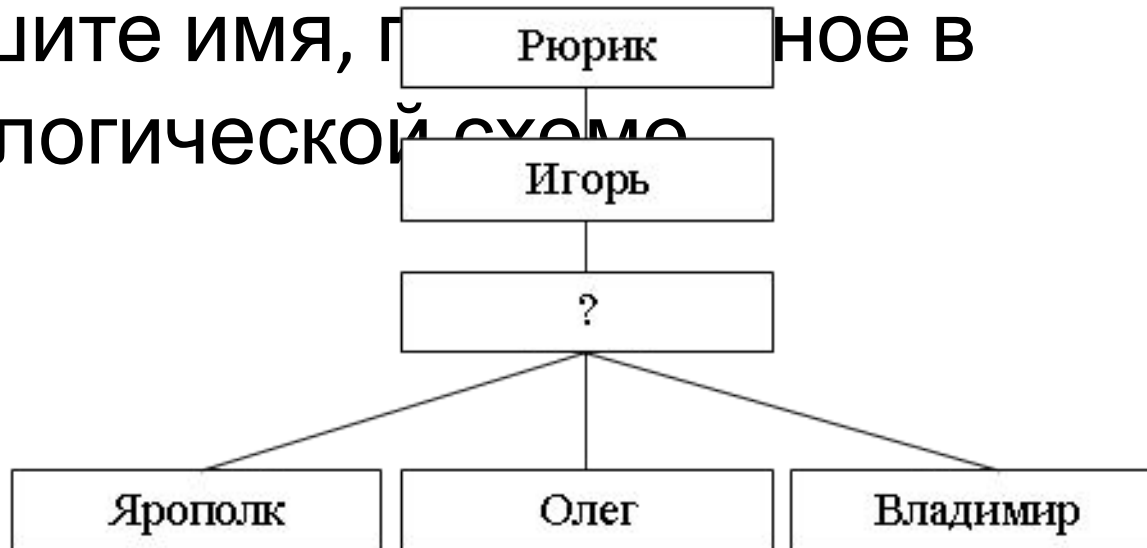


- Укажите город, в котором был возведён памятник, представленный на изображении .
- 1) Новгород
- 2) Киев
- 3) Суздаль
- 4) Москва

- Какое из перечисленных событий относится к XI в.?
 - 1) крещение Руси
 - 2) съезд князей в Любече
 - 3) битва на реке Калке
 - 4) восстание древлян
- Как называлось в Древней Руси отчисление от княжеских доходов в пользу церкви?
 - 1) десятина
 - 2) барщина
 - 3) вира
 - 4) подать

- Существует точка зрения, что внутриполитическая и внешнеполитическая деятельность киевского князя Владимира Святославича и его деда, князя Игоря, имела существенные различия. Приведите не менее двух фактов, положений, подтверждающих эти различия.

- Запишите имя, пропущенное в генеалогической схеме





- Укажите князя, изображённого на иллюстрации.
- **1) Олег Вещий**
- **2) Игорь Рюрикович**
- **3) Святослав Игоревич**
- **4) Владимир Святославич**

- Киевская княгиня жестоко расправилась с древлянами. Затем она изменила систему сбора дани, установив «уроки» и «погосты».
- 1. Укажите век, когда произошли данные события.
- 2. Назовите княгиню, о которой идёт речь.
- 3. Укажите причину проведения княгиней налоговой реформы.

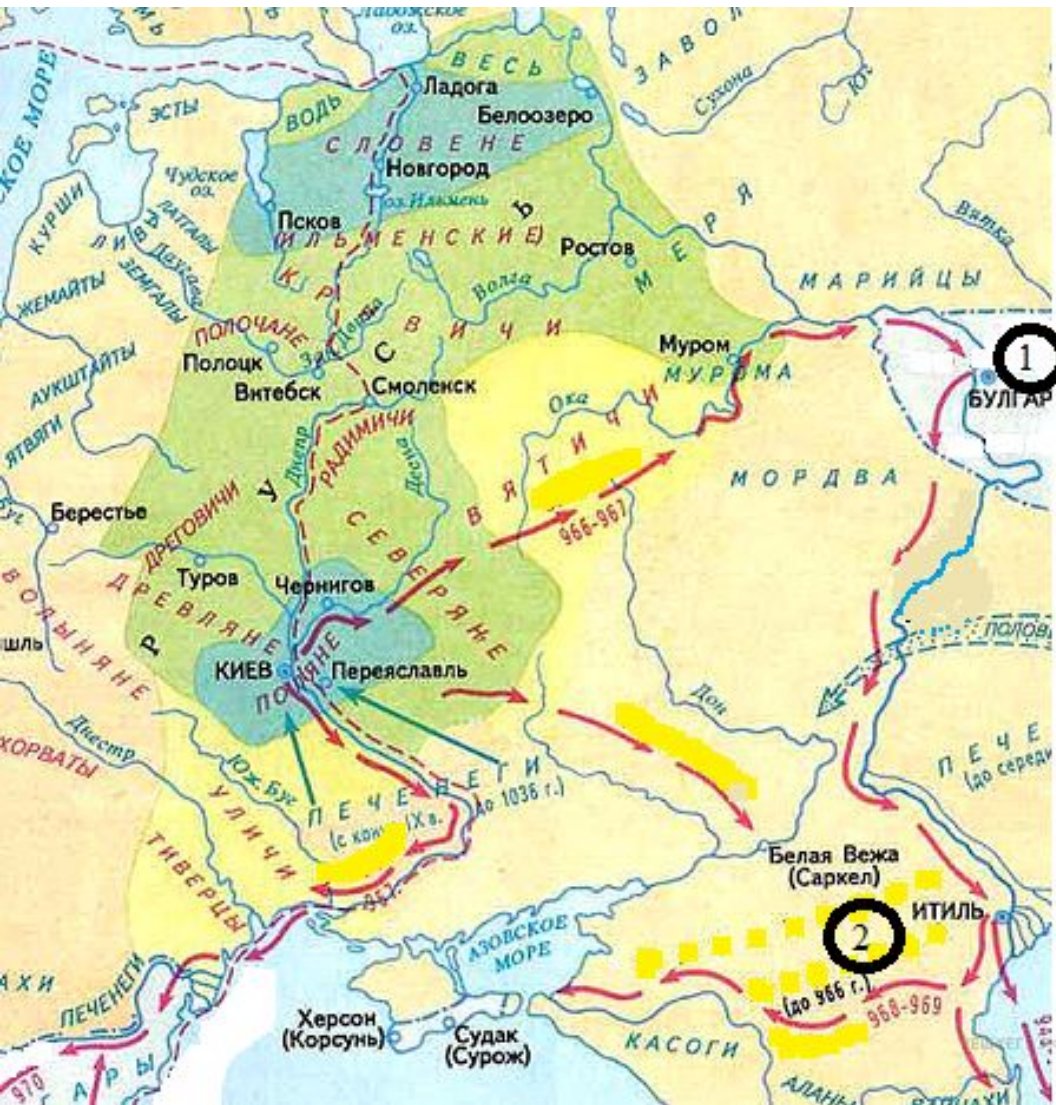
- Ниже приведён перечень городов. Все они, за исключением одного, входили в состав Древнерусского государства.
- 1) *Смоленск*; 2) *Полоцк*; 3) *Тмутаракань*; 4) *Тобольск*; 5) *Переяславль*.
- Найдите и запишите номер, которым обозначен город, не входивший в состав Древнерусского государства.

- Вам поручено подготовить развёрнутый ответ по теме «Влияние принятия христианства на развитие древнерусской культуры». Составьте план, в соответствии с которым Вы будете освещать эту тему.
- План должен содержать не менее трёх пунктов. Напишите краткое пояснение содержания любых двух пунктов.
- План с пояснениями должен отразить основные явления (события), связанные с влиянием принятия христианства на развитие древнерусской культуры.
-
- *Если Вы затрудняетесь в составлении плана, который бы полностью раскрывал данную тему, то можете выбрать один из существенных вопросов (разделов, направлений, проблем) темы.*
- *Напишите заголовок плана по выбранному Вами вопросу (разделу, направлению, проблеме) и составьте план, раскрывающий его содержание, соблюдая все требования к количеству пунктов*

- Следствием активной военной деятельности князя Святослава Игоревича стало
- 1) расширение границ Древнерусского государства
- 2) прекращение набегов половцев
- 3) объединение Киева и Новгорода под властью одного князя
- 4) прекращение военных походов на Византию

- Ниже приведён перечень терминов. Все они, за исключением одного, обозначают категории населения Древнерусского государства, находившиеся в полной или частичной зависимости.
- 1) *челядин*; 2) *рядович*; 3) *закуп*; 4) *купец*; 5) *холоп*.





- Назовите имя великого Киевского князя, чьи завоевательные походы указаны стрелками.

- Установите соответствие между князьями и событиями, произошедшими во время их княжения: к каждому элементу первого столбца подберите соответствующий элемент из второго столбца.

- **КНЯЗЬЯ**

- А) Олег Вещий
- Б) Владимир Святославич
- В) Ярослав Мудрый

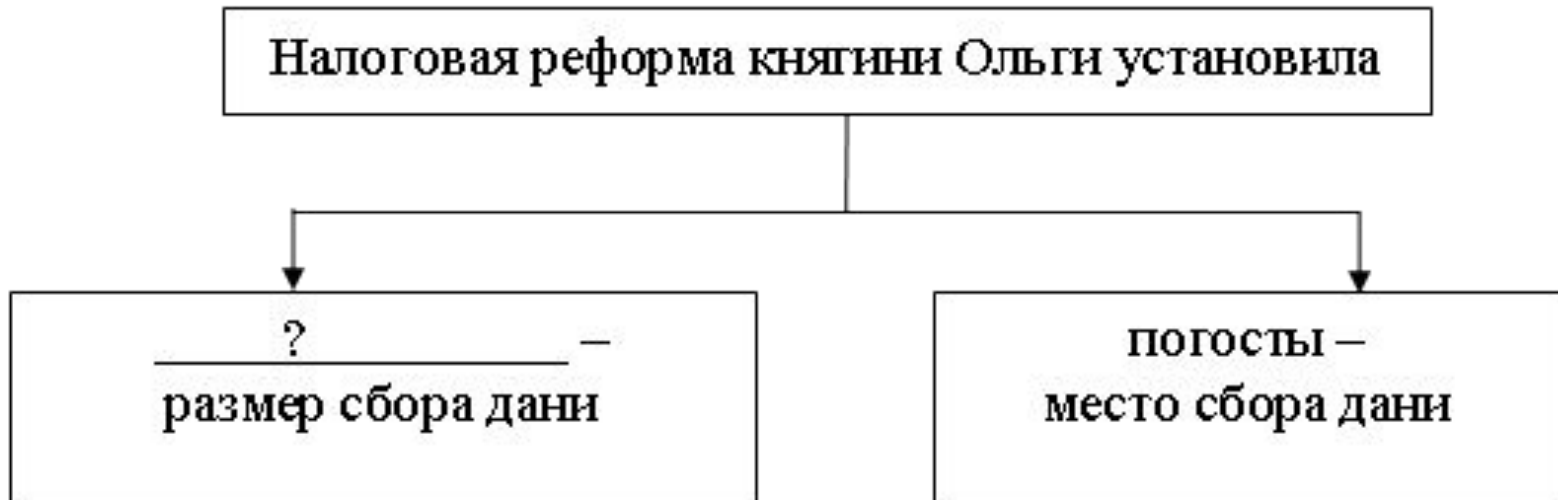
- **СОБЫТИЯ**

- 1) принятие Русью христианства
- 2) разгром Хазарского каганата
- 3) составление первой части Русской Правды
- 4) объединение Киева и Новгорода под властью одного князя
- Запишите в таблицу выбранные цифры под соответствующими буквами

- Ниже приведён перечень терминов. Все они, за исключением одного, характеризуют общественный строй восточных славян накануне образования Древнерусского государства.
- *1) вервь; 2) вече; 3) союзы племен; 4) народное ополчение; 5) уроки.*
-
- Найдите и укажите порядковый номер термина, «выпадающего» из данного ряда.

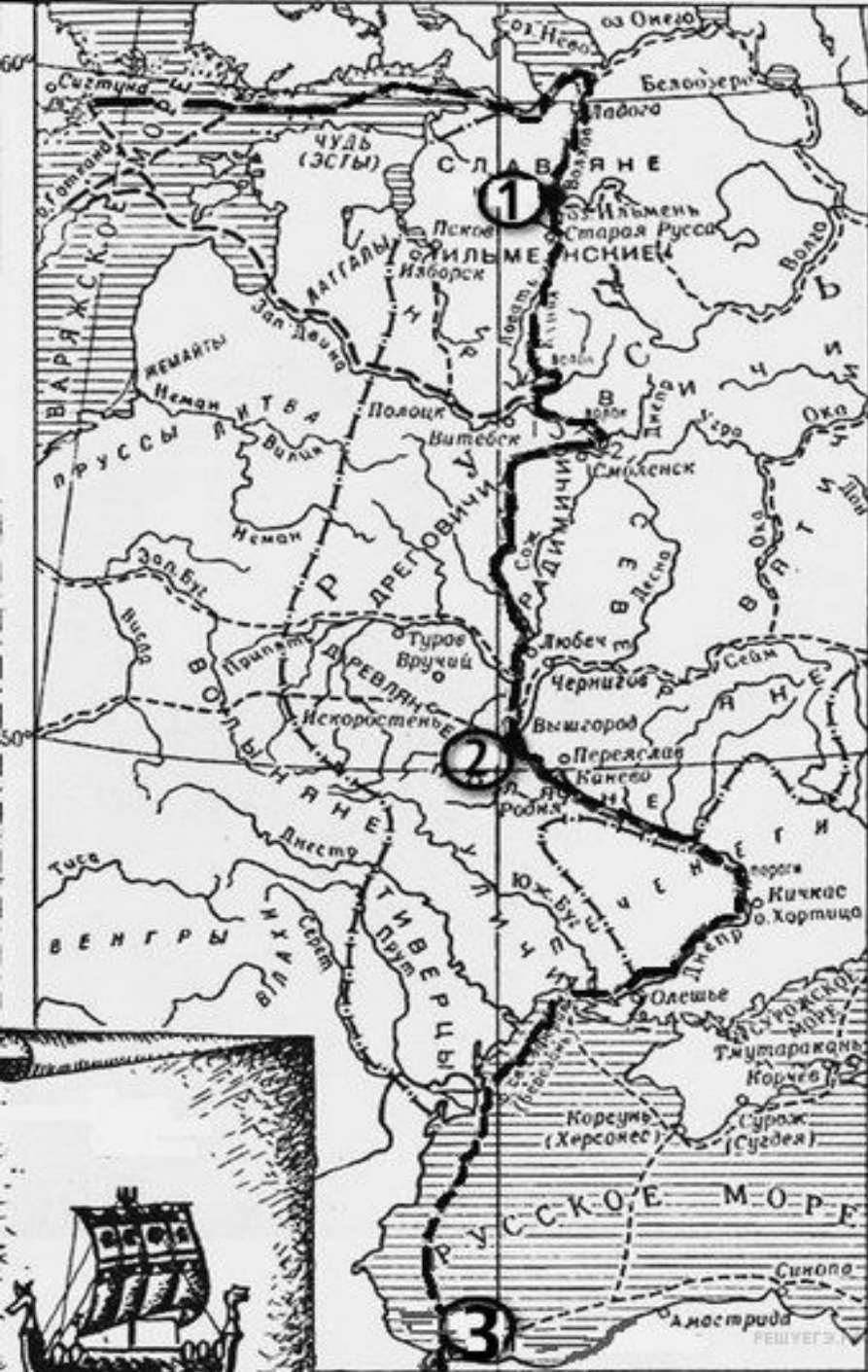
- Несмотря на некоторое сходство, внешняя политика киевских князей Олега Вещего и Святослава Игоревича различалась. Приведите не менее двух фактов, положений, подтверждающих это различие.

Запишите слово, пропущенное в схеме.



- Установите соответствие между князьями и событиями, произошедшими в годы их княжения: к каждому элементу первого столбца подберите соответствующий элемент из второго столбца.
- **КНЯЗЬЯ**
- А) Олег
- Б) Игорь
- В) Святослав
- **СОБЫТИЯ**
- 1) крещение Руси
- 2) битва под Доростолом
- 3) восстание древлян, приведшее к гибели киевского князя
- 4) заключение первого письменного договора с Византией
- Запишите в таблицу выбранные цифры под соответствующими буквами.

- «Призвание первых князей имеет великое значение в нашей истории, есть событие всероссийское, и с него справедливо начинают русскую историю. Главное, начальное явление в основании государства – это соединение разрозненных племён чрез появление среди них сосредоточивающего начала, власти. Северные племена, славянские и финские, соединились и призвали к себе это сосредоточивающее начало, эту власть. Здесь, в сосредоточении нескольких северных племён, положено начало сосредоточению и всех остальных племён, потому что призванное начало пользуется силою первых сосредоточившихся племён, чтоб посредством их сосредоточивать и другие, соединённые впервые силы начинают действовать».
- В чём автор видит значение призвания первых князей? Укажите не менее двух положений.
- Под каким названием вошло в историю легендарное событие, описанное в отрывке? Укажите год, когда оно произошло. Кто, согласно описанной в отрывке версии, явился родоначальником первой княжеской династии?



- Напишите название отмеченного на карте пути.

«После переселения на _____ равнину у восточных славян сохранялся первое время родовой строй. Связанные кровным родством, члены рода подчинялись старейшинам, которые имели большую власть.

В особо важных случаях вопросы, имевшие большое значение для жизни всего племени, родовые старейшины решали, собираясь на совете.

В процессе освоения восточными славянами огромных территорий от Карпатских гор на западе до Средней Оки и верховьев Дона на востоке, от Невы и Ладожского озера на севере до Среднего Поднепровья на юге постепенно ослабевала связь между родами. С течением же времени начинают распадаться и сами роды, из которых выделяются самостоятельные семьи. Вместо коллективного хозяйства, результатами которого пользовался весь род, у каждой семьи появляется своё особое индивидуальное хозяйство. Выделение семьи как отдельного хозяйствующего субъекта предопределило постепенное прекращение существования коллективной родовой собственности и замену её собственностью семейной.

Хозяйства, разбросанные на больших расстояниях, объединялись в случае необходимости решения общих вопросов или для совместных дел уже не на основе кровнородственных связей, а по территориальному принципу (с соседями), вне зависимости от того, являлись они родственниками или просто проживали на одной территории. Так как родовладыка не мог управлять сразу всеми хозяйствами семей, входивших ранее в его род, ведь теперь они были разбросаны на больших расстояниях, его власть переставала действовать, и усиливалась роль отца каждого отдельного семейства. Важнейшие вопросы решались теперь на народном собрании, куда входили отцы семейств, проживавших по соседству на определённой территории. Таким образом, у восточных славян на смену родовой общине пришла территориальная, или соседская, община».

Укажите пропущенное в тексте название равнины, с освоением которой связаны изменения в

«После переселения на _____ равнину у восточных славян сохранялся первое время родовой строй. Связанные кровным родством, члены рода подчинялись старейшинам, которые имели большую власть.

В особо важных случаях вопросы, имевшие большое значение для жизни всего племени, родовые старейшины решали, собираясь на совете.

В процессе освоения восточными славянами огромных территорий от Карпатских гор на западе до Средней Оки и верховьев Дона на востоке, от Невы и Ладожского озера на севере до Среднего Поднепровья на юге постепенно ослабевала связь между родами. С течением же времени начинают распадаться и сами роды, из которых выделяются самостоятельные семьи. Вместо коллективного хозяйства, результатами которого пользовался весь род, у каждой семьи появляется своё особое индивидуальное хозяйство. Выделение семьи как отдельного хозяйствующего субъекта предопределило постепенное прекращение существования коллективной родовой собственности и замену её собственностью семейной.

Хозяйства, разбросанные на больших расстояниях, объединялись в случае необходимости решения общих вопросов или для совместных дел уже не на основе кровнородственных связей, а по территориальному принципу (с соседями), вне зависимости от того, являлись они родственниками или просто проживали на одной территории. Так как родовладыка не мог управлять сразу всеми хозяйствами семей, входивших ранее в его род, ведь теперь они были разбросаны на больших расстояниях, его власть переставала действовать, и усиливалась роль отца каждого отдельного семейства. Важнейшие вопросы решались теперь на народном собрании, куда входили отцы семейств, проживавших по соседству на определённой территории. Таким образом, у восточных славян на смену родовой общине пришла территориальная, или соседская, община».

Найдите в последнем абзаце и выпишите предложение, содержащее положение, которое

«Продвижение славян по бескрайним просторам Восточной Европы было длительным процессом заселения и освоения пустующих или редко заселённых земель. Таким образом, это продвижение имело характер мирной _____ . Восточнославянские племена испытывали значительное влияние проживавших по соседству со славянами племён и народов.

С древних времён в северном лесном крае от Балтийского моря до Уральских гор жили финно-угорские племена; на северо-западе обитали племена балтов, а на юге – потомки ираноязычного скифо-сарматского населения. С течением времени многие балтские и финно-угорские племена "растворились" среди славян. Славяне же заимствовали у своих соседей названия многих рек, озёр, селений. Вслед за финнами они стали верить в злых духов, волшебников.

Большое влияние на славян оказали и потомки ираноязычного скифо-сарматского населения. Многие иранские слова прочно вошли в древнеславянский язык и сохранились в современном русском языке ("бог", "топор", "собака" и др.). Иранские имена имели и некоторые славянские божества – Хорос, Стрибог, а Перун – имя балтского происхождения».

-
- В первом абзаце найдите и выпишите предложение, содержащее положение, которое подтверждается фактами, приведёнными в тексте. Укажите не менее двух фактов, приведённых в тексте, с помощью которых можно подтвердить данное положение.
-
- Укажите название процесса расселения славян, пропущенное в отрывке.

«В первое время своей жизни на Ильмене и Днепре наши предки жили "каждый своим родом и на своих местах, владея каждый родом своим". Родовые старейшины, по этому определению летописца, имели большую власть в своём роде; а сойдясь вместе на совет (вече), они решали дела за всё своё племя. Но так бывало только в особо важных случаях, например в минуты общей опасности, грозившей всему племени. С течением же времени, когда племена и роды расселились на больших пространствах, не только ослабела связь между родами, но распадалась и самые роды, поделившись на самостоятельные семьи. Каждая отдельная семья на просторе заводила свою особую пашню, имела свои особые покосы, особо охотилась и промышляла в лесах. Общая родовая собственность переставала существовать, когда расходились семьи, составлявшие род. Она заменялась собственностью семейною. Точно так же переставала действовать и власть родовладыки: он не мог управлять сразу всеми хозяйствами родичей, потому что эти хозяйства были разбросаны на больших расстояниях. Власть родовладыки переходила к отцу каждой отдельной семьи, к домовладыке.

С распадением родовых связей родичи перестали чувствовать своё взаимное родство и в случае нужды соединялись для общих дел уже не по родству, а по соседству. На общий совет (вече) сходились домохозяева известной округи, и родные друг другу, и неродные одинаково. Соединённые одним каким-нибудь общим интересом, они составляли общину и избирали для ведения общих дел выборных старейшин. Так древнейшее родовое устройство заменялось постепенно общинным».

Во втором абзаце найдите и выпишите предложение, содержащее утверждение, обоснования которого приводятся в тексте. Укажите не менее двух фактов, приведённых в первом абзаце, с помощью которых можно обосновать указанное утверждение.

«В первое время своей жизни на Ильмене и Днепре наши предки жили "каждый своим родом и на своих местах, владея каждый родом своим". Родовые старейшины, по этому определению летописца, имели большую власть в своём роде; а сойдясь вместе на совет (вече), они решали дела за всё своё племя. Но так бывало только в особо важных случаях, например в минуты общей опасности, грозившей всему племени. С течением же времени, когда племена и роды расселились на больших пространствах, не только ослабела связь между родами, но распадалась и самые роды, поделившись на самостоятельные семьи. Каждая отдельная семья на просторе заводила свою особую пашню, имела свои особые покосы, особо охотилась и промышляла в лесах. Общая родовая собственность переставала существовать, когда расходились семьи, составлявшие род. Она заменялась собственностью семейною. Точно так же переставала действовать и власть родовладыки: он не мог управлять сразу всеми хозяйствами родичей, потому что эти хозяйства были разбросаны на больших расстояниях. Власть родовладыки переходила к отцу каждой отдельной семьи, к домовладыке.

С распадением родовых связей родичи перестали чувствовать своё взаимное родство и в случае нужды соединялись для общих дел уже не по родству, а по соседству. На общий совет (вече) сходились домохозяева известной округи, и родные друг другу, и неродные одинаково. Соединённые одним каким-нибудь общим интересом, они составляли общину и избирали для ведения общих дел выборных старейшин. Так древнейшее родовое устройство заменялось постепенно общинным».

Укажите общее название племён, с которых идёт речь в тексте. Как

- Вам поручено подготовить развёрнутый ответ по теме «Восточные славяне». Составьте план, в соответствии с которым Вы будете освещать эту тему.
- План должен содержать не менее трёх пунктов. Напишите краткое пояснение содержания любых двух пунктов.
- План с пояснениями должен отразить основные события (явления), связанные с восточнославянскими племенами.
- *Если Вы затрудняетесь в составлении плана, который бы полностью раскрывал данную тему, то можете выбрать один из существенных вопросов (разделов, направлений, проблем) темы.*
- *Напишите заголовок плана по выбранному Вами вопросу (разделу, направлению, проблеме) и составьте план, раскрывающий его содержание, соблюдая все требования к количеству пунктов плана и пояснений*