



*Дистанционный урок в 5 классе*  
*Тема урока: Сложение и*  
*вычитание трёхзначных чисел*

Математику, друзья  
Не любить никак  
нельзя.

Очень точная наука,  
Очень строгая наука,  
Интересная наука -  
Эта **математика!**



# УСТНЫЙ счет



Какое число следует при счете  
за числом:

48  
3

50  
1

53  
0

48  
0

70  
0

81  
1



Какое число предшествует  
при счете числу:



# Расскажите все, что знаете о числе 360:

- трехзначное;
- 3 сот., 6 дес.;
- предыдущее – 359;
- последующее – 361



Вычисли и расшифруй название сказки. Что ты замечаешь?

А  $\begin{array}{r} 29 + \\ 1 \end{array}$

$\begin{array}{c} 3 \\ 0 \end{array}$

Ш  $\begin{array}{r} 5 + \\ 45 \end{array}$

$\begin{array}{c} 5 \\ 0 \end{array}$

К  $\begin{array}{r} 37 + \\ 3 \end{array}$

$\begin{array}{c} 4 \\ 0 \end{array}$

У  $\begin{array}{r} 8 + \\ 52 \end{array}$

$\begin{array}{c} 6 \\ 0 \end{array}$

О  $\begin{array}{r} 71 + \\ 9 \end{array}$

$\begin{array}{c} 8 \\ 0 \end{array}$

Е  $\begin{array}{r} 12 + \\ 6 \end{array}$

$\begin{array}{c} 1 \\ 8 \end{array}$

З  $\begin{array}{r} 86 + \\ 4 \end{array}$

$\begin{array}{c} 9 \\ 0 \end{array}$

Н  $\begin{array}{r} 36 - \\ 4 \end{array}$

$\begin{array}{c} 3 \\ 2 \end{array}$

Л  $\begin{array}{r} 7 \\ 6 \end{array}$

$\begin{array}{c} 7 \\ 0 \end{array}$

90	80	70	60	50	40	30
З	О	Л	У	Ш	К	А



# Смекалка

Один оборот вокруг Земли спутник делает за 1 ч 40 минут, а другой - за 100 минут. Как это может быть?  
**1 ч 40 мин = 100 мин**

Шла Маша в город, а навстречу ей три старушки, у каждой по два мешка, в каждом мешке по кошке. Сколько всего человек шло в город?**Один. Это Маша**

Пара лошадей пробежала 40 км. Сколько километров пробежала каждая лошадь?**По 40 км**

Тёмной ночью в сильный дождь ехал автобус. Какой был номер этого автобуса и какое из колёс у него не крутилось?**Мокрый; не крутилось запасное**



**Молодцы!**



# Работа в тетради



# Запиши цифрами числа:

двести девяносто четыре 294

четыреста двадцать три 423

пятьсот шестьдесят 560

триста восемь 308

сто семьдесят девять 179

# Вырази:

$$720\text{см} = \boxed{7} \text{ м } \boxed{2} \text{ см}$$


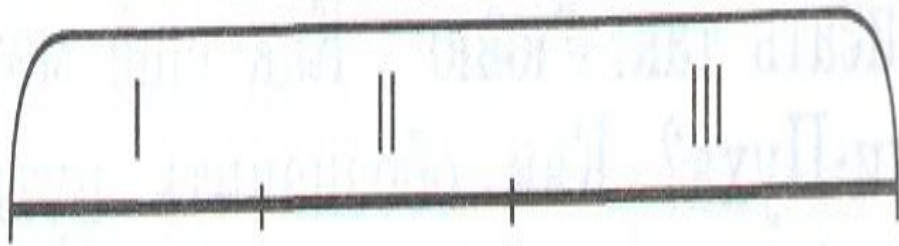
$$5\text{м } 4\text{дм} = \boxed{54} \text{ дм}$$

$$8\text{м } 3\text{см} = \boxed{803} \text{ см}$$

$$73\text{дм} = \boxed{7} \text{ м } \boxed{3} \text{ дм}$$

4

В трёх домах на Тюльпановой улице живёт 438 малышей. В первом доме живёт 108 малышей, во втором доме – на 15 малышей больше, чем в первом. Сколько малышей живёт в третьем доме?



## Задача

- В парке посадили 217 дубов, 326 лип и 78 тополей. Сколько всего деревьев посадили?



# Задача

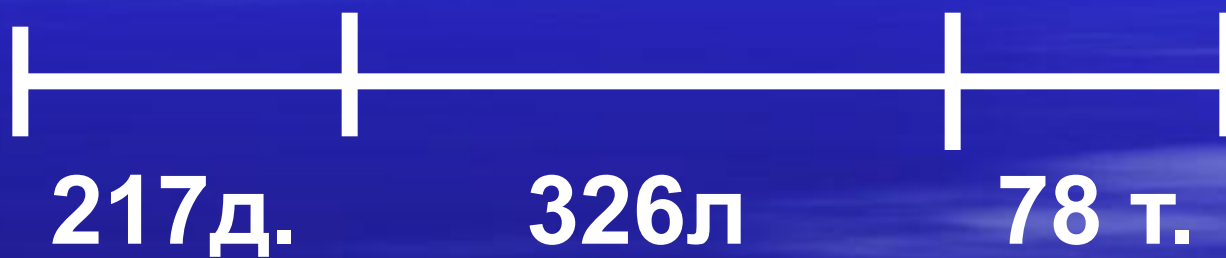


# Задача № 3(а)





# Задача



# Задача

?



Проверь себя.

$$\begin{array}{r} \phantom{+} 217 \\ + 326 \\ \phantom{+} 78 \\ \hline 621 \end{array} \quad (\text{Д.})$$

Ответ: 621 дерево посадили.

Спасибо за урок!